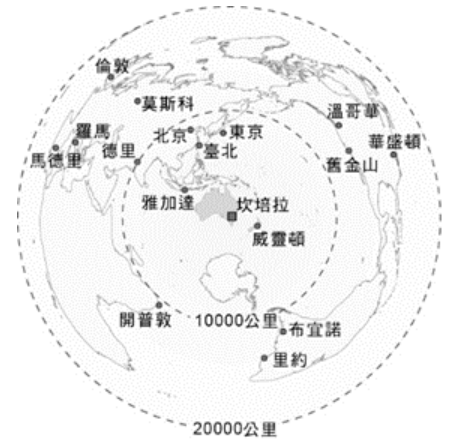


使用電腦回收卡(請從 51 題開始畫卡~100 題)

一、單一選擇題：(11 小題，每題 2 分，共 22 分)

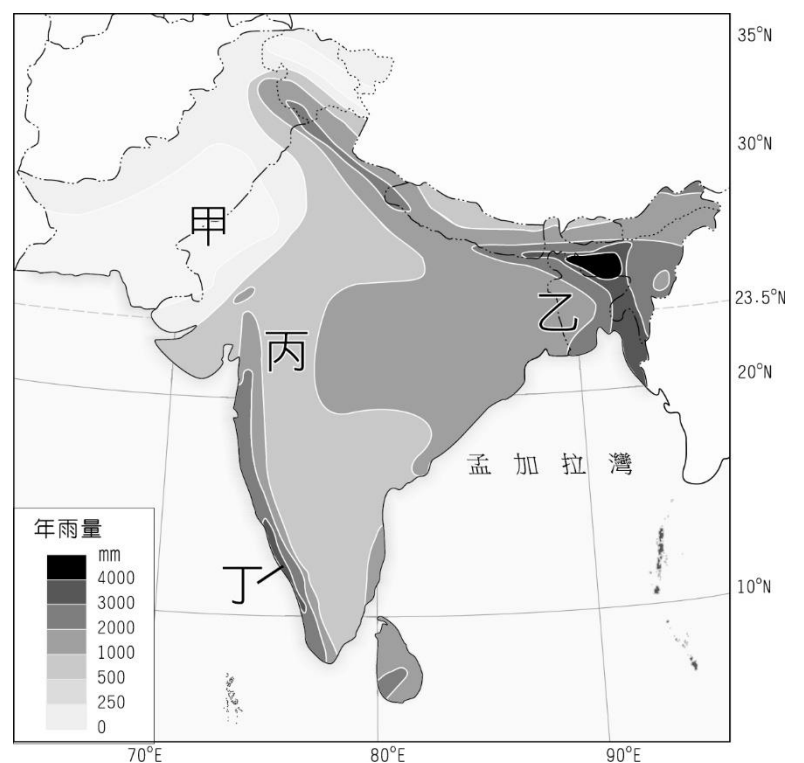
- ( ) 印度及巴基斯坦經常發生武裝衝突，雙方的角力使南亞的區域和平蒙上一層陰影。這兩國衝突的主要原因為何？(甲)民族；(乙)宗教；(丙)主權；(丁)階級。(A)甲乙 (B)甲丁 (C)乙丙 (D)丙丁
- ( ) 圖為坎培拉和世界主要都市的距離。下列關於該圖的解讀，何者正確？(A)坎培拉與臺北、東京同一時區 (B)坎培拉與北極點相距距離最遠 (C)坎培拉為世界大洋航運中心 (D)坎培拉與各大都市的距離相對較遠
- ( ) 關於澳洲農業發展的條件，哪些正確？(甲)位於馬緯度無風帶，氣候乾燥，促成粗放的畜牧業；(乙)降水的分布明顯受到山脈和東北季風之影響；(丙)冷凍科技革新，促成畜牧產品的大量輸出；(丁)南北半球的農產供應與市場需求具季節互補性；(戊)原住民的傳統知識大幅提升農產附加價值 (A)甲乙戊 (B)甲丙丁 (C)乙丙丁 (D)丙丁戊
- ( ) 大洋洲第二大淡水湖為火山爆發後形成的巨大火山口，積水形成的一座湖泊，外形像是顆心臟，其壯闊程度不可言喻，即使是現在仍可見到滾燙、冒著熱氣的噴口，還能在湖邊的沙灘上撿到「浮石」。以上敘述的湖泊最可能位於下列何處？(A)紐西蘭南島 (B)紐西蘭北島 (C)塔斯馬尼亞島 (D)澳洲艾爾斯岩
- ( ) 茶葉同為印度與斯里蘭卡兩國重要的外銷產品，下列何者為兩國的茶葉生產的共同特性？(A)均以紅茶為主要外銷產品 (B)產地均分布在平原地區 (C)產地的宗教信仰多以耆那教為主 (D)產地氣候均為熱帶雨林氣候
- ( ) 近年印度資訊科技產業興起，為印度帶來發展契機。請問下列何者為印度發展資訊科技產業的條件？(甲)完整的基礎設施；(乙)充足的資金和技術；(丙)較低廉的勞工工資；(丁)具數理能力的優秀人才；(戊)與美國矽谷時差半天。(A)甲乙丙 (B)甲丙戊 (C)乙丙丁 (D)丙丁戊
- ( ) 由於多元文化的影響，印度宗教色彩濃厚，下列有關印度各宗教的敘述，何者正確？(A)印度教在當地最為盛行，為雅利安人所創建的一神信仰 (B)佛教發源自印度，因而成為當地第二大宗教 (C)錫克教強調人人平等，主要分布於印度西北旁遮普地區 (D)伊斯蘭教由殖民者傳入，盛行於沿海和東北部山區
- ( ) 印度最乾爽宜人的季節，主要盛行風為何？(A)東北季風 (B)東南季風 (C)盛行西風 (D)東南信風
- ( ) 孟加拉是世界上最容易發生水災的地區之一，哪些自然因素導致當地水患頻仍？(甲)沖積扇範圍廣大；(乙)三角洲地勢低平；(丙)熱帶氣旋；(丁)西南季風。(A)甲乙丙 (B)甲乙丁 (C)甲丙丁 (D)乙丙丁
- ( ) 澳洲已簽訂或談判中的 FTA，亞洲國家及地區即占了七成左右，紐西蘭已生效的 FTA 也是以亞洲為主。上述現象主要是受下列何項因素影響？(A)地緣關係接近 (B)資源具互補性 (C)皆為南島語族 (D)在亞太地區國際分工中提供市場
- ( ) 某國被稱作「騎在羊背上的、坐在礦車上的、手持麥穗的國家」，此國的觀光業也相當發達。請問此國所訴求的旅遊特色應為下列何者？(A)雪國風光 (B)歷史古國 (C)高山體趣 (D)生態之旅



二、題組題：(12 小題，每格 2 分，共 78 分)

■1.南亞面積遼闊，受地形及季風的影響，降水分布相當不均，附圖為印度半島的雨量分布圖，請問：

- ( ) (12)印度半島的降雨大致上由東向西遞減，影響降雨量多寡的最主要因素為下列何者？(A)西南季風持續時間的長短 (B)東北季風力道的強弱 (C)熱帶氣旋發生的頻率 (D)地形高低起伏的程度
- ( ) (13)農業發展與氣候息息相關，下列各地的農業活動何者正確？(A)甲—茶葉 (B)乙—黃麻 (C)丙—水稻 (D)丁—棉花
- ( ) (14)印度人口眾多，語言複雜，宗教類別與內涵相當豐富多樣，引人入勝。下列有關印度的敘述，正確的為？(甲)世界古文明的發源地之一；(乙)為佛教和伊斯蘭教的發源地；(丙)曾受英國殖民統治；(丁)貧窮人口雖多，但種姓制度成功縮小貧富差距；(戊)人口紅利的優勢

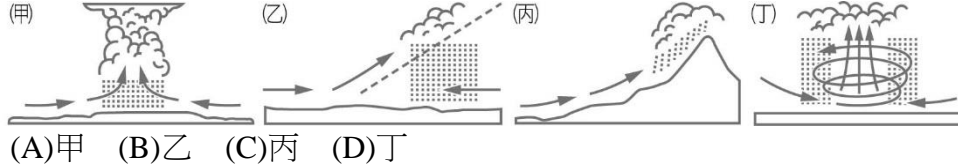


成為印度發展的契機之一。(A)甲乙丙 (B)甲丙戊 (C)乙丙戊 (D)丙丁戊

■2.印度乞拉朋吉曾於1860年8月~1861年7月間累積26,461毫米降雨量，也因此獲得了「世界雨極」這個稱號，其中六、七兩個月的降雨就占了全年的降雨量近乎一半，1961年7月也曾創下史上單月降雨量最多9,300毫米的記錄。請問：

( ) (15)附圖為印度半島剖面圖，乞拉朋吉位於圖中何處？(A)甲 (B)乙  
(C)丙 (D)丁

( ) (16)當地最主要的降雨類型為下列何者？



(A)甲 (B)乙 (C)丙 (D)丁

( ) (17)乞拉朋吉曾創下「史上單月降雨量最多」的記錄，此一記錄與下列何種地理概念最為相近？(A)降雨分布不均 (B)降雨總量多 (C)雨量變率大 (D)降雨強度高

( ) (18)印度目前為全球資訊技術和商業流程委外服務 (IT BPO) 最主要的基地，跨國企業將企業流程的某些部門外包給印度，其最主要的目的為何？(A)增加資金流動 (B)加強國際交流 (C)減少環境汙染 (D)降低勞力成本

( ) (19)承上題，請問印度成為科技業的熱門外包地點，原因為何？(甲)原料產量豐富；(乙)人力資源品質佳；(丙)物流運輸效率佳；(丁)以英語為溝通語言；(戊)與歐美時差優勢。(A)甲乙戊 (B)甲丙戊 (C)乙丁戊 (D)丙丁戊

( ) (20)哪兩個南亞的國家利用地形優勢，使水力發電成為主要出口品項？(甲)印度；(乙)孟加拉；(丙)不丹；(丁)馬爾地夫；(戊)尼泊爾。(A)甲丙 (B)乙丁 (C)丙戊 (D)丁戊

■3.圖為澳洲的簡圖，請根據該圖回答下列問題：

( ) (21)綿延約2,600公里，世界上最長的珊瑚礁群最可能位於圖中何地？(A)甲 (B)乙 (C)丙 (D)丁

( ) (22)I地為北領地的首府，也是當地重要的海港。若僅考慮降雨季節的分布，則最適宜在下列哪一段時間前往該地，較不易受到降雨影響？(A)1~2月 (B)3~4月 (C)7~8月 (D)11~12月

( ) (23)I地雨季的降雨成因為何？(A)迎東南信風 (B)東澳暖流影響 (C)間熱帶輻合區移入 (D)盛行西風帶移入



■4.2013年7月臺灣與紐西蘭完成簽署《臺紐經濟合作協定》，是臺灣與紐西蘭兩國在WTO（世界貿易組織）組織的架構下，以會員身分締結的自由貿易協定。此為臺灣首次與非邦交國和已開發國家簽署的經貿協定。《臺紐經合協定》實施以來，彼此間貿易持續成長。請問：

( ) (24)紐西蘭是個經貿高度自由化的國家，下列有關該國的介紹何者正確？(A)太平洋島國論壇主導國家 (B)東南亞國協成員國之一 (C)種族單一文化同質性高 (D)以工礦產業為發展主軸的國家

( ) (25)此協定簽署後對臺灣帶來的好處可能有下列哪些？(甲)臺灣廠商至紐國的投資限制減少；(乙)臺灣對紐國出口值提高，該國立即成為臺灣主要出口前10名國家；(丙)臺灣消費者更方便買到喜歡的紐西蘭食品，譬如奇異果；(丁)有助於紐西蘭進口牛肉售價的下降 (A)甲乙丙 (B)甲乙丁 (C)甲丙丁 (D)乙丙丁

■5.澳洲將1月26日這個歐洲人首次登上澳洲大陸的日子定為澳洲國慶日，但對於澳洲的原住民來說，則是白人入侵的日子。示威者在各大城市發起遊行，抗議國慶活動，要求澳洲人「付房租」。請問：

( ) (26)澳洲的原住民族大約在四萬年前由何地遷入澳洲？(A)玻里尼西亞 (B)美拉尼西亞 (C)密克羅尼西亞 (D)加拉巴哥群島

( ) (27)澳洲政府曾經採取哪一政策而嚴重傷害原住民族文化社會？(A)同化政策 (B)種族隔離政策 (C)多元文化政策 (D)城鄉分隔政策

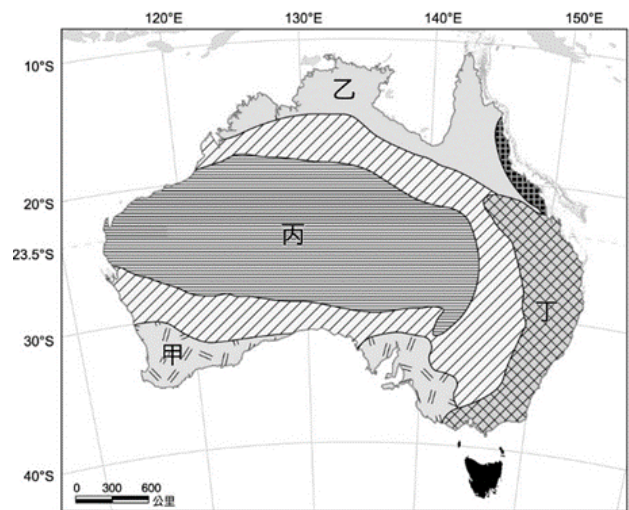
( ) (28)照片為某國的原住民族勇士們在開戰前會跳「哈卡舞」(Haka)以威嚇敵人，使人印象深刻。關於該族的描述，下列何者正確？(A)該民族居住在澳洲 (B)目前仍採行游耕方式維生 (C)隸屬於玻里尼西亞人種 (D)曾因大量獵捕動物造成奇異鳥的滅絕



■6.右下圖為澳洲氣候分布圖。請問：


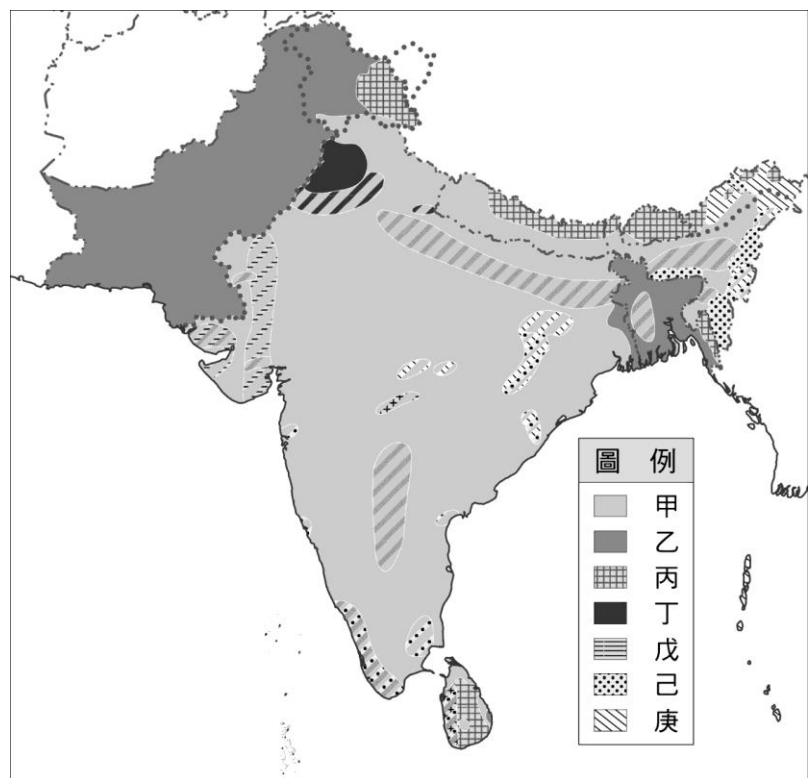
( ) (29)「這個地區的河流都靠降雨來補給流量，冬季水流湍急，夏天河床則成為乾枯空曠的道路。」文中描述的地區最可能位於圖中何地？(A)甲 (B)乙 (C)丙 (D)丁

- ( ) (30) 某個都市的年雨量在 1,110~1,649mm，氣候型態是 5~8 月為冷季，平均氣溫在 15°C~18°C；9~11 月為熱季，平均氣溫在 22°C~25°C；11~4 月為雨季，其餘月份為乾季。圖中哪一地區的氣候與此都市相同？ (A)甲 (B)乙 (C)丙 (D)丁



■7. 由於歷史上受外來民族的影響，使南亞地區的宗教信仰多元且複雜，附圖為南亞的宗教分布圖，圖中甲~庚為不同的宗教，請問：

- ( ) (31) 印度種姓制度的實施，雖有助於維持社會秩序的穩定，卻也造成許多影響。請問種姓制度為圖中何種宗教的特色？ (A)甲 (B)乙 (C)丙 (D)丁
- ( ) (32) 1983 年聯合國教科文組織將泰姬瑪哈陵列為世界遺產，其主體建築是以純白大理石打造，醒目的圓形屋頂予人莊嚴和諧之感，請問該建築形式受到哪一宗教的影響？ (A)甲 (B)乙 (C)丙 (D)丁
- ( ) (33) 旁遮普在梵語的意思為「五河之地」，除了是重要的農業產地之外，當地人有著罕見的「人人生而平等」觀念，且彼此以兄弟姐妹互稱，男人的打扮多以頭巾包覆頭部，如附圖所示，請問該地以哪一種宗教信仰為主？



(A)乙 (B)丙 (C)丁 (D)戊

- ( ) (34) 哪兩種宗教並非源自本地，而是由外來民族帶入，進而成為南亞的第二、三大宗教？ (A)甲戊 (B)乙己 (C)丙己 (D)丁庚

■8. 印度人把排燈節說成是他們的新年，這時候使人不耐的盛暑開始消退，一年中最宜人的季節就要來臨，每年排燈節前後印度各地都會遭遇一波嚴重的季節性霾害，因為全國都會有點燃鞭炮、煙火慶祝習慣，而汙染也與農業焚林闢地、城市工地施工、交通工具、燃燒垃圾有關。2019 年印度最高法院宣布，在排燈節期間民眾只許燃放兩款環保鞭炮，德里政府也以連續 4 天的雷射秀取代傳統煙火表演。請問：

- ( ) (35) 根據上文可推知印度「排燈節」的時間最可能為西洋曆的幾月開始舉辦？ (A)1 月 (B)5 月 (C)8 月 (D)10 月
- ( ) (36) 印度由於產業發展產生許多環境問題，文中主要呈現哪一種環境問題？ (A)水源汙染 (B)全球暖化 (C)空氣汙染 (D)土壤鹽鹼化

■9. 印度和中國的「龍象之爭」持續多年，印度一度被外界認為將迅速崛起為僅次於中國的製造業大國。2014 年莫迪政府高調啟動「印度製造」計劃，提出將印度打造成新的「全球製造中心」，與中國一較高下，附表為印度和中國的人口資料。請問：

	人口 (百萬人)	人口密度 (人/km <sup>2</sup> )	出生 率 (‰)	死亡 率 (‰)	都市化程 度 (%)	15 歲以 上識字 率 (%)
印度	1,326	446.0	19.3	7.3	34.5	71.2
中國	1,394	149.5	11.6	8.2	60.3	94.5

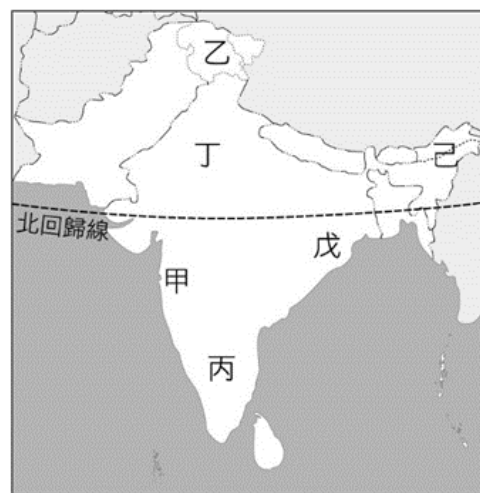
	英語能力	人口年齡結構 (%)			就業人口比率 (%)		
		幼年	壯年	老年	一級	二級	三級
印度	中	27.0	66.6	6.4	47.0	22.0	31.0
中國	低	17.3	70.4	12.3	27.7	28.8	43.5

資料來源：CIA、EF EPI

註：都市化程度為 2019 年資料；識字率為 2015 年資料；英語能力為 2017 年資料；就業人口比率，中國為 2016 年資料，印度為 2014 年資料。其餘資料為 2020 年估算值。

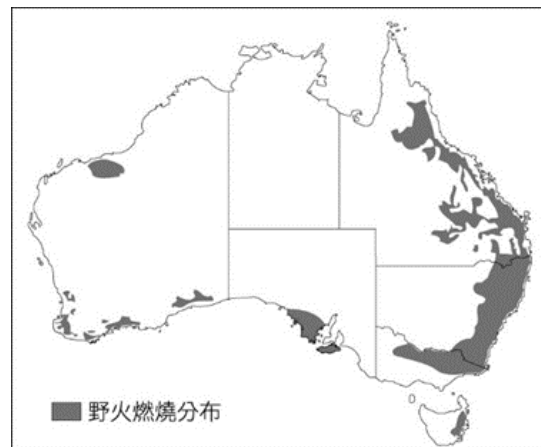
- ( ) (37)印度和中國皆有超過六成的人口屬於青壯年階層，在先進國家深受人口老化與少子化問題的衝擊時，這樣極高的「人口紅利」成為發展製造的優勢之一。請問所謂的「人口紅利」，可以下列哪一項指標觀察之？ (A)自然增加率 (B)社會增加率 (C)結婚率 (D)扶養比
- ( ) (38)相較於中國，印度發展製造業的優勢有哪些？(甲)持續增加的廉價勞動力；(乙)潛在的國內市場；(丙)電力與運輸設施完善；(丁)各地語言和稅制統一；(戊)英語能力較佳。 (A)甲乙丁 (B)乙丙戊 (C)甲乙戊 (D)丙丁戊

■10.附圖為南亞地區簡圖，請問：



- ( ) (39)看電影為印度人民重要的休閒活動，寶萊塢 (Bollywood) 電影工業蓬勃發展，成為全球每年電影產量最多的地區。請問寶萊塢位於圖中何處？ (A)甲 (B)丙 (C)丁 (D)戊
- ( ) (40)承上題，今日寶萊塢的電影風行全球，甚至成為行銷印度文化的主要途徑，當地拍攝電影使用的語言應為何？ (A)泰米爾語 (B)泰盧固語 (C)印第語 (D)僧加羅語
- ( ) (41)於德干高原的邦加羅爾 (Bangalore) 被譽為「印度矽谷」，擁有宜人的氣候，在政府積極發展之下，吸引大量國外公司與國內人口移入，每年產出眾多的電腦工程師，成為印度的資訊科技搖籃。請問邦加羅爾位於圖中何處？ (A)甲 (B)丙 (C)丁 (D)戊
- ( ) (42)關於「乙」地的敘述，下列何者正確？ (A)位喜馬拉雅山東側，戰略地位重要 (B)當地以盛產紅茶聞名世界，為當地主要收入來源 (C)該區的衝突，主要是印度教和伊斯蘭教的對立所致 (D)其主權歸屬曾引爆印度和孟加拉之間的戰爭

■11.澳洲人幾乎年年都要對抗森林大火，但這次從 2019 年 9 月開始持續延燒的大火，已創下數 10 年來最慘重的災情，不僅燒毀數百萬英畝土地，也奪走五億多隻動物的性命。這次澳洲森林大火的主因，被認為是從 2019 年 12 月中旬開始的熱浪，以及已長達 3 年的乾旱，隨之而來的極端高溫、乾旱及強風成為助長火勢的元素。這些原因也使 2019 年成為澳洲有史以來最熱的一年，可 12 月澳洲的夏天才正開始，代表接下來氣溫可能再往上升，至少直到 2 月。再加上氣候變遷讓澳洲乾旱發生機率持續上升，有再助長火勢的可能。請問：



- ( ) (43)圖是澳洲 2019 年 12 月野火燃燒分布圖。野火分布區大多屬於表中哪一城市所屬的氣候類型？

城市		月份	1	2	3	4	5	6
		甲	°C	32.7	31.5	33.6	34.8	30.9
	mm	384.0	356.5	450.1	125.4	28.0	5.2	
乙	°C	27.5	27.1	26.1	25.0	21.0	19.4	
	mm	160.4	167.1	143.7	78.5	62.4	50.1	
丙	°C	34.4	31.9	28.5	25.6	23.2	20.8	
	mm	10.8	14.1	22.9	40.2	75.5	170.4	
丁	°C	3.7	4.6	8.5	14.2	19.2	23.4	
	mm	39.0	58.8	81.2	102.3	114.5	152.0	
城市		月份	7	8	9	10	11	12
		甲	°C	29.8	32.8	33.4	34.3	32.6

	mm	3.4	4.9	6.0	60.2	154.3	270.4
乙	°C	18.2	19.0	22.4	24.7	27.4	28.1
	mm	47.7	45.0	48.7	75.5	161.5	150.2
丙	°C	19.7	18.33	17.9	20.4	23.1	25.6
	mm	165.4	134.6	78.1	58.7	25.6	20.1
丁	°C	27.8	27.7	23.6	18.3	12.4	6.1
	mm	128.2	133.0	155.6	60.5	51.2	34.7

(A)甲 (B)乙 (C)丙 (D)丁

- ( ) (44)澳洲人幾乎每年都要對抗森林大火，此與澳洲的氣候類型有關。影響澳洲各類型氣候分布的主要因素為何？ (A)行星風系類型 (B)海陸分布差異 (C)洋流性質差異 (D)地勢高低起伏
- ( ) (45)造成澳洲有廣大的乾燥大地與下列哪一行星風帶最有關係？ (A)間熱帶輻合區 (B)東南信風帶 (C)副熱帶高壓帶 (D)盛行西風帶
- ( ) (46)澳洲森林大火延燒超過 4 個月，奪走超過 5 億隻動物性命，恐造成澳洲特有種生物浩劫。澳洲特有種生物種類繁多，與下列哪一環境因素有關？ (A)殖民者有計畫移入 (B)位置孤立的影響 (C)冰河時期鄰近陸地移入 (D)氣候溫和適合各種生物
- ( ) (47)澳洲旅遊出口委員會表示，自 2019 年 9 月野火爆發以來，預訂赴澳洲行程的旅客人數已減少 10% 至 20%。估計將使澳洲 2020 年經濟損失 45 億澳元。澳洲的觀光資源豐富，下列哪三項屬於澳洲的觀光資源？(甲)搭乘世界級 TRANZ ALPINE 高山火車前往亞瑟國家公園欣賞冰河景觀；(乙)基督城比英國還英國化的花園城市，特別安排搭乘撐篙船；讓您有充分的時間可細細品味；(丙)烏魯魯，有著絢麗的顏色、豐富的質感和悠久的歷史，是全世界最大的獨石；(丁)搭乘遊船暢遊被塔斯曼海侵入所形成的深谷峽灣及船上享用自助午餐；(戊)大堡礁擁有豐富多樣的海洋生物，包括了超過 3,000 座單獨的珊瑚礁系統；(己)近距離觀賞無尾熊、袋鼠，充分享受獨特生物的奇妙。 (A)甲乙丁 (B)甲丁己 (C)乙丙己 (D)丙戊己

■12.表為澳洲及紐西蘭出口品的整理表，請回答下列問題：

	出口品項
澳洲	鐵礦砂、煤炭、黃金、石油、小麥、大麥、牛羊肉、乳製品
紐西蘭	牛羊肉、乳製品、羊毛、農產品（水果）、酒、機械設備

- ( ) (48)澳洲礦產資源較紐西蘭豐富，與下列何種條件有關？ (A)降雨量的多寡 (B)地質年代差異 (C)距海遠近的差異 (D)地形高低的差異
- ( ) (49)澳、紐乳製品生產區分別位於哪兩種氣候區？ (A)溫帶海洋性氣候、溫帶大陸性氣候 (B)溫帶地中海型氣候、溫帶海洋性氣候 (C)夏雨型暖溫帶氣候、溫帶海洋性氣候 (D)夏雨型暖溫帶氣候、熱帶莽原氣候
- ( ) (50)紐西蘭的經濟多仰賴畜牧業產品出口，此外精緻農業也帶來可觀的收入。下列有關紐西蘭產業的敘述，正確的有哪些？(甲)產期與北半球錯開，是農業發展的優勢；(乙)夏雨型暖溫帶氣候使紐西蘭北島擁有豐富的林業資源；(丙)牧羊場多分布於東側山坡；(丁)冷凍的貨櫃技術有助發展紐西蘭農牧業；(戊)畜牧產品多外銷至歐洲。 (A)甲乙丙 (B)甲丙丁 (C)甲丙戊 (D)乙丁戊