

一、單選題 (40 題 每題 2.5 分 共 100 分 不倒扣)

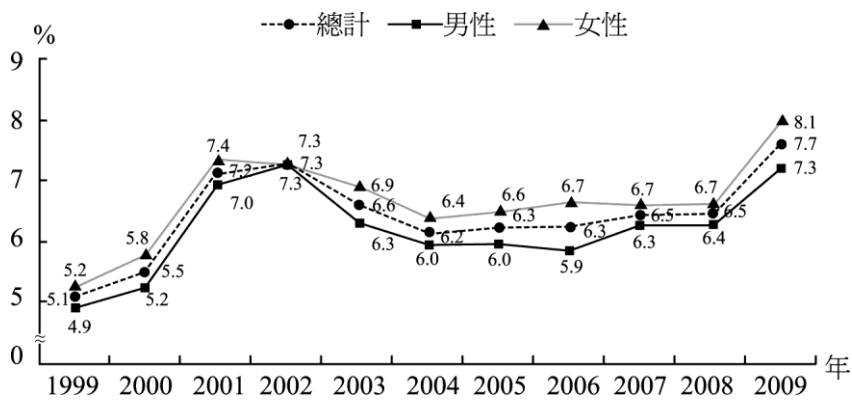
- () 1. 關於大學多元入學方式有很多不同的看法，有人認為大學申請入學面試會產生不公平結果。試問：下列哪一個現象**不是**這些人認為面試不公平的觀點？ (A) 大學申請者的家長身分與地位會影響入學面試 (B) 個人可以依據自己的成就能力申請大學 (C) 高等教育程度的家庭在申請入學時比較有優勢 (D) 同樣程度的申請者，其父母的職業會影響錄取資格。
- () 2. 我國已建立全民健康保險與國民年金制度，兩者保障的範圍各有所異，透過比較可以幫助我們更清楚了解兩種制度的不同。下列對兩者的比較，何者正確？ (A) 甲乙 (B) 丙丁 (C) 丁戊 (D) 丙戊。

選項	全民健康保險	國民年金制度
(甲)法源依據	《全民健康保險法》	《國民年金法》
(乙)中央主管機關	中央健康保險署	內政部
(丙)目的	提供醫療服務	提供被保險民眾緊急救難
(丁)參加方式	強制	自願參加
(戊)性質	社會保險	社會救助

- () 3. 教育部宣布十二年國教及時程，未來學生就讀高中將可能比照國中一樣採學區制，一些有能力的家長也開始想盡各種辦法在所謂的明星學區購買房屋或寄放戶籍，以取得子女未來進入明星高中的入學權，連帶也造成明星學區房價大幅增長；至於其他家長，即使子女可能要就讀校風不佳之學校，也未必有能力協助其換至更好的學習環境。根據以上資料判斷，這正是社會階層化下的哪一種不平等現象？ (A) 政治權力不平等 (B) 社會地位不平等 (C) 經濟資源不平等 (D) 文化資本不平等。
- () 4. 新聞報導：「低學歷、高失業是目前社會令人相當擔憂的社會問題，因為這些失業者不僅難以負擔子女的教育費用，更沒有時間與能力協助子女學習，因此子女可能學習狀況不佳，使其更加難以脫離目前的社會階層。」針對此社會問題，功能論者會提出下列哪一項觀點？ (A) 社會要提供資源幫助失業家庭子女學習 (B) 政府應協助失業者維持基本生活與就業 (C) 失業問題不能完全歸因於個人能力不足 (D) 透過社會競爭分配工作與報酬是合理的。
- () 5. 階級複製會造成低社會流動的現象，社會階層因社會成員先賦地位所呈現的不平等，讓憑藉自身努力的下層階層的人們難以翻身。請問：下列何者為封閉社會的階級複製現象？ (A) 王金平由於家族及高雄縣工業會的影響力龐大，以 19 萬票的高票當選立委，進入立法院 (B) 藝人小 S 在演藝圈闖出名號，知名度很高 (C) 尼克隊林書豪成為海內外球迷的籃球新星，颯起一股「林狂熱」 (D) 金正恩是第二代最高領導人金正日的三子，也是金日成家族掌權的政權任命人。
- () 6. 前衛生署（今衛福部）署長楊志良在任內積極推動二代健保，因為保障人民的醫療權利，健保逐漸擴大給付項目，希望改革保費計算方式，改善健保制度的虧損大洞。上述顯示出何項社會保險政策的困境？ (A) 給付項目增多，是為醫療資源的浪費 (B) 健保對於醫院、診所的給付過高，因此入不敷出 (C) 可能面臨國家財政負擔的困境 (D) 在制度上民眾須額外支出保費，讓多數民眾不願投保。
- () 7. 開放程度較高的社會，個人取得社會地位可透過多種管道獲取，但傳統或封閉性社會，個人取得社會地位就比較封閉。試問：下列針對社會地位取得的敘述，何者正確？ (A) 傳統封閉社會的個人社會地位必須透過自我成就來取得 (B) 在開放程度較高的社會中，父母職業常是決定社會地位的關鍵因素 (C) 在傳統封閉社會與開放社會中，個人取得社會地位的管道大致相同 (D) 開放程度較高的社會，其階級複製的狀況比較不明顯。
- () 8. 菁英民主理論強調政治菁英的重要，其認為人民參與政治活動並非可欲的，因此重視政治菁英產生的程序過程，人民只要適時監督即可，但菁英的決定並非全然正確，加上政治菁英往往會以自己的觀點進行統治，缺乏多元的角度，因而產生多元參與民主理論。此理論係透過人民的結社和政治參與之擴大以監督政治人物，如此可避免菁英民主理論所產生的何項問題？ (A) 社會階級因政治權力的不均而擴大 (B) 人民監督的形式有利於政治專業化 (C) 社會資本的累積形成社會封閉系統 (D) 經濟資源的貧富差距可有效地拉近。
- () 9. 下面哪一句話，可以用來說明社會上的垂流現象？ (A) 龍游淺水遭蝦戲，虎落平陽被犬欺 (B) 十年寒窗無人問，一舉成名天下知 (C) 貧居鬧市無人問，富在深山有遠親 (D) 朱門酒肉臭，路有凍死骨。
- () 10. 臺灣的開放民主是各國有目共睹的，每個人可以透過自己的努力爭取社會地位。試問：下列哪一個現象**不是**臺灣社會流動的主要因素之一？ (A) 個人透過本身的努力就可以獲得到社會地位 (B) 性別平權的推動讓婦女地位不受到壓抑 (C) 加入世界貿易組織讓國人的思維更國際化 (D) 教育普及讓每個人有著相同的競爭立足點。
- () 11. 根據主計總處對我國性別指標統計分析發現，我國女性在高等教育之就學率已超越男性，但女性在職場的薪資所得仍然僅有男性薪資收入之七成。此外，女性受到家庭及婚姻影響甚大，家事負擔仍以女性為主。以下敘述何者符合衝突論者觀點？ (A) 大仁：「女性在家庭的重要性代表其對社會之貢獻。」 (B) 又青：「女性受到社會資源分配影響成為受壓迫者。」 (C) 立威：「女性的高教就學率顯示不平等地位已弭平。」 (D) 美琪：「女性為爭取權利成為社會衝突的主要原因。」
- () 12. 下列關於我國目前社會福利與保險制度的敘述，何者正確？ (A) 文新是八八風災的受災戶，日前無家可歸，可依法申請國民年金 (B) 30 歲的文星將工作辭掉專心找新工作，因在無業狀態下找工作，依法無需繳納國民年金保險費 (C) 丞瑜利用暑假到速食店打工，依法僱主必須全額負擔丞瑜的勞保費用 (D) 我國身心障礙者能有相關法規的通過與修正，與社會運動有密切關係。
- () 13. 有位影評人提到電影「衝擊效應」的一幕：「一對白人情侶與兩位黑人朋友走在路上，原本白人情侶因天冷而靠在一起，兩位黑人以為對方誤認他們要搶劫，雙方的誤解到最後竟真演變成一場搶劫案。……」請問：若這位影評人對「社會階層化」具有正確

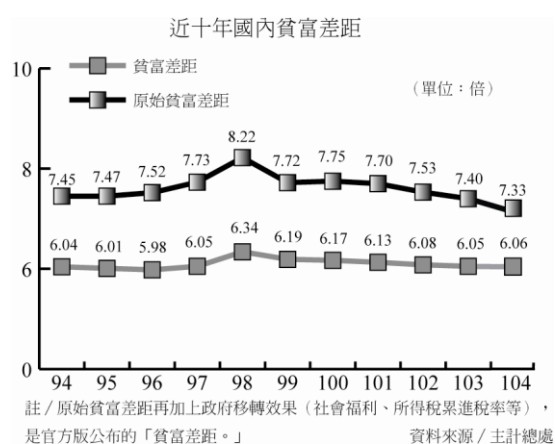
的認知的話，會對這幕情節提出哪種最為適切的解讀？ (A)犯罪率高的黑人，用自己的行動印證刻板印象的真實性 (B)犯罪率高的黑人，位處低社會階層是合理的分配 (C)因刻板印象犯罪而被捕入獄的黑人，將使其低社會階層的情況形成惡性循環 (D)為了避免不同社會階層之間再度衝突，「隔離」生活是最好的解決方式。

- () 14.下圖為我國自 1999 年至 2009 年間，男性與女性貧窮率之曲線走勢圖，依表中資訊所示，下列解讀何者較為正確？ (A)綜觀圖中的發展趨勢，2013 年女性所享有的社會資源仍然將少於男性 (B)兩性的經濟地位除 2002 年相仿外，其他各年女性經濟地位皆高於男性 (C)我國經濟景氣從 2002 年開始逐年下滑，直到 2008 年之後才大幅回升 (D)女性經濟自主權普遍較男性為低，顯示社會上仍存在性別階層化現象。



*每人可支配所得低於貧窮線者即屬貧窮人口，貧窮人口占總人口的比率稱之為貧窮率

- () 15.「天有不測風雲，人有旦夕福禍」，許多生命的失去、身體的傷害，都是難以預料的結果。對這些人而言，損害有無法及時獲得填補的風險，如果可以集體分散、轉嫁由多數人分擔，將可以確保其損害迅速獲得填補。請問下列哪些法律可以滿足上述需求？(甲)《就業保險法》；(乙)《全民健康保險法》；(丙)《勞工保險條例》；(丁)《存款保險條例》；(戊)《國民年金法》。(A)甲乙丙 (B)丙丁戊 (C)甲丁戊 (D)乙丙戊。
- () 16.現階段高中生多數仍屬於少年相關福利法規所規範的對象，下列哪些情形屬於法律上對於兒童及少年之保護？(甲)商店不得販賣菸酒給未滿 18 歲之青少年；(乙)未滿 18 歲者不得報考駕駛執照之考試；(丙)未滿 18 歲者不得結婚；(丁)未滿 18 歲者不得觀看限制級影片或相關刊物。(A)甲丙 (B)乙丙 (C)甲丁 (D)乙丁。
- () 17.政府為增進全體國民健康，提供醫療服務，而於 1994 年制定《全民健康保險法》，隔年全民健保正式在臺灣實施上路，以下有關全民健保的敘述何者正確？(A)就醫次數愈少的民眾，其保費則愈便宜 (B)全民健康保險是一種強制性的社會保險 (C)已享有公、勞、農保的民眾可以不用參加全民健保 (D)投保民眾所繳保費都相同，所享受的醫療服務也相同。
- () 18.下列哪一個現象，可以稱為「水平社會流動」？(A)臺南市某市議員當選為立法委員 (B)楊宗緯從沒沒無名的學生變成擁有許多歌迷的明星 (C)由便利超商的店員變成店長 (D)由臺北市的高中老師調校成為新北市的高中老師。
- () 19.國民年金已於 2008 年 10 月 1 日正式開辦，下列有關國民年金之敘述何者**錯誤**？(A)國民年金保險是採取「柔性強制投保」制度 (B)現在在學的高中生符合國民年金的保險資格 (C)政府對一般民眾和經濟弱勢者均有補助其保險費 (D)已參加職業別之社會保險者，不需參加國民年金保險。
- () 20.下圖是我國自民國 95 年至 104 年五等分位差距倍數圖，從圖中可推斷出何種訊息？(A)貧富差距擴大導致人民痛苦指數攀升 (B)所得分配不均易造成社會聲望不平等 (C)政府社福支出可減緩階層複製的效應 (D)薪資水準上升促使中產階級迅速竄起。



- () 21.在某大學社會學課程中，某教授針對「性專區的成立」議題，讓學生運用「功能論」與「衝突論」立場進行分析，下列選項中哪些同學提出的主張是以「衝突論」的觀點為主？(甲)性工作中的娼妓議題凸顯的是臺灣長期以來性別的階層化現象，女性擁有的社會資源較少，而扮演受壓迫者角色；(乙)社會中需要各種職位讓每個人各得其所，性專區的成立代表性工作也是一種合法的職位；(丙)性專區成立未必能解決女性的弱勢處境，社會應進一步思考如何幫助弱勢女性取得更多的社會資源；(丁)性專區合法化或許可減少性犯罪的發生，有助於社會的穩定與和諧。(A)甲乙 (B)丙丁 (C)甲丙 (D)乙丁。
- () 22.有句俗話說，「龍生龍，鳳生鳳，老鼠生的兒子會打洞」，而龍、鳳、老鼠在我国的觀念中，以老鼠的地位最低，因此又有一句話說，「過街老鼠，人人喊打」。對鼠子鼠孫們而言，其地位的取得主要是因下列何種原故？(A)經濟地位不佳 (B)家庭背景 (C)成就動機 (D)教育程度。
- () 23.阿國今年 27 歲，過去曾經是農夫，與在戶政機關工作的阿嬌結婚後，目前轉職在便利商店從事工讀生的工作。但因一次的工作意外讓阿國的右手受到壓傷而無法再繼續工作。試問：關於阿國的情形，何種社會保險將能保障與彌補其就業的傷害？(A)國民

年金保險 (B)農民年金保險 (C)全民健康保險 (D)勞工保險。

- () 24.社會階層與社會階級，在口語中常被視為是同義詞，但在社會學中，兩者的意涵有所不同。其不同之處在於 (A)社會階層是種社會不平等；社會階級是合理的制度安排 (B)社會階層是功能論的觀點；社會階級則是衝突論的觀點 (C)社會階層盛行於開放社會；社會階級則盛行於封閉社會 (D)社會階層的劃分標準較廣；社會階級以經濟資源來劃分。
- () 25.關於我國《身心障礙者權益保障法》的規定，下列哪一項內容是正確的？ (A)政府應興建價格合理集合住宅，滿足身心障礙者的居住權 (B)公私立機構須進用一定比例之身心障礙者，確保其工作權 (C)醫院應主動提供協助服務，以保障身心障礙者之人身安全 (D)身心障礙者遭受家庭暴力時，政府應提供額外之協助措施。
- () 26.根據我們對於社會流動可能性的理解，假定其他所有條件都相等時，我們從以下不同的陳述推斷，哪些屬於相對公平的社會？(甲)平均而言，出身於高所得家庭的子女，其能取得專門職業地位的機會，是其他出身於低所得家庭的子女的 2 倍；(乙)平均而言，父母為高教育程度者，其子女的教育平均年數是其他低教育家庭的子女的 1.5 倍；(丙)平均而言，子女獲得最高教育的平均年數，和父母的的教育程度高低並沒有關係；(丁)平均而言，單親家庭的子女，獲得研究所以以上學位的機會，是其他人的 1.01 倍；(戊)平均而言，父母的所得高低，無法決定子女的所得的高低。 (A)甲乙丙丁 (B)乙丙丁戊 (C)乙丙丁 (D)丙丁戊。
- () 27.海外留學是進修的另一種選擇，但出國進修的龐大費用使有意者但經濟資源較為缺乏的人裹足不前，教育部因而放寬申請留學貸款門檻，家庭年收入低於 114 萬之低所得民眾由政府補助留學貸款利息。上述教育部政策目的與下列何項概念相符？ (A)藉由教育程度之提高可使低所得之民眾獲得較高之先賦地位 (B)此政策希望藉由教育之影響打破社會階層的現有封閉性系統 (C)教育程度提升有助於文化資本的累積拉近社會之不平等現象 (D)此政策目的為進行教育體制的逆向所得重分配以利社會流動。
- () 28.社會階層化理論是探討社會普遍出現的現象與概念，以下是四位同學的各自表述，試問：下列敘述何者正確？ (A)偉恆：社會運動的訴求大多是衝突論的觀點 (B)敏瑄：公司的每個員工都是重要的螺絲釘，為衝突論的觀點 (C)佩君：社會資源分配不均導致民不聊生，屬功能論的觀點 (D)程浩：勞方與資方兩方一定是對立的，屬功能論的觀點。
- () 29.我國已於 1993 年邁入高齡化社會，下列哪一項措施可提供對老人更全面的保障？ (A)為確保老年經濟生活由國民年金提供一次性的給付 (B)將老人集中於福利機構提供的安養機構方便照顧 (C)提供老人特別照顧津貼增加國民年老後的經濟收入 (D)對子女遺棄老人之行為給予懲罰增進對老人的保護。
- () 30.臺灣現有社會保險的種類可依職業類別或保險功能做區分，以下表格何者完全正確？

種類	區分標準	對象
(A)農民健保	保險功能	農會會員、年滿 15 歲從事農業工作的農民
(B)勞工保險	職業類別	15~60 歲之勞工、60 歲以上仍在職之勞工
(C)國民年金	保險功能	25~65 歲全體國民皆為保險對象
(D)全民健保	職業類別	未參加軍公教勞農保，且未領取其他社會保險老年給付的國民

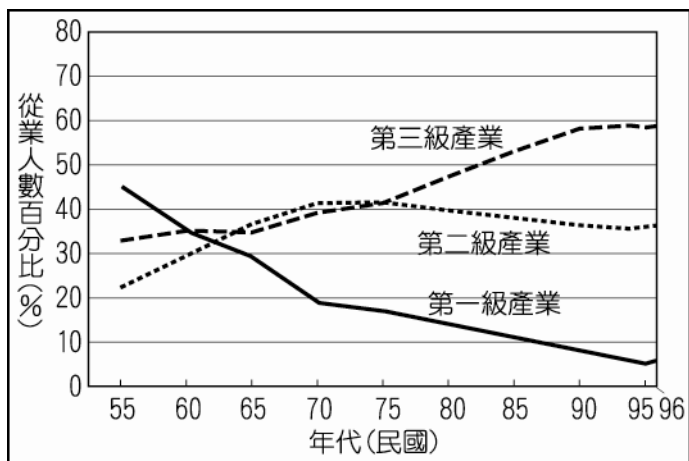
- () 31.美國總統大選剛落幕，拜登擊敗川普贏得勝選，請問美國總統採用下列哪一種選舉制度？ (A)由人民直選產生 (B)由國會議員推舉產生 (C)由選舉人團選舉產生 (D)由各州州議會共同推舉產生。
- () 32.社會學者在研究社會流動的現象時，常會以階級複製作為一項指標，下列根據「階級複製」的相關敘述，何者有誤？ (A)自由開放的社會中，階級複製的狀況比較明顯 (B)階級複製主要是指世代之間的社會階層傳遞 (C)階級複製是從先賦地位的角度來出發 (D)代間的垂直流動出現停滯現象。
- () 33.2011 年 9 月，美國民眾發起「占領活動」，此運動基本訴求是對於政治腐敗的抗議、以及大商業公司和最富有的 1%的富人在政策制定上享有的特權的反感。請問，此「占領活動」表達了對下列何種經濟問題的抗議？ (A)財政赤字擴大 (B)所得分配嚴重不均 (C)全球化貿易體系失衡 (D)政府干預導致經濟衰退。
- () 34.表為某國甲、乙、丙、丁四人的文化活動與生活概況，分別顯示他們的職業、薪資、學歷、休閒運動、興趣與居住狀況，其生活與活動也因為文化與經濟資本的特殊組合，而形成不同層級的文化位階。根據此表，下列敘述何者較為正確？

甲	中小企業主	(高中學歷)	乙	大型企業執行長	(碩士學歷)
	打籃球	聽流行歌曲		打高爾夫球	觀賞歌劇
	月薪 30 萬	住電梯大廈		月薪 50 萬	住景觀豪宅
丙	工廠工人	(國中學歷)	丁	法官	(博士學歷)
	打撞球	聽流行歌曲		打網球	聽古典音樂
	月薪 5 萬	租公寓		薪 15 萬	住公寓

- (A)丁的經濟資本較甲高，丁的休閒都屬精緻文化風格，是後天學習的結果 (B)丙的經濟資本較乙低，丙參與的運動類型與其文化資本和社會階層有關 (C)甲的文化資本較丙低，甲的音樂品味所展現是屬於一般群眾的流行文化 (D)乙的文化資本較丁高，乙的住家風格彰顯的是其擁有的收入和資源較高。
- () 35.目前臺灣存有許多族群，如原住民、閩南人、客家人、外省人與新移民等，但在族群之間存在社會階層之差異。請問：關於現代社會的族群階層敘述，何者正確？ (A)在社會中以資源與權力的不同，造成強弱族群的族群階層化現象 (B)在現行法規中對原住民權益多有保障，使原住民族居於社會階層上層 (C)族群階層化的現象，在現今社會中因個人努力而消弭殆盡 (D)設立各族自治區域，能有效打破族群階層化的現況。

- () 36.下列哪個觀點，符合衝突論者對社會階層的解釋？ (A)社會階層是掌握較多社會資源與權力的高階層，剝奪中低社會階層的利益，而形成社會的不平等 (B)社會階層有助於社會公平正義的實踐 (C)社會階級的形成，是因為人類天生的不平等 (D)社會階層是社會分工後的自然現象。

() 37.



上圖為我國就業人口的產業發展變化圖，下列何者說法符合我國社會結構改變之現象？ (A)小華：「我國在民國 75 年後逐漸邁入工業化時代。」 (B)小真：「民國 55 年有許多黑手變頭家的企業出現。」 (C)小明：「我國在 70 年代轉變為高附加價值導向。」 (D)小立：「民國 60 年之後社會出現階級複製的現象。」

- () 38.臺東賣菜婦人陳樹菊因家逢變故，小學畢業後無法繼續升學，但靠著「三把菜五十元」的長期叫賣省下 450 萬元，並捐給國小母校設立急難救助獎學金及興建圖書館，以作育英才。陳樹菊的善行也獲選為美國《時代》雜誌 (TIME) 百大最具影響力的英雄人物，而普受他人敬重。請問下列相關敘述何者正確？ (A)陳樹菊的聲望很高是因為她的職業排行較高 (B)陳樹菊的聲望很高是因為她擁有很多的財富並全部捐出 (C)陳樹菊的聲望很高是因為她捨己助人而獲得特殊榮譽 (D)陳樹菊的聲望很高是因為她位處偏遠地區。

- () 39.個人社會地位的取得會因社會開放程度的不同而影響社會流動，關於社會地位取得的因素，以下說明何者正確？ (A)美國社會學家鄧肯從文化資本的角度來看家庭背景對社會地位取得的影響 (B)美國蘋果公司前執行長賈伯斯能有高社會地位主要是取決於其高等教育程度的父母 (C)除了父母的教育程度與職業，父母的價值觀也會影響子女社會地位的取得 (D)「萬般皆下品，唯有讀書高」，所以教育是影響社會地位取得最重要的因素。

- () 40.美國總統林肯出生於一個貧窮的農民家庭，當過僱農、船夫、商店夥計、鄉村郵務員與土地測量員。林肯未受過有系統的教育，但藉由自學，學習了法律、文學、歷史等方面的書籍，並於 1836 年時成為律師，最後在 1860 年時當選美國總統。請問，下列關於林肯社會地位的改變，哪些敘述是正確的？(甲)有代間向上流動的情形；(乙)家庭背景使得林肯順利當上總統；(丙)有代內水平流動的情形；(丁)職業由僱農到總統即是結構流動。 (A)甲乙 (B)乙丁 (C)丙丁 (D)甲丙。