

一、單一選擇題：38題，每題2分，共計76分。 ※共有55題，請用2B鉛筆畫記於答案卡。


1. ( )根據附圖中兩人的對話，阿琴要參選的是哪一種公職人員選舉？



(A)直轄市議員 (B)鄉民代表 (C)全國不分區立委 (D)區域立委。

2. ( )下個月彩虹鄉鄉長因故要補選一位新的鄉長，下列哪一位鄉民可以登記為此次選舉的候選人？ (A)邱先生被宣告褫奪公權二年，尚未復權 (B)吳小姐昨天剛把戶籍遷入 (C)小明因為23歲那年車禍而受監護宣告 (D)王先生5年前曾當選鄉民代表。

3. ( )下列四人均熱衷公共事務，積極從事政治參與。請問：其中何人的政治參與方式最正當？ (A)



4. ( )小江在考前與讀書會的成員討論單一選區兩票制的內涵，哪位同學的觀念正確？

姓名	內涵
小丸	單一選區是每一選區只選出一名區域立委
小新	會拿到兩張選人的選票
阿福	當選者負責施政，管理國家事務
阿咪	不分區立委由各選區最高票者當選

(A)小丸 (B)小新 (C)阿福 (D)阿咪。

5. ( )下列何者是我國地方政府的行政首長？ (A)縣、市長 (B)行政院院長 (C)縣、市議會議長 (D)總統。

6. ( )某小鎮的夜市因各大美食節目頻頻採訪而聲名大噪，許多觀光客慕名而來，但因當地目前的基礎建設無法容納眾多人潮與車潮，導致交通堵塞情況嚴重。若該小鎮的鎮長採取某種方法解決上述問題，下列何者最可能是他的作法？〔105.會考〕 (A)增加所得稅收 (B)興建公共造產 (C)舉辦地方特色活動 (D)規範媒體報導內容。

7. ( )小璇對於公職人員選舉的過程不太了解，於是和幾位朋友在通訊軟體上討論(如附圖)，其中哪一位朋友的回答是正確的？



(A)小晶 (B)小嘉 (C)小齡 (D)小巧。

8. ( )根據附圖中小露的提問，大楓應回答下列哪一機關？



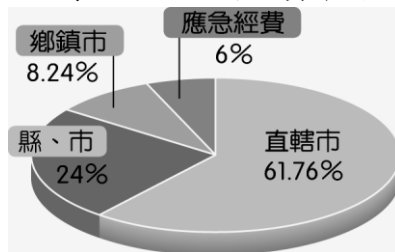
(A)立法院 (B)市政府 (C)鎮公所 (D)縣議會。

9. ( )新聞報導：「第一臺數位 X 光巡迴車將提供民眾完善醫療服務，數位 X 光巡迴車將巡迴二十九個鄉鎮市，以定點方式提供篩檢服務，將能有效預防疾病發生。」請問：上述屬於地方政府的哪一項職權？ (A)教育文化 (B)經濟發展 (C)安全衛生 (D)社會福利。
10. ( )附圖是某位候選人造勢晚會的現場，根據圖中內容判斷，這位候選人最可能是參與何種公職人員選舉？




(A)縣市長 (B)立法委員 (C)行政院院長 (D)省主席。

11. ( )小夫接受某立委候選人招待的旅遊，投票時覺得不好意思，於是便投他一票，並拍下照片證明。請問：小夫的作為違反了選舉的哪一項原則？ (A)直接 (B)無記名 (C)平等 (D)普通。
12. ( )附圖顯示我國統籌分配款分配比例，此應屬於地方政府經費來源的哪一部分？



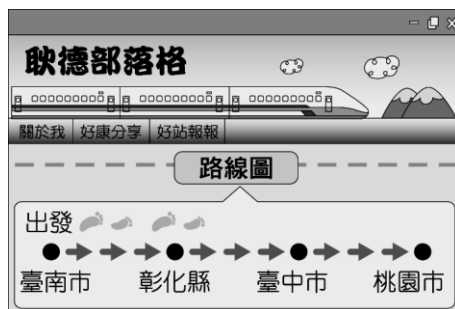
(A)企業贊助 (B)中央補助 (C)地方稅收 (D)公共造產。

13. ( )附圖為候選人最低年齡限制示意圖。請問：甲、乙、丙、丁依序應為何？



(A)民意代表、直轄市市長、縣(市)長、鄉(鎮、市)長 (B)民意代表、鄉(鎮、市)長、縣(市)長、直轄市市長 (C)鄉(鎮、市)長、民意代表、直轄市市長、縣(市)長 (D)縣(市)長、鄉(鎮、市)長、直轄市市長、民意代表。

14. ( )下列何者為地方政府應處理的事務？ (A)軍事國防 (B)簽訂條約 (C)締結友邦 (D)消防救災。
15. ( )商業周刊與參政參公民平臺共同編製「地方財政昏迷指數」，調查顯示苗栗縣負債從 200 多億元增加到 600 多億元，財政狀況是全臺唯一進入「瀕臨腦死」的縣市。腦死定義為「到急迫改革的程度，若不立即重新設定財務策略，或中央政府及時給予援手，該縣市的財務運作將停頓終止。」而縣議員調到一筆「25 年來沒有刪過的預算」資料，才發現預算裡竟然包含「退休公教人員聯誼」等跟縣政無關的項目。根據上文，苗栗縣財政出現問題的主因為何？ (A)苗栗縣自籌財源困難 (B)預算缺乏監督，財政惡化 (C)中央政府統籌分配稅款過少 (D)地方財政必須全額依賴中央支援。
16. ( )耿德搭乘高鐵參加各縣市的燈會活動，附圖是他在部落格上分享的路線圖。請問：從出發點開始，耿德到達的縣市層級依序為何？



(A)市→縣→縣轄市→直轄市 (B)直轄市→縣→直轄市→直轄市 (C)直轄市→縣→直轄市→市 (D)縣轄市→縣→直轄市→縣轄市。

17. ( )年輕的阿如想要透過選舉來參與政治事務。請問：依據我國《憲法》的規定，身為中華民國國民的阿如必須年滿幾歲，才可以登記成為候選人？〔91.第一次基測〕 (A)20歲 (B)23歲 (C)26歲 (D)30歲。
18. ( )佑恩是位年輕有為的青年，白天在戶政事務所上班，下班後則到公立兒童托育中心，擔任指導功課的志工哥哥。請問：政府提供托育服務應屬於哪一項職權？ (A)教育文化 (B)社會福利 (C)安全衛生 (D)經濟發展。
19. ( )附表是我國辦理總統大選時四位國民的相關資料。根據資料判斷，下列何人最可能在本次選舉中具有投票資格？

姓名	年齡	備註
阿中	17歲	曾擔任校內自治市市長
小冰	24歲	受法院監護宣告
濃濃	46歲	受法院宣告褫奪公權
安安	19歲	曾有傷害罪前科

(A)阿中 (B)小冰 (C)濃濃 (D)安安。

20. ( )下列哪些是地方政府中，負責執行上級政府委辦事項的機關？(甲)屏東縣政府(乙)信義鄉民代表會(丙)頭份鎮公所(丁)南投縣議會 (A)甲乙 (B)甲丙 (C)乙丁 (D)丙丁。
21. ( )下列何者屬於地方自治團體？ (A)臺灣省 (B)彰化縣中西里 (C)屏東縣楓港村 (D)嘉義縣阿里山鄉。
22. ( )美國的女性早期備受歧視，沒有投票權，一直到1920年第19條憲法增修條文批准後才具有投票權。女性擁有投票權符合選舉的哪一項原則？ (A)直接 (B)普通 (C)無記名 (D)平等。
23. ( )2019年9月，索羅門與我國終止官方外交關係，轉與中華人民共和國建交，使我國的邦交國縮減至16國，面對此局面，外交部部長向總統請辭。請問：外交部部長的舉動，反映哪項民主政治的特點？ (A)主權在民 (B)責任政治 (C)依法行政 (D)定期選舉。
24. ( )幾位留學生聚在一起討論各國的選舉制度(如附圖)，依照圖中莎拉的說詞，可知莎拉國家的選舉制度在20世紀初期，不符合我國現行的哪一項選舉原則？



(A)無記名原則 (B)直接原則 (C)平等原則 (D)普通原則。

25. ( )光範未來想在政府機關工作，趁著環島的行程到各級地方政府去參觀其行政與立法機關，下列地方行政機關與地方立法機關的配對，何者正確？ (A)馬公市政府—馬公市議會 (B)臺南市南區區公所—臺南市南區區民代表會 (C)員林鎮公所—員林鎮民代表會 (D)基隆縣政府—基隆縣議會。
26. ( )2013年，中國提出「一帶一路」政策。至2019年8月，已有136國與其簽署合作文件。澳洲試圖反制中國在太平洋地區的影響力，而未加入此行列，但澳洲國內的州政府卻避開中央政府，私自與中國簽署參與「一帶一路」的諒解備忘錄，澳洲總理對此舉加以批評。請由上述例子判斷，下列何者為中央政府的職權？ (A)辦理社會救助 (B)舉辦藝文活動 (C)修建橋梁道路 (D)與他國簽署條約。
27. ( )阿福伯是愛民鄉的鄉長，平時熱心服務鄉民，也積極推動鄉里建設。請問：下列何者是阿福伯有權處理的事務？ (A)辦理藝術畫展 (B)舉行三軍演習 (C)公布法律和命令 (D)審查愛民鄉預算。
28. ( )臺灣的石虎瀕臨滅絕，棲地破碎讓石虎生存面臨危機。苗栗縣三讀通過《苗栗縣石虎保育自治條例》，以達成石虎保育與自然生態保育之目標。依據上述，下列何者敘述正確？ (A)通過自治條例的機關為立法院 (B)其他縣市不受該自治條例的規範 (C)此屬於地方政府「經濟發展」的工作事項 (D)此法的制定代表地方政府擁有司法權。
29. ( )志中特地向公司請假一天，首先帶大女兒去「施打新生兒疫苗」，接著再去「補辦自己遺失的身分證」，回家後發現家中遭小偷，於是他趕緊去「報案」。請問：上述志中所處理的事務是屬於地方政府職權中的哪一項？ (

A)教育文化 (B)安全衛生 (C)社會福利 (D)經濟發展。

30. ( )下列有關我國現行地方政府的組成與職權的敘述，何者正確？ (A)各級立法機關負責推動地方自治的工作，並執行上級政府委辦的事項 (B)從《地方制度法》內容可知，稱為「市」的行政區很多，但是其所代表的自治層級不盡相同 (C)地方自治團體包括省、直轄市、縣(市)及鄉(鎮、市)、直轄市山地原住民區 (D)各級行政機關負責議決地方的法規與預算，並監督立法機關的施政。
31. ( )我國中央與地方政府的分權方式採均權制度，也就是以下列何者為標準來畫分職權？ (A)政府間的默契 (B)事務的急迫性 (C)事務的性質 (D)政府間的協商。
32. ( )附圖為某候選人的宣傳海報，務農40年的朱艾維在充分了解內容之後，決定把票投給他。請問：下列何者是朱艾維投票給候選人的原因？



(A)候選人所屬的政黨 (B)候選人的政見 (C)候選人的素質 (D)候選人的學歷。

33. ( )阿強今年剛符合投票資格，準備行使自己第一次的投票權，而在選舉的過程中，阿強應該要有什麼樣的基本態度？ (A)候選人的口才十分重要，要選最會吹捧自己的候選人 (B)愈奸詐狡猾的候選人，日後愈能為民謀求福利 (C)大量砸金錢在競選活動上的候選人，當選後必定具有服務熱忱 (D)審慎考量候選人的素質、政見，排除人情壓力或利益誘惑。
34. ( )關於行政機關與立法機關的配對，下列何者正確？ (A)新竹市政府—新竹縣議會 (B)嘉義市政府—斗六市民代表會 (C)屏東縣政府—屏東縣議會 (D)宜蘭市政府—宜蘭市議會。
35. ( )今年暑假媽媽帶即將就讀國一的小帆從臺北坐火車環島旅行。下列是他們所到的景點，請問：他們所到之處何者屬於同一層級的地方政府？(甲)臺中市—科學博物館(乙)臺南市—赤崁樓(丙)嘉義市—交趾陶館(丁)高雄市—六合夜市(戊)宜蘭市—甲子蘭酒文物館 (A)丙丁戊 (B)甲乙丁 (C)甲乙戊 (D)甲丁戊。
36. ( )我國公職人員選舉的流程，在下列哪一部法令中有詳細的規定？ (A)《公職人員選舉罷免法》 (B)《中華民國憲法》 (C)《中華民國憲法增修條文》 (D)《社會秩序維護法》。
37. ( )近年來，各縣市政府為了統籌分配的問題爭論不休，誰也不願意所分配到的比例被刪減。請問：在中央補助與地方稅收的部分，基本上是依何法來劃分？ (A)《所得稅法》 (B)《營業稅法》 (C)《財政收支劃分法》 (D)《地方制度法》。
38. ( )某黨主席在一場選舉活動中，為該黨候選人李大同拉票的發言內容如下：「李大同已多次連任，具有豐富的經驗，相信他一定能為大家好好的監督政府，請各位選民繼續給他連任的機會。」李大同所參選的公職人員最可能是下列何者？〔104.會考〕 (A)市長 (B)鎮長 (C)監察委員 (D)立法委員。

## 二、題組題：三大題，每小題2分，共計14分。

1. 依據《天然災害停止上班及上課作業辦法》規定，天然災害發生時，行政院授權各直轄市、縣(市)長、機關首長停止辦公及上課之決定權。請問：
- ( ) (39)我國中央與地方政府是依據事務的性質來畫分職權，而天然災害是否放假一事，應與下列何者屬於相同事務性質？ (A)制定國民教育年限 (B)承辦軍事武器採購 (C)審查中央政府總預算 (D)辦理社會救助服務。
- ( ) (40)每當風災、水災過後，大街小巷垃圾遍布，均有賴於清潔隊員清掃與整理，以恢復市容。請問：上述屬於地方政府的哪一項職權？ (A)安全衛生 (B)教育文化 (C)經濟發展 (D)社會福利。
- ( ) (41)風災帶來大水，曾造成高雄一安養院數十位老人圍困水中，內政部因此要求徹查全國老人照護療養院的防災安全機制。請問：老人安養福利事務應屬於地方政府的哪一項職權？ (A)經濟發展 (B)教育文化 (C)社會福利 (D)安全衛生。
2. 根據行政院人事行政總處修訂的規定，颱風過境達停止辦公及上課標準為「未來四小時內暴風圈可能經過的地區，其平均風力達七級以上，或陣風超過十級以上。」若局部地區因受地形、雨量、交通等特殊狀況的影響，導致辦公或上課困難者，各縣市政府得依法逕行決定，並通報宣布停止上班或上課。〔95.第一次基測修訂〕
- ( ) (42)根據內容判斷，上述做法旨在發揮下列何種功能？ (A)強化災難應變 (B)因應社會變遷 (C)增建公共設施 (D)增加社會救助。
- ( ) (43)上述因應各地情況差異，由各縣市政府決定並負責的做法，最符合下列何種精神？ (A)主權在民 (B)地方自治 (C)民族自決 (D)權力分立。
3. 妍珍在部落格上分享一篇遊記，如附圖所示。請問：



( ) (44)文中提及當初虎頭埤風景區興建的經費來源屬於下列何者？ (A)企業贊助 (B)中央補助 (C)公共造產 (D)地方稅收。

( ) (45)作者負擔的門票和休閒設施費用屬於地方政府哪一部分的經費來源？ (A)企業贊助 (B)中央補助 (C)民眾捐款 (D)公共造產。

**三、配合題：兩大題，每小題 1 分，共計 10 分。**

1. 請依下列敘述選出適合的選舉原則代號，並填入空格中：

(A)直接原則 (B)平等原則 (C)無記名原則 (D)普通原則

( ) (46)阿晴是第一千金，阿標是一介平民，兩人均只能領一張選票，選票的價值也無差異。

( ) (47)已滿 20 歲的大豐不能代替行動不便的爺爺去投票。

( ) (48)陳先生投票時依自己的自由意志圈選支持的候選人，而且不亮票。

( ) (49)現代民主國家不受財產、性別、種族、階級等影響，公民均有投票權。

2. 我國有很多行政區都稱為「市」，請將下列城市填入正確的選項代號：

(A)直轄市 (B)市(與縣同級者) (C)市(與鄉、鎮同級者)

( ) (50)臺北市 ( ) (51)彰化市 ( ) (52)臺南市

( ) (53)基隆市 ( ) (54)嘉義市 ( ) (55)南投市



~擁有夢想只是一種智力，實現夢想才是一種能力。~