

基隆市中山高中 109 學年度 第 2 學期 第一次段考 國中部九年級

地理試題

班級：

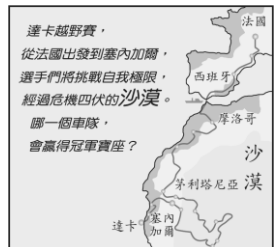
座號：

姓名：

#全部試題都有一個最適合的答案，請將正確答案劃在答案卡上。

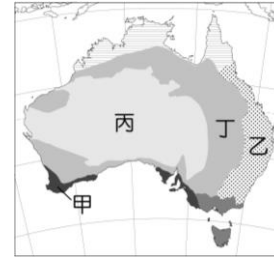
一、選擇

- () 非洲哪個地區以北因歷史背景與地理位置，呈現多元民族文化，以南則以黑人部落為主？
(A)東非大裂谷 (B)撒哈拉沙漠 (C)剛果盆地 (D)喀拉哈里盆地。
- () 非洲的經濟活動主要受到早期外來勢力影響，多數國家目前主要依賴下列何種產業活動？
(A)勞力加工 (B)電子科技 (C)農礦生產 (D)轉口貿易。
- () 有「地球臉上最大傷疤」之稱的東非大裂谷，是世界最長的裂谷帶。請問：形成該種地形景觀的主要作用力為何？
(A)斷層陷落 (B)火山作用 (C)冰河侵蝕 (D)風力吹蝕。
- () 流量與流域面積高居世界第二位的剛果河，其位居下列哪個氣候帶內？
(A)熱帶莽原氣候 (B)熱帶雨林氣候
(C)溫帶地中海型氣候 (D)熱帶沙漠氣候。
- () 附圖是達卡越野賽的路線圖。圖中越野賽所經過的地區為下列哪兩個洲？
(A)歐洲、美洲 (B)美洲、亞洲 (C)亞洲、非洲 (D)歐洲、非洲。



- () 動畫電影「馬達加斯加」描述原本生活在紐約動物園的獅子、長頸鹿、斑馬等動物，陰錯陽差來到非洲的馬達加斯加島，展開一連串有趣的原始生活。馬達加斯加是東非外海的大島，請問該島嶼位於下列哪個海域？
(A)印度洋 (B)大西洋
(C)地中海 (D)太平洋。
- () 在亞斯文高壩興建前，尼羅河會在夏季定期氾濫。請問：尼羅河定期氾濫的原因，可能與其上游流經哪個氣候區有關？
(A)熱帶雨林氣候區 (B)熱帶莽原氣候區
(C)熱帶沙漠氣候區 (D)溫帶地中海型氣候區。
- () 帛琉、關島、大溪地等島嶼，海水清澈、風光明媚，是許多觀光客經常前往的度假勝地。請問：這些島嶼位於下列哪個海域？
(A)太平洋 (B)印度洋 (C)大西洋 (D)加勒比海。
- () 澳洲的地形景觀若由西向東排列，依序為何？(甲)平原低地 (乙)高原 (丙)山脈
(A)甲乙丙 (B)乙甲丙 (C)乙丙甲 (D)丙甲乙。

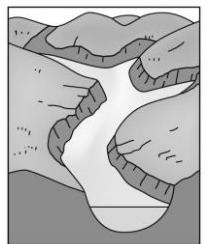
- () 「澳洲有只能走而不能飛的鳥，有只用雙腳行走的蟋蟀，有腳上長蹼的老鼠，真是個『珍貴動物博物館』。」下列何者是形成這種現象的主要因素？
(A)地質古老生態較複雜 (B)四面環海與各大陸隔絕
(C)熱帶沙漠面積廣大難以進入 (D)大分水嶺阻隔東西交通。
- () 電影「在世界的中心呼喊愛情」，劇情最後男女主角來到澳洲的艾爾斯岩，在荒涼的沙漠中，希望能將男主角埋藏在心中多年的感情與遺憾釋放出來。電影迷美美為追尋主角的足跡，一覽電影中讓人落淚的場景，決定到艾爾斯岩一探究竟。請問：她應到附圖中何處，才能看到電影中的景色？
(A)甲 (B)乙 (C)丙 (D)丁。



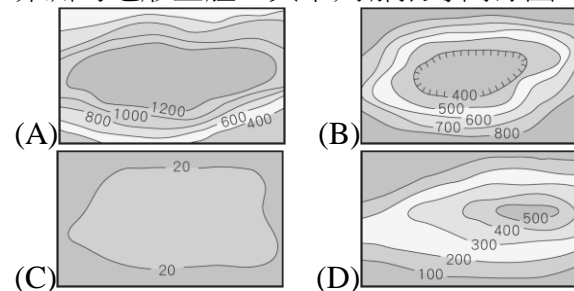
- () 造成紐西蘭有「活的地形教室」之稱的主因為何？
(A)全境地形多山
(B)斷層作用強，境內多陷落湖泊
(C)地殼擠壓區，境內山地落差起伏極大
(D)同時存有火山與冰河地形，地形景觀豐富。
- () 附圖為紐西蘭的國徽。圖中左方的女士代表歐洲移民，右方的男士代表當地的原住民，應是下列何種民族？
(A)毛利人 (B)因紐特人 (C)布希曼人 (D)貝都因人。



- () 附圖中的海岸景觀，除了可以在挪威欣賞到之外，下列哪個地區亦有相似的地形？
(A)澳洲 (B)日本
(C)夏威夷 (D)紐西蘭南島。

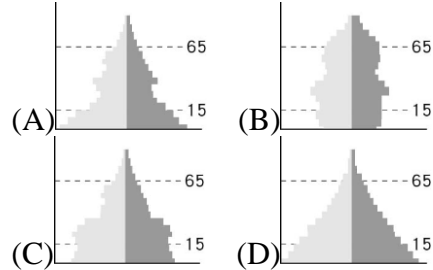


- () 非洲的地形主體，與下列哪張等高線圖的地形相同？



16. () 「非洲某地的農業經營型態是：10月至隔年3月時栽種大麥、小麥，5月至9月時種植葡萄、蔬菜，丘陵區則以橄欖、無花果等耐旱作物為主。」請問：此地應該是具備下列何種氣候特徵？ (A)夏熱冬寒 (B)夏涼冬暖 (C)夏乾冬雨 (D)夏雨冬乾。

17. () 非洲目前人口眾多，出生率、死亡率均居全球之冠，其年齡結構應呈現下列何種人口金字塔圖？



18. () 「除北非外，非洲沿海地區自古大多海運不興，故外人難窺其貌，且中部及南部因沙漠阻隔，要深入該地更加困難重重……。」請問：造成非洲海運不興盛的主要原因為下列何項？

(A)海岸陡峭平直 (B)河川稀少 (C)原住民凶殘 (D)政局不穩。

19. () 非洲的肯亞和剛果民主共和國都有赤道通過國境，年溫差皆小，但前者氣溫涼爽宜人，後者則終年高溫，造成此種差異的主要影響因素為何？

(A)地勢的高低 (B)距海的遠近 (C)洋流的性質 (D)盛行風的向背。

20. () 非洲大部分的地區位於熱帶氣候區，其中熱帶雨林森林茂密，樹種繁多；熱帶莽原卻樹木稀疏，高草原雜生。請問：造成兩地植被景觀不同的主要因素為何？

(A)氣溫的高低 (B)地勢的高低

(C)距海的遠近 (D)雨季的長短。

21. () 西亞地區為重要的石油產地，為彌補西亞各國缺乏勞力的問題，因此自鄰近的國家引進勞工。請問：哪國因為信仰伊斯蘭教與使用阿拉伯語的優勢，大量輸出勞工至西亞地區？

(A)坦尚尼亞 (B)埃及 (C)賴比瑞亞 (D)南非共和國。

22. () 亞斯文高壩建成後，對埃及帶來的影響不包括下列何項？

(A)糧食生產量增加 (B)尼羅河不再定期氾濫

(C)下游農田肥料支出增加 (D)尼羅河三角洲面積擴大。

23. () 非洲的國家在獨立後，因為下列何種因素的影響，許多國家陷入長期內亂，導致經濟發展較為緩慢？ (A)國土面積太小 (B)缺乏礦產資源 (C)族群組成複雜 (D)外國勢力入侵。

24. () 附表為某四個國家對外主要的出口品清單。由表中資料判斷，何者最可能為非洲國家？ (A)甲 (B)乙 (C)丙 (D)丁。

甲	電腦、汽車、軟體
乙	鋼鐵、汽車、電子產品
丙	咖啡、可可、石油、鐵礦
丁	牛乳、小麥、鐵礦

25. () 西非與東非許多國家從事一種或兩種作物的專業化生產，發展熱帶栽培業。這種農業景觀的出現與下列何者最有關係？ (甲)熱帶地區廣大 (乙)交通運輸便利 (丙)耕作技術精良 (丁)曾是歐洲人的殖民地

(A)甲乙 (B)甲丁 (C)乙丙 (D)丙丁。

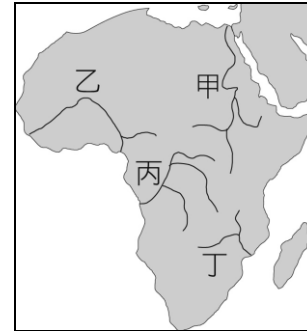
26. () 附表為西元2016年聯合國農糧組織所統計的「低收入缺糧國」的各洲數量，造成非洲較其他洲缺糧嚴重的原因，與下列何者有關？(甲)氣候寒冷 (乙)內戰頻仍 (丙)發展熱帶栽培業 (丁)沙漠化嚴重 (戊)人口負成長

(A)甲乙丁 (B)丙丁戊 (C)甲丁戊 (D)乙丙丁。

洲別	低收缺糧國數量
非洲	37國
中南美洲	2國
亞洲	11國
大洋洲	2國

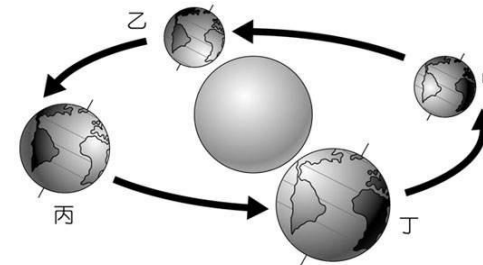
27. () 附圖是非洲簡圖。請問：若以點圖來表示人口分布，則圖中哪兩條河川沿岸的點數量最多，且分布最密集？

(A)甲乙 (B)甲丙 (C)乙丁 (D)丙丁。



28. () 附圖為地球公轉示意圖。在甲的位置時，北極圈內是永夜；在丙的位置時，北極圈內是永晝。請問：當地球在乙的位置時，臺灣的季節為何？

(A)春 (B)夏 (C)秋 (D)冬。



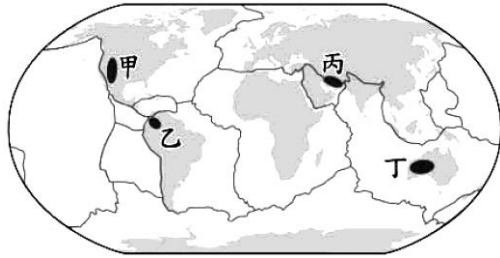
29. () 「相較於羊群，牛隻多棲息在較溼潤的開闊林地吃草或樹葉。」若根據此一條件判斷，圖中島嶼的哪一地點較適合放牧大量牛隻？

(A)甲 (B)乙

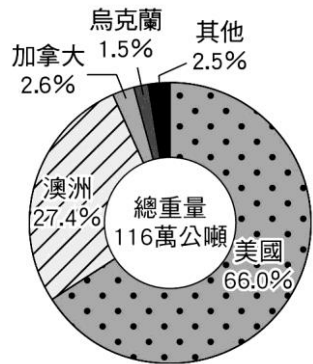
(C)丙 (D)丁。



30. () 南非高原、德干高原、巴西高原等地形區，具有陸塊形成時間久遠、地形相對平坦和金屬礦資源豐富等特徵。附圖是世界板塊分布圖，根據上述三區於圖中的分布位置推論，圖中何地也有相同特徵？
(A)甲 (B)乙 (C)丙 (D)丁。



31. () 附圖是臺灣 2010 年某項農產品進口總量及其來源國家和比例，根據圖中這些國家的自然環境與農業發展特性判斷，該項農產品最可能為下列何者？
(A)小麥 (B)蔗糖 (C)茶葉 (D)棉花。



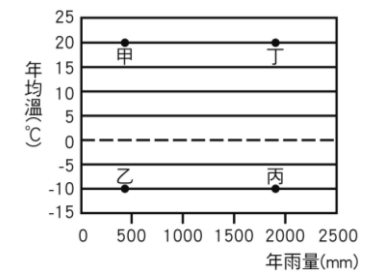
32. () 玻里尼西亞島群中，有部分島嶼面積較大、地勢較高、土壤較肥沃，較適宜農業發展，人口也較多。請問：上述島嶼的主要成因為何？
(A)珊瑚礁堆積 (B)火山作用 (C)石灰岩堆積 (D)板塊推擠。
33. () 澳洲東南部的雪梨、坎培拉等地氣候較為溼潤，因此成為人口集中的精華區。請問：此地區最主要的降水類型為何？
(A)對流雨 (B)鋒面雨 (C)颱風雨 (D)地形雨。
34. () 澳洲近年來將經濟重心移至亞洲各國，並積極參加亞太地區的組織。請問：以下何者是其逐漸退出原有市場之主因？
(A)歐洲聯盟整合，以及亞洲經濟勢力的崛起 (B)北美自由貿易區成立
(C)亞太經濟合作會議拒其加入 (D)石油輸出國家組織採取關稅壁壘政策。
35. () 下列何者是造成澳洲內陸乾燥，形成沙漠的原因？(甲)居背風側 (乙)副熱帶高壓籠罩 (丙)地勢高聳 (丁)沿岸暖流經過
(A)甲乙 (B)甲丁 (C)乙丙 (D)丙丁。



36. () 附圖為澳洲無尾熊棲地分布圖，根據圖中資訊判斷，下列敘述何者錯誤？
(A)棲地為澳洲人口較多處 (B)棲地位於大分水嶺東側
(C)位於溫帶海洋性氣候 (D)沿海有東澳暖流流經。

37. () 澳洲和紐西蘭兩國均是牧重於農，且畜牧業的發展方式，頗有相同之處。上述共同點乃因受何項因素影響所致？
(A)氣候乾燥 (B)地形平坦 (C)人力不足 (D)市場狹小。
38. () 地理雜誌中寫著：「紐西蘭地處中緯度，屬於較溫暖溼潤的地區，且因受西風吹拂，西岸的降水量多於東岸。」由以上報導可知，紐西蘭的氣候類型為何？
(A)溫帶大陸性氣候 (B)溫帶海洋性氣候
(C)夏雨型暖溫帶氣候 (D)副熱帶季風氣候。
39. () 紐西蘭自然資源豐富，若政府要開發綠色能源，下列何者較不具優勢？
(A)水力 (B)地熱 (C)風力 (D)太陽能。
40. () 附表為紐西蘭之南島與北島比較，下列何者錯誤？
(A)面積 (B)人口 (C)緯度 (D)地形特徵。

	北島	南島
面積	較小	較大
人口	較多	較少
緯度	較高	較低
地形特徵	熔岩臺地 火山地形	冰河地形



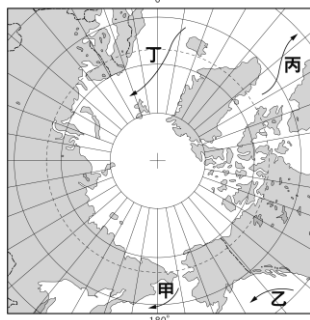
41. () 因紐特人的傳統建築以冰屋為主，經濟活動以打獵、捕魚為生。請問：因紐特人居住地區最可能是附圖中的哪種氣候環境？
(A)甲 (B)乙
(C)丙 (D)丁。
42. () 某位旅行家從北非乾燥地區出發，向北經地中海到達北歐，附圖是他記錄途中民宅常見的窗戶形式。在他的旅途中依序記錄的窗戶形式應為下列何者？ (A)甲→乙→丙 (B)甲→丙→乙 (C)丙→甲→乙 (D)丙→乙→甲。【104 教育會考】

甲 陽光充足且照射時間長，百葉窗可調整陽光進入的量。

乙 冬季日照時間很短，大窗戶可引入溫暖的陽光。

丙 窗戶偏小，僅作為通風之用，並可減少風沙吹入。

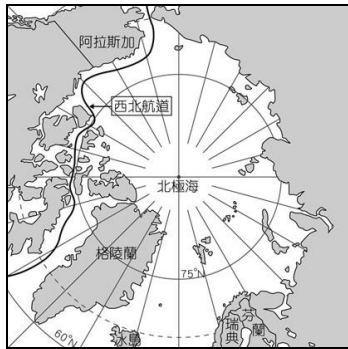
43. () 附圖為北極地區位置圖。北大西洋暖流由挪威沿海深入北極地區，使位於極圈內的莫曼斯克港即使冬季也不結冰。請問：圖中何者為北大西洋暖流？
(A)甲 (B)乙 (C)丙 (D)丁。



44. () 同樣位於極圈內，南極與北極的氣候卻因自然條件的差異而有不同。請問：南極地區氣候較北極寒冷的最主要原因為何？
(A)海陸性質 (B)風力強弱 (C)降雨多寡 (D)面積大小。
45. () 陳老師告訴大家：「當你從太平洋西側的密克羅尼西亞出發，前往東側的玻里尼西亞時，會經過一條經緯線，因此必須將手錶上的日期減一天。」請問：陳老師所說的經緯線為下列何者？
(A)經度 0 度 (B)緯度 0 度 (C)經度 180 度 (D)北緯 90 度。
46. () 小歲利用假日前往首都坎培拉參加一年一度的春季花卉節，該活動有南半球最大型花卉節慶的美譽，活動內容包括一系列園藝工作坊、音樂與娛樂節目等。小歲拜訪當天也是臺灣某個重要節日。請問：小歲最有可能在臺灣的哪個節日前往坎培拉？
(A)春節 (B)清明節 (C)中秋節 (D)聖誕節。

二、題組

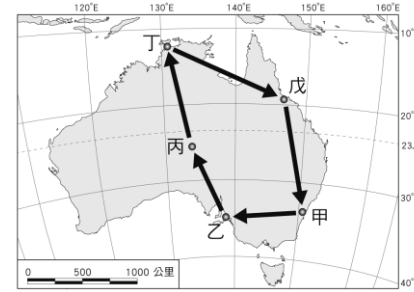
1. 附圖為北極地區地圖。請問：



- () (47) 西北航道是指從大西洋經北極海，進入太平洋的航道，目前航運已有改善。近來西北航道的暢通與下列哪個現象密切相關？
(A)海洋汙染使海冰融解
(B)暖流改變浮冰的位置
(C)船隻破冰設備的改進
(D)全球暖化使氣溫改變。

- () (48) 日前因在北極海海床發現蘊含石油、天然氣等豐富資源，故俄羅斯逕自派出迷你潛艇，潛入北極點的深海，同時在海床插上特製國旗，以宣示該國主權，此舉引起周圍其他國家不滿。請問：此周圍國家最不可能下列何者？
(A)日本 (B)挪威 (C)美國 (D)加拿大。

2. 小明前往澳洲自助旅行，附圖為小明所規畫的旅遊路線圖。請問：



- () (49) 小明在旅遊的行程中，印象最深刻的是造型特殊而新穎的「雪梨歌劇院」。該地應位於何處？
(A)甲 (B)乙 (C)丙 (D)丁。
- () (50) 小明旅遊的行程中，在何處最有可能全年都可以享受到海灘、陽光、海鮮大餐，以及珊瑚礁浮潛的水上活動？ (A)甲 (B)乙 (C)丙 (D)戊。