

一、單一選擇題：每格 2 分，共 82 分

1. () 秀嫻正在考量公司的營運項目，對著附圖中的三份企畫書猶豫不決，不知如何取捨。請問：秀嫻所考量的是下列哪一項生產課題？



- (A) 生產什麼 (B) 為誰生產 (C) 為何生產 (D) 如何生產
2. () 當我們所使用的資源，無法滿足我們的欲望，或是所擁有的物品數量少於我們所希望的數量時，會迫使我們面臨經濟學上的何種問題？ (A) 成本 (B) 消費 (C) 選擇 (D) 生產。
3. () 薇琪想要區分「自由財」和「經濟財」的差別，因此她先舉出「自由財」的例子，下列何者應是她所舉的例子？ (A) 空汙嚴重地區的「清潔空氣」 (B) 連年乾旱國家的「民生用水」 (C) 曬乾陽臺衣物的「溫暖陽光」 (D) 工作整年得到的「年終獎金」。
4. () 「資源有限，欲望無窮」，稀少性使我們必須做出選擇，而「稀少性」的定義為下列何者？ (A) 資源總數量的多寡 (B) 資源無法滿足人們的欲望 (C) 資源無法符合政府所定的標準數量 (D) 無法銷售出去的資源。
5. () 珈芝在電視上看到一段訪問，如附圖所示，從經濟學的角度來思考，該名受訪者的想法與下列哪一句話意義相符？

放棄百萬年薪的管理職位雖然有點可惜，但人生只有一次，我只想選擇做我認為最重要的事，盡自己的力量照顧弱勢孩童。



- (A) 資源有限，必須做出選擇 (B) 人的欲望無窮，無從選擇 (C) 資源用途單一，無法選擇 (D) 人的欲望稀少，易於選擇。
6. () 毅宸新成立的外送平臺，只提供本區上班族專屬優惠，因為他們忙碌的工作型態，是平臺最主要的使用者。對於毅宸考量的方向，下列敘述何者正確？ (A) 設定主要的消費族群 (B) 選擇利益最大的產品 (C) 使用品質最好的原料 (D) 決定最佳的生產方式。
7. () 經濟市場中，賣方經常面臨生產上的選擇，附圖中該店家的決定應與下列何者最相關？

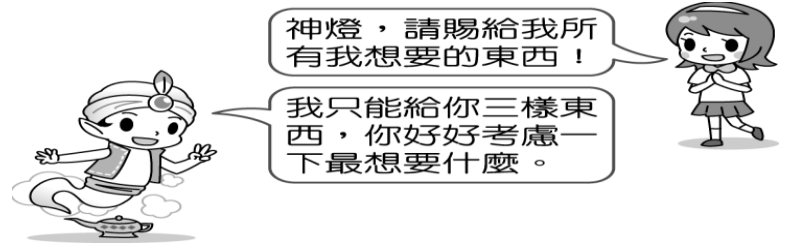
請問你們店裡的商品是哪裡做的？

我們店是專為喜愛在地商品的客人開的，全部國產原料，臺灣製造。



- (A) 原料的成本 (B) 商品的產量
(C) 販售的對象 (D) 銷售的地點。

8. () 若以經濟學的角度來看，附圖所傳達的意涵應為下列何項？



- (A) 資源是有限的，應以最有效率的方式運用 (B) 資源的稀少性是指所抱持的欲望太少 (C) 滿足欲望並不需要耗費資源 (D) 資源無窮但欲望有限，所以應增加欲望。

9. () 悅錫參加一場居民對公共建設興建的討論會，如附圖所示，不論居民做出哪一種選擇，都必須付出代價，這符合經濟學中的何種概念？

關於是否興建鐵路，針對大家提出的考量重點，現在進行討論。



- (A) 外部成本 (B) 外部效益 (C) 機會成本 (D) 受益原則。
10. () 雅靖根據以下新聞做出重點摘要，何項說明較為符合該則報導的內涵？

外電報導


全球各國深受新型冠狀病毒疫情影響，因此殷殷期盼疫苗上市。歐盟有數個成員國提出要求，希望歐盟處理疫苗分配不公的問題，因現今的分配方式並未按照每個國家的人口數比例。歐盟回應，除了人口數比例外，還須採用流行病學的方法進行分配，較能符合各國的需要，預計下次會議會針對此點進行討論。

- (A) 疫苗數量分配方式只有一種 (B) 任何成員國均無法表達意見 (C) 先進國家擁有疫苗分配權力 (D) 疫苗分配應考量公平問題。
11. () 在爆發新型冠狀病毒疫情期間，政府限制醫療口罩的價格與數量，對生產者而言，有何缺點？ (A) 獲利受限 (B) 成本提高 (C) 製程拉長 (D) 原料匱乏。
12. () 我們在日常生活中做種種選擇經常會受到誘因的影響。由附圖對話內容判斷，下列何者說明正確？



(A)政府提供的誘因屬於金錢誘因 (B)棕達的選擇受到負面誘因影響 (C)這次的選擇已對棕達產生損害 (D)此項政策不具吸引力，沒有任何成效。

13. () 因為資源稀少，人們必須面臨種種的選擇，這是經濟學的基本概念。附圖的遊戲場內有四名兒童，若他們想一起使用相同的遊戲設備，何者會出現資源稀少的問題？〔98.第一次基測〕



(A)鞦韆 (B)碰碰車 (C)蹺蹺板 (D)搖搖馬。

14. () 「有鑒於人們對休閒生活的重視，且附近地區約有 8,000 萬人口，14 歲以下就有 1,500 萬人之多，因此我們決定選擇此地區興建兒童主題樂園。」上述說法中，生產者所考量的主要是下列哪一項課題？〔99.第二次基測〕 (A)何時生產 (B)如何生產 (C)為誰生產 (D)生產數量。
15. () 璀璨生輝的鑽石受到許多人的喜愛。一克拉的鑽石，往往要處理 250 噸的岩石、沙和礫石後才能得到，因此鑽石價格十分昂貴，其最主要是基於下列何種因素？〔95.第一次基測〕 (A)具備稀少性 (B)生活的必需品 (C)軍事武力的來源 (D)國家財富的象徵。
16. () 經濟學家研究，消費者購物時看到「商品價格高少買，商品價格低多買」，請問此為何種理論？(A)供給法則 (B)需求法則 (C)均衡法則 (D)反向法則。
17. () 近年商業設計朝向個性化商品發展，也就是針對個人某些特質來設計商品，例如個人造型的人偶公仔、姓名貼紙或印上個人照片的衣服、杯子等。上述發展趨勢的形成，主要是因為生產者考量下列哪一項因素？〔98.第一次基測〕 (A)在哪生產 (B)如何生產 (C)何時生產 (D)為誰生產。
18. () 維護治安是警察機關的主要任務，但是當警方動員全部警力緝捕逃犯時，其人力就不可能同時用於其他方面，因此維護治安的資源需要做「最適當」的分配。上述說法主要是基於下列哪一種觀念的考量？〔100.第二次基測〕 (A)公共財 (B)受益原則 (C)機會成本 (D)負擔能力原則。
19. () 求職中的蓉蓉得到四個工作機會，她將這些工作的薪水加以比較後整理成附表。根據表中資訊判斷，霹靂光電的薪水及其機會成本各是多少元？〔99.第一次基測〕

公司名稱	薪水(元)	機會成本(元)
米奇科技	28,000	35,000
聯合公司	33,000	35,000
風城電子	30,000	35,000

霹靂光電	?	?
------	---	---

(A)薪水 33,000、機會成本 28,000 (B)薪水 33,000、機會成本 35,000 (C)薪水 35,000、機會成本 33,000 (D)薪水 35,000、機會成本 30,000。

20. () 小安有甲、乙、丙三份工作機會，將其機會成本繪製如附表。若小安在繪製表格時僅以薪資為考量，根據表中內容判斷，甲、乙、丙三份工作的薪資，由高到低依序為下列何者？〔105.會考〕

工作	機會成本
甲	丙的薪資
乙	甲的薪資
丙	甲的薪資

(A)丙、乙、甲 (B)甲、丙、乙
(C)丙、甲、乙 (D)甲、乙、丙。

21. () 福華社區考慮在社區內設置監視錄影系統，此一做法可能有助於維護社區治安，但卻也引發侵犯個人隱私的疑慮。對社區居民而言，這種維護安全或是保障隱私的選擇，隱含經濟學中的何種概念？〔98.第一次基測〕 (A)外部效果 (B)機會成本 (C)比較利益原理(則) (D)負擔能力原則。
22. () 偉凡有四個工作機會，他將每一份工作的薪水及其機會成本整理如附表，希望藉此做出選擇。但偉凡吃飯時卻不小心將醬油滴在上面，而且他也忘記丁公司提供的薪水數目。根據表中內容判斷，下列何者最可能是丁公司提供給他的薪水？〔102.基測〕

公司	薪水(元)	機會成本(元)
甲	30,000	40,000
乙	40,000	35,000
丙	35,000	40,000
丁		40,000

(A) 34,000 元 (B) 36,000 元
(C) 38,000 元 (D) 40,000 元。

23. () 「畜牧大國紐西蘭於 2004 年起，向農民徵收牛、羊、鹿的『放屁稅』，希望能藉此處理溫室氣體排放的問題。我國為降低二氧化碳的排放量，也思考過是否制定相關稅法來課徵綠色稅，但許多業者擔心競爭力會因此下降，引發反彈聲浪。業者的擔心雖不無道理，但政府仍應思考課徵綠色稅的可行性，讓使用者反省能源的使用方式，提高能源的使用效率，進而達成節能減碳的目的。綠色稅是否課徵，各有其利弊得失，如何選出最佳方案，考驗著執政當局的智慧。」文末畫上雙底線處的論點，最適合用下列何項經濟學概念來說明？〔101.基測〕 (A)比較利益 (B)機會成本 (C)外部效果 (D)受益原則。
24. () 小顏打算趁著暑假去打工，在面試過後得到三個薪資不同的工作機會，他將薪資情況整理成附表。根據表中資料判斷，若小顏僅依薪資多寡做選擇，最後決定去春來亭涼麵打工，則表中甲、乙、丙三處最可能為下列何者？〔103.會考〕

店家	時薪	機會成本
老王排骨飯	甲	
龍記烏骨雞		乙
春來亭涼麵	120	丙

單位：元／小時

- (A) 甲：110、乙：120、丙：110
 (B) 甲：110、乙：110、丙：110
 (C) 甲：100、乙：120、丙：120
 (D) 甲：100、乙：110、丙：120。

25. () 附圖為小江在面臨新工作機會時的選擇情況，若小江僅依薪資高低選擇薪資最高的工作，根據圖中內容判斷，甲、乙、丙工作的薪資高低關係為下列何者？〔106.會考〕

某日小江得到兩個工作機會 我選擇甲工作。 甲工作機會 ✓ 乙工作機會	隔天小江又多了一個工作機會 我還是選擇甲工作，但是選擇甲工作的機會成本提高了。 甲工作機會 ✓ 乙工作機會 丙工作機會
---	---

- (A) 甲 > 乙 > 丙 (B) 甲 > 丙 > 乙
 (C) 丙 > 甲 > 乙 (D) 丙 > 乙 > 甲。

26. () 飯店業者常針對不同時段的來客數量設定不同的價格，希望盡可能提高住房率。附表為某飯店原本房價及優惠後房價，根據表中資料判斷，若不考慮其他條件，下列何者最可能是該飯店推出優惠方案之前的住房情況？〔104.會考修訂〕

時段	原本房價(元)	優惠後房價(元)
甲	4,000	2,800
乙	4,000	2,000
丙	4,000	3,600

- (A)

時段	住房率
甲	40%
乙	90%
丙	70%

 (B)

時段	住房率
甲	70%
乙	40%
丙	90%

 (C)

時段	住房率
甲	70%
乙	90%
丙	40%

 (D)

時段	住房率
甲	90%
乙	40%
丙	70%

27. () 小冬的學校提供了三種畢業旅行方案供學生選擇，附表為他對此三種方案的偏好順序。根據表中內容判斷，小冬選擇不同方案的機會成本，其高低順序應為下列何者？〔103.特招〕

方案	行程	偏好順位
甲	花東逍遙遊	第三喜歡
乙	墾丁戲水樂	第一喜歡
丙	澎湖浮潛趣	第二喜歡

- (A) 乙 > 丙 > 甲 (B) 甲 > 丙 > 乙
 (C) 乙 > 丙 = 甲 (D) 甲 = 丙 > 乙。

28. () 阿發是平平銀行的信用卡客戶，附表列出該银行信用卡消費累積點數可兌換的商品，以及阿發對各項商品喜好程度的排序情形。請問：若阿發使

用已累積的 3,000 點兌換一輛變速腳踏車，根據內容判斷，他做此選擇的機會成本為何？〔94.第一次基測〕

所需點數	商品名稱	喜好之排序
3,000	電子辭典	3
3,000	運動手表	2
3,000	遊戲光碟	4
3,000	變速腳踏車	1

- (A) 電子辭典 (B) 運動手表 (C) 遊戲光碟 (D) 變速腳踏車
 29. () 《性別工作平等法》實施後，阿雄想申請留職停薪在家育嬰，但又考量到家庭收入可能短少，以及將來復職所要面臨的種種問題。請問：阿雄上述的考量符合經濟學的哪一種觀念？〔92.第一次基測修訂〕 (A) 受益原則 (B) 機會成本 (C) 外部效益 (D) 負擔能力原則。
 30. () 新聞報導：「政府為改善國庫財源不足的問題，擬尋求新的解決方案。」班上同學針對國家的財政收支狀況，分別提出不同的見解。下列哪一種說法最正確？〔95.第一次基測〕 (A) 為分散風險各項經費預算應平均分配 (B) 為解決財政困難須減少公營事業盈餘 (C) 預算執行之前須經司法機關審核通過 (D) 政府經費分配應考量機會成本的問題。
 31. () 由以下報導可知，航空公司推出這項行程搶市，以經濟學的生產面來看，應與何種課題最相關？

新聞報導

航空公司推出「偽出國」行程，專為想出國但因疫情而無法出國的民眾量身打造。乘客可以至機場逛免稅店購物，登機後在萬里高空中享受餐點，航班會飛至鄰近地區盤旋，並提供景點導覽介紹。行程甫一推出，名額即被搶購一空。

- (A) 選擇最適合的生產方式 (B) 搜尋成本最低的原物料
 (C) 選用最優質的生產工具 (D) 設定最主要的消費族群
 32. () 湘崗研究經濟學中的誘因時擷取一則新聞報導做例子，依以下報導所示，下列哪一項說明完全正確？

新聞報導 政府硬起來，酒駕加重處罰

酒駕肇事造成無辜民眾傷亡，政府決定修法重罰酒駕者，不僅罰款提高，情節嚴重者也將吊銷駕照、沒收車輛。


- (A) 修法目的在抑制酒駕行為的發生
 (B) 誘因的加入將增加酒駕者的利益
 (C) 修法部分只牽涉到非金錢的誘因
 (D) 修法內容中包含正向和負向誘因。
 33. () 耿雯發現透過適當的誘因能引導女兒做出正確的行為，由附圖內容判斷，下列說明何者正確？

妳今天表現很好，可以多看电视半小時。



- (A) 女兒當時行為應是拒絕收玩具
- (B) 耿雯是使用負向誘因誘發行為
- (C) 耿雯提供的誘因符合女兒需求
- (D) 這項誘因已經對女兒產生損害。

34. () 附圖是大開以圖畫方式，表示他對漁業資源枯竭的看法。根據圖中內容判斷，下列哪一項做法最有助於解決他所提出的問題？〔94.第一次基測〕



- (A) 限制魚類品種的培育
 - (B) 獎勵舉辦漁撈的競賽
 - (C) 鬆綁限捕的相關規定
 - (D) 規範捕魚範圍及數量。
35. () 近年來，自然景觀休閒遊憩「遊客總量管制」的觀念漸受重視，亦即在不破壞自然環境的前提下，評估該景觀可以承受的限度來安排遊客人數，如福山植物園便是採行事先申請、限額入園的做法。請問：上述內容最能顯示下列何種意涵？〔93.第二次基測〕
- (A) 土地過度使用超過負荷
 - (B) 珍惜資源以求永續經營
 - (C) 國土使用規畫日漸完備
 - (D) 週休二日休閒模式改變。
36. () 我們經常看到商家以「買二送一」或贈送其他商品的策略來吸引消費者，藉以促銷商品。請問：上述提供贈品的行銷方式，是希望達到下列哪一種效果？〔92.第一次基測〕
- (A) 提高購買能力
 - (B) 增加購買意願
 - (C) 提供交易媒介
 - (D) 降低交易風險。
37. () 「沙發衝浪 (couchsurfing) 是一種新興的互助旅遊型態。在網際網路的幫助下，藉由屋主免費提供陌生旅客住宿的空間，讓不同地區的民眾互相接觸，增加彼此了解，發揮互助分享精神，並建立對陌生人的信任感。但對沒有嘗試過的人而言，難免會擔心財物遭竊，因此民間也發展出多種認證機制，提供主客雙方進行辨識，增進彼此的信賴感。這樣的旅遊型態在年輕族群中得到廣大共鳴，因為對經濟較為拮据的他們而言，能節省旅費正是它最大魅力所在。」下列哪一項吸引旅客外出旅遊的誘因，與文中沙發衝浪對年輕族群的最大魅力，最能用同一項「影響消費行為的因素」說明？〔102.基測修訂〕
- (A) 每月休假天數增加
 - (B) 交通運輸票價調降
 - (C) 出國手續辦理時間縮短
 - (D) 網際網路資訊流通快速。
38. () 相較於名牌商品，下文中所討論的這類商品，其影響消費行為的主要因素，與下列何者最為相似？〔103.特招修訂〕

市場上常見許多「仿冒商品」，也就是外觀和名牌商品幾乎一樣，但是價格較為低廉的商品。不過我們仔細想想，這類商品的存在，除了貌似名牌商品的外觀，主要還是因為消費者受到商品價格影響的心理，所以總是能吸引人們購買。

但國內有些學者憂心地認為：仿冒商品缺乏獨特、創新的核心價值，且嚴重地侵害到智慧財產權。當仿冒的情況不限於商品，而擴大到其他領域時，將會使得產業的文化出現危機。因此，我國政府除了必須嚴格執行保護智慧財產權的相關法律外，建議更應積極地鼓勵廠商投入研發，製造更多享譽世界的臺灣精品。

- (A) 領到年終獎金，計畫帶家人一起出國遊玩
 - (B) 為節省開銷，至各賣場比較新鮮牛乳售價
 - (C) 颱風即將侵襲臺灣，提前至超市搶購蔬菜
 - (D) 為了支持偶像團體，購買他們代言的商品。
39. () 綺穎正與淑卿討論政府制定的某項公共政策，根據附圖中的對話內容判斷，下列何項敘述較為正確？



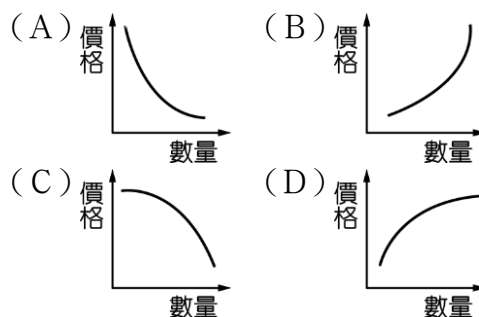
- (A) 博愛座的安排是由業者與全體乘客共同決定的
- (B) 支付較多車資的乘客應可以自由選擇座位
- (C) 法律強制規定的目的是為了照顧弱勢群體
- (D) 政府應編列經費讓身心障礙者乘坐計程車。

40. () 附圖是政府單位召開一場記者會中問與答的紀錄，根據內容判斷，下列何項敘述較為正確？



- (A) 政府興建社會住宅是錯誤的決策
- (B) 效益並非規畫預算時唯一的考量
- (C) 政府對國家經濟的發展較不重視
- (D) 大多數國人對社會住宅存在需求。

41. () 西元 2004 年時，新加坡成立一間以低票價為訴求的航空公司，但其服務內容少了空姐送餐點、飲料，如果顧客有餐飲需求，只能在機上訂餐盒。由於票價低廉，所以短程的飛行常常客滿。上述這種價格與數量的關係，可用下列哪一圖形來表示？



二、題組：每格 2 分，共 18 分

●爺爺出國旅遊，帶回一塊絲綢布，大家七嘴八舌討論怎麼處理，媽媽說：「(甲)這塊布料是要用來做衣服好呢？或做被套好呢？」爸爸答說：「這麼昂貴的布，做被套好像太浪費了！」媽媽又說：「(乙)若是做衣服，是要用手工縫製呢？或用裁縫車縫製呢？」爸爸又答：「手工縫製較能看出質感吧！」媽媽說：「(丙)做衣服是要做洋裝好呢？或做套裝好呢？」爸爸說：「(丁)看妳是要自己穿或做給女兒或是奶奶穿而決定囉！」請問：

- () (42) 爸爸針對媽媽的問題，強調須有「取捨」的回答，就是經濟學中的哪一種概念？ (A) 選擇 (B) 資源 (C) 消費 (D) 欲望。
- () (43) 根據上文，何者是說明「如何生產」的選擇課題？ (A) 甲 (B) 乙 (C) 丙 (D) 丁
- () (44) 根據上文，何者是說明「為誰生產」的選擇課題？ (A) 甲 (B) 乙 (C) 丙 (D) 丁

●新型冠狀病毒剛傳入臺灣時，國內醫療口罩的庫存量不足，再加上民眾面對未知疾病的恐慌，因此防疫商品如口罩、酒精紛紛被搶購一空，價格也呈倍數成長，但依舊極難購得，造成全臺灣人心惶惶。為避免疫情擴大蔓延，政府宣布禁止所有口罩出口，並規定醫療口罩的生產和銷售由政府管制，確保每個民眾都能買到口罩，也能避免口罩價格被哄抬。請問：

- () (45) 由上文可知，當疫情剛發生時，口罩價格是由誰決定的？ (A) 民眾 (B) 政府 (C) 廠商 (D) 買賣雙方。
- () (46) 當口罩禁止出口後，關於醫療口罩分配的實施，下列何者說明最為正確？ (A) 以廠商獲得最高利潤為原則 (B) 政府以公權力穩定市場經濟 (C) 民眾擁有多種商品可供選擇 (D) 透過自由買賣淘汰劣質產品。

●新聞報導：一位高麗菜農表示，每當市場上高麗菜價格提高時，大家就會一窩蜂的種植高麗菜，但大家搶種的結果，就是高麗菜收成的數量太多，超過市場上的需求，因此造成高麗菜價格崩跌，賣出的價格都不夠收成的成本。為了減少損失，他開放高麗菜田讓民眾自行摘採，一顆 10 元。很多民眾看了便宜，一次都採十幾顆，整個菜園也快被採光了。請問：

- () (47) 根據上文所述，對於高麗菜在市場上的價格與銷售，下列說明何者正確？ (A) 高麗菜價格崩跌的主因是民眾無力購買 (B) 由於其他蔬菜盛產，造成高麗菜滯銷 (C) 高麗菜價格上漲，會提高農夫種植意願 (D) 增加產量可帶動市場上高麗菜價格上漲。
- () (48) 上文中，該位高麗菜農為減少損失而使用的策略，顯示消費者在購物時的何種普遍法則？ (A) 價格變高，提升購買欲 (B) 價格變低，選擇不購買 (C) 價格變高，增加購買量 (D) 價格變低，增加購買量。

●高鐵延伸到宜蘭設站確定後，相關的環境評估計畫即刻運作。高鐵開入宜蘭後勢必帶動產業發展，對宜蘭長期的競爭力多所提升。在考量經濟發展的同時，交通部希望站址地點的設置，能盡量減少對自然生態帶來的負面影響，並避免因高鐵路線的經過，而造成在地居民的不便。需考慮的面向很多，各有利弊，因此交通部表示必須聽取專家、民眾等社會各方意見，審慎討論溝通後，取得共識，才能做出最後決定。請問：

- () (49) 根據上文，交通部考量的面向，應與下列何者最相關？ (A) 產業發展快速，彼此競爭激烈 (B) 政府經費不足，計畫難以推動 (C) 環境資源有限，必須做出選擇 (D) 行政效能不彰，損及公共利益。
- () (50) 由上文可知，交通部如何做出決策？ (A) 要求居民放棄個人利益，以地方開發利益為重 (B) 與產業界合作，推出最具經濟效益的開發計畫 (C) 各方意見無法協調，放棄設站以順利解決紛爭 (D) 理性評估做出適合的選擇，盡力滿足各方需求。