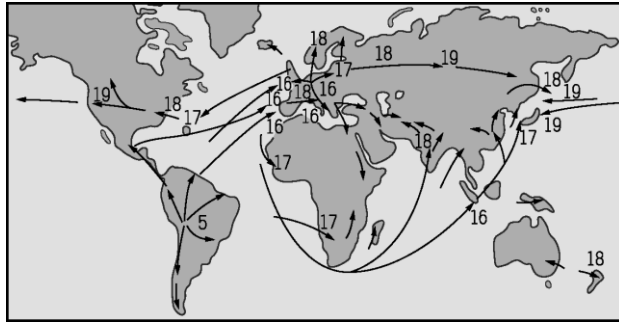
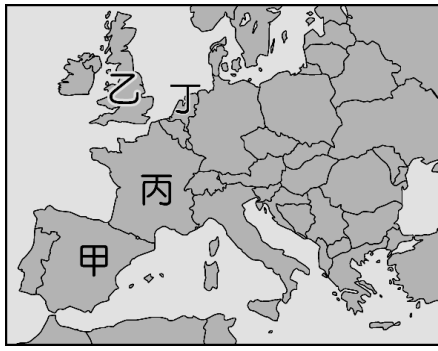


一、單一選擇題：40題，每題2分，共計80分。 ※共有55題，請用2B鉛筆畫記於答案卡。

1. ( )2020年開始受到新冠肺炎影響，全球經濟衰退。美國為因應此種狀況，2021年3月政府開始大量印鈔。有些經濟學者批評美國政府的做法無法挽救新冠肺炎造成的傷害，反而會讓經濟陷入更大危機，應該放任經濟自由發展，不該過度干預。請問：這些經濟學者應該是何人的信徒？(A)亞當斯密 (B)洛克 (C)孟德斯鳩 (D)狄德羅。
2. ( ) (甲)鄭和(乙)狄亞士(丙)哥倫布(丁)麥哲倫(戊)達伽馬。請依照這些探險家向外航行的時間，照時間先後順序排列？(A)甲乙丙丁戊 (B)甲乙丙戊丁 (C)丙甲乙戊丁 (D)戊丁丙乙甲。
3. ( )15~17世紀歐洲展開海外探險，除了對於商品的需求促使商人們尋求新航路以外，驅使歐洲人進行海外探險的原因還有下列何者？(A)尋找新大陸 (B)傳播基督福音 (C)證明指南針的功用 (D)找尋新作物。
4. ( )附圖為玉米、蕃薯農作物傳播到世界各地種植的時空示意圖，圖中數字表示農物流傳到該地的時間(世紀)，箭頭則代表傳播的方向。請根據圖上資料判斷，該農作物的原產地最可能是在下列何處？〔96.第一次基測〕



- (A)美洲 (B)非洲 (C)亞洲 (D)歐洲。
5. ( )電影《女王與知己》描述19世紀的英國維多利亞女王晚年時和她的僕從阿布杜勒成為忘年之交的故事。阿布杜勒是英國在東方殖民地精挑細選要獻上禮品給女王的侍從，女王非常喜愛阿布杜勒，還為了他學習蒙兀兒帝國使用的語言，更深入的認識阿布杜勒的家鄉，在宮廷裡引起軒然大波。最後當女王過世，阿布杜勒隨即被趕出英國宮廷回到家鄉，最後抑鬱而終。請問：阿布杜勒的家鄉是哪裡？(A)印尼 (B)東印度群島 (C)香港 (D)印度。
  6. ( )「政府能夠代表國家行使統治權，是因為它經由合法的方式，獲得大多數人民的授權，而被統治的人民為了本身利益也願意與政府合作。若政府沒有獲得多數人民的授權，也不代表多數人民的利益，那麼人民應撤回自願的合作，絕不履行所謂的國民義務。但要嚴格遵守非暴力的原則，不可使用暴力反抗，要忍受暴力的打擊，自我犧牲，但絕不妥協，絕不服從，誓死反抗。」此文主要反映出下列何種理念？〔100.第一次基測〕(A)天賦人權 (B)三權分立 (C)自由放任 (D)主權在民。
  7. ( )17世紀歐洲的科學人才輩出，他們運用新方法及新工具，提出新觀點，成立科學團體，在哪些方面都有長足進步？(甲)化學(乙)天文學(丙)遺傳學(丁)物理學 (A)甲乙 (B)乙丁 (C)丙丁 (D)甲丁。
  8. ( )「但是當我把所有的思想都視為虛假的時候，我又立刻發覺，這個產生這種思想的『我』也是絕對重要的，因此才注意到『我思故我在』的真理是如此的穩固，如此的確定。因此，我決定毫不猶豫地接受它，作為我所尋求哲學的第一原理。」其講述這段話的人最有可能是下列何者？(A)笛卡兒 (B)培根 (C)牛頓 (D)伽利略。
  9. ( )西元16世紀時，西班牙、葡萄牙成為世界強權與海權霸主。請問：此兩個國家的共同歷史背景為何？(A)文藝復興擺脫宗教的束縛 (B)三十年戰爭激發民族意識 (C)基督教聯軍東征確立教宗權威 (D)海外拓殖厚植國力。
  10. ( )伽利略過世時，托斯卡納大公希望把他葬在佛羅倫斯聖十字教堂裡，卻遭受教會的反對，最後只能葬在禮拜堂附近的小屋內。請問：教會反對的理由為何？(A)提倡演繹法 (B)提出三大運動定律 (C)掀起哥白尼革命 (D)發明望遠鏡。
  11. ( )在17、18世紀，人類發展出下列哪些重要的民主思想？(甲)國君的權力是上帝所賦予的(乙)個人的自由權利是政府給予的(丙)政府應採用三權分立的原則來避免專制(丁)政府的權力來自政府與人民所簽訂的「契約」(A)甲乙 (B)丙丁 (C)甲丙 (D)乙丁。
  12. ( )歷史事實與歷史解釋不同，最大的差別在於歷史事實是呈現客觀的事實本身；而歷史解釋則是史學家對史實的詮釋。就歐洲歷史上的科學革命而言，下列哪一項敘述屬於歷史解釋？〔91.第一次基測〕(A)牛頓提出三大運動定律 (B)政府成立科學研究機構 (C)溫度計、顯微鏡等新工具問世 (D)這個時期被稱為「天才的世紀」。
  13. ( )歷史課時，老師問同學：「大航海時代以前，歐亞陸上交通受制於哪些民族？」同學應如何回答才正確？(A)中國人、阿拉伯人 (B)義大利人、鄂圖曼土耳其人 (C)鄂圖曼土耳其人、波斯人 (D)印度人、阿拉伯人。
  14. ( )16世紀末，原本的海上霸權因為內政問題逐漸沒落，荷蘭、英國崛起，取代其地位。請問：原本的海上霸權位於附圖中何地？



(A)甲 (B)乙 (C)丙 (D)丁。

15. ( )大米閱讀名人傳記，書中描述著：「此人相信由歐洲西岸向西航行，橫越大西洋，即可到達東方，因此在西班牙女王的支持下，開始航行，並且意外的發現了美洲新大陸。」請問：大米閱讀的是何人的傳記？ (A)哥倫布 (B)達伽馬 (C)麥哲倫 (D)狄亞士。
16. ( )附表是依某一概念所整理出的表格，若依相同概念填入第四組內容，下列何者最適宜？〔96.第一次基測〕

	關係
1	英國—印度
2	荷蘭—印尼
3	葡萄牙—澳門
4	?

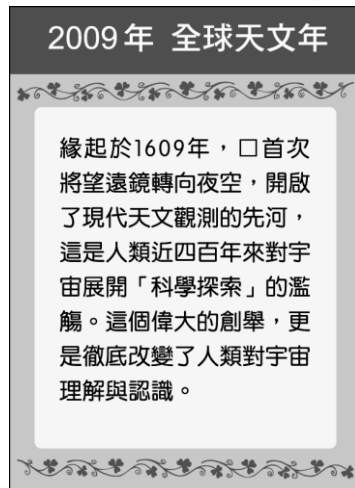
(A)西班牙—菲律賓 (B)德國—普魯士 (C)法國—丹麥 (D)蘇聯—美國。

17. ( )有一套圖書的目錄分別有「哥白尼」、「牛頓」、「培根」等人的傳記。請問：依此判斷，此套圖書的內容與下列哪一主題有關？ (A)宗教改革 (B)文藝復興 (C)科學革命 (D)大航海時代。
18. ( )附圖是在凸顯 18 世紀英國哪一位學者的貢獻，其學說影響後來歐、美等國的經濟學理論？



(A)亞當斯密 (B)牛頓 (C)笛卡兒 (D)狄德羅。

19. ( )附圖是林老師在整理資料時發現的舊海報，根據海報內容判斷，應填入下列何人？



(A)哥白尼 (B)伽利略 (C)笛卡兒 (D)牛頓。

20. ( )阿飛研究歐洲人餐桌上的飲食，他發現中世紀歐洲食物味道乏善可陳，貴族飲食普遍使用蜂蜜、鼠尾草、香芹、水果調味，平民食物更多是撒鹽燉煮，亞洲香料非常昂貴且數量稀少，和現今歐洲料理大量使用胡椒、肉桂、孜然、肉荳蔻、番紅花、薑黃、薑、白糖等亞洲香料大相逕庭。請問：歐洲食物風味開始轉變最大的原因是下列何者？ (A)新航路促使亞洲貨物大量流入 (B)氣候暖化歐洲植物像改變 (C)阿拉伯商人大量傾銷 (D)教宗允許各階層使用香料。
21. ( )1788 年 1 月 26 日，英國航海家菲利普率領首批移民定居雪梨，並且升起英國國旗，澳洲被視為為英國殖民地。後來為解決英國監獄過度擁擠的問題，英國開始將囚犯運往澳洲安置並進行開發，從開始到結束大約有 16 萬名男女囚犯來到澳洲進行土地開墾，也造成難以抹滅的破壞。請問：上述的破壞不包括下列何者？ (A)傳染病造成原住民人口銳減 (B)原住民喪失土地 (C)歐裔人口愈來愈多 (D)現今該地原住民已滅絕。
22. ( )立婷看某本關於航海的書籍時，發現作者引用了大航海時代為背景，創作出一系列故事。其中一篇是主角遇見著名航海家麥哲倫所發生的故事。請問：下列哪一事件與上述的著名航海家有關？ (A)贊助葡萄牙船隊遠航至好

望角 (B)率領船隊抵達美洲的西印度群島 (C)繞過好望角，抵達印度西岸 (D)其船隊完成環繞世界一周的創舉。

23. ( )「一個人人追求私利的君主國中，任何政治團體其實都有演變為暴政的可能，所以個人自由的維護，有賴於我們透過對政治機構的技巧性設計，特別是透過立法、行政與司法權威的相互區隔，以均衡社會內部的利益糾葛。」上述言論是最適合用於介紹下列哪一主題？〔95.第二次基測〕 (A)希臘時代的民主思想 (B)中古世紀的教會統治 (C)啟蒙時期的政治理想 (D)20世紀的極權政體。
24. ( )從16世紀哥白尼的「地球繞日說」，到17世紀伽利略主張「太陽中心說」、牛頓發表「萬有引力定律」，這些學說的提出，在歷史上最可能具有下列何種意義？〔改寫自104年會考〕 (A)信仰應以聖經為依據，否定教會的權威 (B)恢復古典學術研究，重視人的尊嚴價值 (C)強調信仰堅定，神創造的世界沒有缺陷 (D)試圖用理性態度，了解宇宙的自然法則。
25. ( )荷蘭統治臺灣時期的末代臺灣長官揆一在面對鄭成功猛烈的攻擊時，曾寫信向總部求援，卻因為季節風向不對遲遲等不到援軍，最後黯然投降。請問：揆一的信應該寄送到下列何地？ (A)印尼巴達維亞 (B)日本長崎 (C)荷蘭阿姆斯特丹 (D)中國廣州。
26. ( )下列哪些是在科學革命時期首次提出的？(甲)我思故我在(乙)三大運動定律(丙)萬有引力定律(丁)地球中心說 (A)甲丙丁 (B)甲乙丙 (C)甲乙丁 (D)乙丙丁。
27. ( )16~17世紀發現大量科學新知，被稱為「科學革命」。下列哪些因素促進了科學革命的發生？  
甲、「神權至上」的觀念；乙、人文主義思想的影響；  
丙、印刷術的傳入與運用；丁、科學研究方法的提倡；  
戊、科學研究機構的成立；己、尋獲古希臘羅馬典籍  
(A)甲乙丙丁 (B)甲乙戊己 (C)乙丙丁戊 (D)乙丁戊己。
28. ( )附圖為英國東印度公司在印度所發行的貨幣，正面為東印度公司紋章，背面為當時上層社會普遍使用的波斯文。請問：該硬幣背面使用的語言為印度歷史哪一段的痕跡？



- (A)蒙兀兒帝國統治 (B)古印度地方割據 (C)英國殖民統治 (D)阿利安入侵印度。
29. ( )有一種探究科學的方法是觀察後找出共通點(如附圖)，在科學革命時期，這個科學方法被下列何人大力提倡？
- 
- (A)培根 (B)伽利略 (C)哥白尼 (D)笛卡兒。
30. ( )牛頓是一位近代知名的科學家，其在科學上有何貢獻？ (A)提出三大運動定律 (B)以歸納法研究並解決問題 (C)提出太陽為宇宙的中心 (D)提倡演繹法。
31. ( )「天花、麻疹和流行性感感冒等疾病首次隨歐洲征服者傳達至此，在第一波天花疫情中，至少半數的墨西哥與秘魯原住民病死，無力抵抗歐洲人的攻掠。征服者在這些地區『神奇的勝利』主要是病毒的勝利，所以病毒是新世界真正的征服者。」上文所述該地區原住民發生的情況，最可能與下列何者有密切關係？〔102.基測修訂〕 (A)英國人殖民印度時導致的變動 (B)荷蘭、葡萄牙競逐東印度群島所導致 (C)葡萄牙派遣達伽馬海外拓展的手段 (D)西班牙人入侵美洲時所造成的傷害。
32. ( )鴻昇打算利用寒假籌拍一個有關16世紀美洲古文明生活下原住民的微電影。請問：下列哪一個細節設定錯誤？ (A)發生的地點在中南美洲 (B)此時為馬雅文明最強盛的時代 (C)原住民人口劇減與歐洲白人有關 (D)已出現黑人奴隸。
33. ( )怡君在電視上看到巴西每年舉辦的嘉年華慶典活動頗為熱鬧，準備在隔年到里約熱內盧參加活動。請問：她應該學習下列哪種語言以便與當地人溝通？ (A)西班牙文 (B)葡萄牙文 (C)法文 (D)荷蘭文。
34. ( )西方最早從事尋找新航路的國家為何？ (A)英國 (B)挪威 (C)葡萄牙 (D)德國。
35. ( )采瑩讀完世界史，歸納西元15世紀歐洲人遠航的動機有哪些？(甲)對亞洲的香料、絲綢等貴重物品的需要(乙)貿易路線被義大利商人及鄂圖曼土耳其商人所掌控(丙)藉機傳播伊斯蘭教的福音 (A)甲乙 (B)乙丙 (C)甲丙 (D)甲乙丙。

36. ( )小飛非常想去看被列為世界遺產的泰姬瑪哈陵，這座建築用白色大理石建造而成，是蒙兀兒王朝第五代皇帝沙賈汗為了紀念他的第二任妻子興建的陵墓，融合波斯、伊斯蘭、印度風格，被譽為穆斯林藝術的瑰寶奇葩。請問：小飛應該要訂飛往何地的機票？ (A)印度 (B)尼泊爾 (C)印尼 (D)中國。
37. ( )啟蒙運動時期，法國有一位學者將當時的知識作有系統的整理，於是邀集學者合編《百科全書》。請問：此人是誰？ (A)洛克 (B)亞當斯密 (C)狄德羅 (D)笛卡兒。
38. ( )西元16世紀，曾經有一位科學家提出「太陽為宇宙中心」的觀點，說明地球並非宇宙的中心。請問：此科學家是下列何人？ (A)哥白尼 (B)笛卡兒 (C)伽利略 (D)牛頓。
39. ( )2020年10月11日墨西哥的社運組織發起「我們要將它拉倒」的抗議行動，他們的目標是城市中佇立的哥倫布雕像。造成墨西哥社運組織如此憤怒的原因為16世紀時，哥倫布等歐洲殖民者為美洲帶來許多影響，其中不包括下列何者？ (A)帶來傳染病 (B)屠殺原住民 (C)消滅馬雅文明 (D)造成人口銳減。
40. ( )大航海時代以後，歐洲各國在海外貿易與傳教，對世界各地造成重大的影響。關於此一過程，下列敘述何者正確？ (A)歐洲人打破中國和日本閉關自守的局面，獲得通商權 (B)耶穌會教士到中國傳播新教，促進中西文化交流 (C)歐洲進入海權時代，確立在近代世界中的主導地位 (D)從境外輸入奴隸至歐洲、澳洲開採白銀，有助於歐洲工商業的發達。

**二、題組題：兩大題，每小題2分，共計10分。**

1. 15世紀的大航海時代揭開了海權時代序幕，激起歐洲人海外殖民探險的熱潮，對後世影響深遠。請依附圖回答下列問題：



- ( ) (41)曉晴如果想參訪古老的印加文明遺跡，她應該至圖中何處？ (A)丁 (B)戊 (C)庚 (D)己。
- ( ) (42)西元1487年，葡萄牙航海家狄亞士首先到達圖中何處南端，至此眾人相信繞過此處，繼續前進一定會抵達印度？ (A)甲 (B)丙 (C)丁 (D)戊。
- ( ) (43)現今我們常吃的食物如玉米、番薯及馬鈴薯等，這些作物的原產地位於圖中何處？ (A)甲 (B)乙 (C)丁 (D)己。
2. 閱讀下列選文，回答下列問題：

1517年，一位西班牙富商前往今日墨西哥南部的猶加敦半島參訪，發現許多金字塔神殿，對於當地的文化大感驚歎。他向原住民詢問當地的地名，在經過一番比手畫腳之後，得到的答案是「槍奴克坦」。富商認為這就是地名，將它記錄下來，後來經過演變成為今日的猶加敦。但事實上這句話並非地名，根據當地的語言，這句話代表「你在講什麼，我聽不懂！」這就是猶加敦半島地名戲劇性的由來。〔99.第二次基測〕

- ( ) (44)文中西班牙富商所參訪的地區，最可能位於附圖中的何處？



- (A)甲 (B)乙 (C)丙 (D)丁。
- ( ) (45)根據上文所述，當地的文化是屬於下列何者？ (A)埃及文化 (B)馬雅文化 (C)波斯文化 (D)巴比倫文化。

**三、配合題：三大題，每小題1分，共計10分。**

1. 15世紀以來，歐洲人開始向海外發展，甚至透過新航路與新大陸的發現，帶動遠洋貿易的興起，並且促進海權時代的來臨。關於上述的時代背景與發展現狀，試根據下列各項敘述，從以下選項中挑選最適合的答案（請寫代號）：

(A)英國 (B)西班牙 (C)荷蘭 (D)葡萄牙

- ( ) (46)「某國航海家狄亞士，首先到達非洲好望角，至此眾人更加相信，繞過好望角繼續前進，終會到達印度。」據上述判斷，狄亞士是何國的航海家？

( ) (47)航海家達伽馬曾為何國奠定其商業與海上強權勢力？

2. 以下是啟蒙運動時期思想家的主張，請將適當的選項填入：

(A)洛克 (B)盧梭 (C)孟德斯鳩 (D)亞當斯密

( ) (48)生命、自由與財產是人類不可剝奪的「天賦人權」。

( ) (49)政府組織應採行政、立法、司法「三權分立」的原則，互相制衡。

( ) (50)政府的權力來自人民的委託，也就是「主權在民」。

( ) (51)市場上，若供過於求，價格會下跌；供不應求時，價格則會上漲。

3. 重要科學家與學說配對：

(A)演繹法 (B)三大運動定律

(C)歸納法 (D)太陽為宇宙中心

(52)培根→【           】。

(53)笛卡兒→【           】。

(54)牛頓→【           】。

(55)哥白尼→【           】。



~運氣是當機會來臨時，你已做好準備。(丹佐·華盛頓)~