

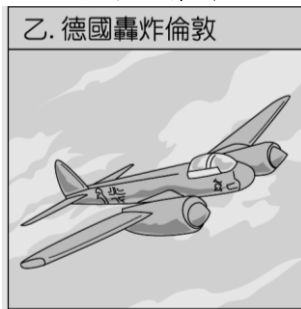
命題範圍：歷史(六)第3-4章(共4頁) 命題教師：朱孟女

一、單一選擇題：37題，每題2分，共計74分。 ※共有55題，請用2B鉛筆畫記於答案卡。

- () 1930年代，德國積極對外侵略，當時英、法等國採取下列何者，使國際形勢愈加險峻？ (A)姑息政策 (B)孤立主義 (C)共產主義 (D)法西斯主義。
- () 第一次世界大戰的轉捩點是俄國爆發革命，美國加入戰局；那麼第二次世界大戰的轉捩點則是發生哪一事件，促使歐、亞兩個原本分離的戰場合流，成為名副其實的世界大戰？ (A)德國採無限制潛艇政策 (B)蘇聯與德國簽訂互不侵犯條約 (C)日本偷襲珍珠港 (D)德國入侵波蘭。
- () 如果要編一部《20世紀大事紀要》，下列哪些大事應予以列入？(甲)中國武昌起事(乙)國際聯盟成立(丙)德、義的統一運動(丁)第一次世界大戰 (A)甲乙丙 (B)乙丙丁 (C)甲丙丁 (D)甲乙丁。
- () 第一次世界大戰後，德、義兩個極權政治興起的背景，有何相似之處？ (A)都是戰敗國 (B)同樣經濟困難 (C)都受國際聯盟的制裁 (D)都遭受英、法外交封鎖。
- () 附表中的甲、乙是德國在20世紀前期兩個不同階段的經濟年平均成長率。請問：由甲階段演變成乙階段的關鍵因素是什麼？

| 項目 \ 階段 | 甲 | 乙 |
|----------|-----|------|
| 國民生產毛額 | 2.8 | 0.4 |
| 每一國民平均所得 | 1.7 | -0.1 |
| 每一雇員平均產量 | 1.6 | -0.2 |

- (A)開羅會議 (B)柏林會議 (C)巴黎和會 (D)雅爾達會議。
- () 有一位蘇聯的領導人，在他執政後，對外改善與西方國家的關係，對內則採行開放政策，希望改善人民生活，結果不但造成日後蘇聯瓦解，也造成蘇聯及多數共產黨垮臺。這一位影響重大的政治家是誰？ (A)馬克思 (B)史達林 (C)戈巴契夫 (D)赫魯雪夫。
 - () 一位女士回憶某一事件說：「當時全家被困在政治孤島之中，物資極度缺乏，連牛奶、衛生紙及冬天取暖用的煤，都是美軍利用飛機，搭起空中橋梁運送進來。這種生活大概持續了一年，直到蘇聯軍隊解除封鎖，情況才得以改善。」這位女士所說的事件是下列何者？ (A)古巴危機 (B)柏林危機 (C)越戰 (D)八二三炮戰。
 - () 小丁問老師：「如果沒有馬克思，近代的世界歷史會有很大的不同嗎？」這種假設性問題，雖然很難有較明確的答案，但也反應出馬克思思想確實對歷史的發展產生重大影響。請問：第一個將馬克思思想付諸實驗，建立共產政權的國家是何者？ (A)蘇俄 (B)英國 (C)日本 (D)義大利。
 - () 第二次世界大戰結束後，受到戰爭波及的各國百廢待舉，此時，在歐洲地區以蘇聯為首的共產勢力悄悄蔓延。為抵制蘇聯壯大勢力，美國提出下列何者，以透過與友邦形成盟約，制衡蘇聯的影響？ (A)民族自決方針 (B)門羅宣言 (C)以消費刺激經濟政策 (D)圍堵政策。
 - () 某電視公司籌畫拍攝1944年的諾曼第登陸，其拍攝的地點應選在何處？ (A)德國北部 (B)法國西部 (C)英國東北部 (D)義大利東部。
 - () 德國與日本、義大利簽有防共協定，並組成反共的軸心國，然而德國於1939年卻單獨與共產國家簽訂互不侵犯條約，其原因何在？ (A)為了併吞捷克 (B)為了進攻波蘭 (C)共同防止美國勢力伸入歐洲 (D)為了加入聯合國。
 - () 歷史老師上課時拿出四張圖片，如附圖。請問：若按照發生的時間排列，下列哪一項順序是正確的？



- (A)甲乙丙丁 (B)丁乙甲丙 (C)丁丙乙甲 (D)丙丁乙甲。
- () 下文是一份俄國報紙就當時實際情況所作的報導：「布爾什維克黨人決定發動一場新政變……他們正在利用群眾廣泛的不滿及無知……。」報導中所指的「一場新政變」是指哪一歷史事件？ (A)1905年的日俄戰爭 (B)1917年的二月革命 (C)1917年的十月革命 (D)1928年的計畫經濟。
 - () 第一次世界大戰期間，英、法軍隊合作，遏阻了德軍的攻勢，雙方在西線形成何種戰局？ (A)殲滅戰 (B)宣

傳戰 (C)壕溝戰 (D)閃電戰。

15. ()1957年，蘇聯發射全世界第一顆人造衛星史普尼克進入太空，之後也搶先美國率先發射火箭進入太空，為此美國總統大為震怒，要求全國教育進行改革培養兒童科學素養，期待迎頭趕上蘇聯，最後在登陸月球的競賽中才扳回一城。請問：當時美國與蘇聯的關係為何？ (A)亦戰亦和的微妙關係 (B)分享核武的盟友 (C)共同興建柏林圍牆的夥伴 (D)共同援助西歐復甦的主要推手。
16. ()小環的歷史報告主題與第三世界有關，其內容哪一項錯誤？ (A)大多未加入美、蘇兩大集團 (B)為爭取國際政治舞臺的發言權勢必團結 (C)包括亞、非兩洲等新興國家 (D)內部政局穩定，經濟繁榮。
17. ()心靖利用暑假到美國遊學，某天安排到紐約聯合國總部參觀。請問：心靖在下列學習單上的缺空處，應填上何者才正確？

聯合國總部的所在地，領土的所有權不屬於美國，而是世界上唯一的一塊「國際領土」。

聯合國由六大主要機構所組成，其中□主要任務為解決國際糾紛，有權要求會員國提供武力。

(A)聯合國大會 (B)安全理事會 (C)國際法院 (D)秘書處。

18. ()小奇在圖書館翻閱《世界戰爭全集》一書，查到下列戰爭：(甲)鴉片戰爭(乙)甲午戰爭(丙)八國聯軍(丁)第二次世界大戰。請問：上述戰爭中，哪些是日本曾涉及者？ (A)甲乙丙 (B)乙丙丁 (C)甲丙丁 (D)甲乙丁。
19. ()第一次世界大戰的爆發，主要是由哪兩國的衝突而起？ (A)俄國、德國 (B)塞爾維亞、俄國 (C)奧匈帝國、塞爾維亞 (D)奧匈帝國、俄國。
20. ()附圖是1939年英國首相張伯倫在某次會議結束以後，於機場所拍攝的照片，張伯倫自豪地向群眾展示與希特勒的和平協定。請問：該協定的獲取乃基於下列何者的犧牲？



(A)法國 (B)捷克 (C)德國 (D)蘇聯。

21. ()戰間期，德國、義大利、日本等國的歷史發展，有何相同之處？ (A)都積極向海外推展貿易 (B)均以經濟改革解決經濟危機 (C)均制定了民主共和的憲法 (D)都積極向外侵略發展。
22. ()埃里希是一位作家，他想要以第一次世界大戰為背景，寫一部小說。關於小說的情節，他預先做了一些設定，如下列所示，請問：埃里希應該選擇哪一個場景，才符合小說的背景設定？

時間：1915年

主角：19歲德國高中生萊爾、戰友米勒

情節：萊爾自願加入軍隊，接受基本軍訓之後，就被送上戰場，在西部戰線與法軍對峙。

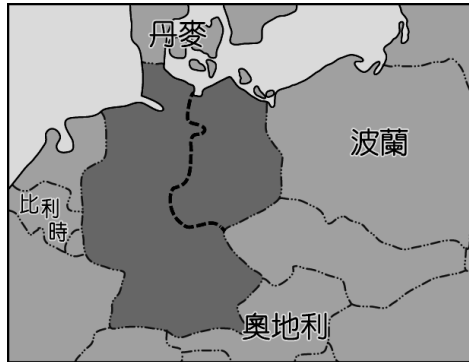
場景：？

- (A)冰天雪地的西伯利亞 (B)老鼠虱子橫行的德國壕溝 (C)歷史悠久的萬里長城 (D)黃土飛揚的黃土高原
23. ()哪一條約簽訂之後，德國便有恃無恐，於1939年派兵入侵波蘭，揭開第二次世界大戰的序幕？ (A)《凡爾賽條約》 (B)《南京條約》 (C)《雅爾達密約》 (D)《德蘇互不侵犯條約》。
24. ()猶太人在第二次世界大戰後，由英、美等國協助回到三千年前祖先居住的西亞建國，但是種族、宗教都與鄰國格格不入，導致爆發多次衝突。請問：他們所建立的國家是下列何者？ (A)以色列 (B)衣索匹亞 (C)波蘭 (D)敘利亞。
25. ()美國在兩次世界大戰中，參戰的影響情形如何？ (A)大戰開始時即立即加入戰爭 (B)均在敵國攻擊其本土之後參戰 (C)均以投擲原子彈結束戰爭 (D)參戰之後加入的陣營均獲勝。
26. ()德法戰爭後，德國害怕法國報復，積極進行國際秘密結盟，達到孤立法國的目的，但因為高喊大日耳曼主義和發展海軍拓展海外殖民地，最後反而讓法國找到盟友。下列何國為當時法國的盟友之一？ (A)俄國 (B)美國 (C)義大利 (D)奧國。
27. ()附圖是政治諷刺漫畫，呈現美蘇兩國領導人合力壓著標註「核戰」的金屬箱子，試圖阻止箱內的怪物跑出來。請問：這張漫畫最有可能是描述哪一時代的哪一事件？



(A)戰間期：經濟大恐慌 (B)二次大戰：投下原子彈 (C)冷戰：古巴危機 (D)冷戰：柏林危機。

28. ()附圖是 1949 年至 1990 年間歐洲部分地圖，圖中深灰色的區域曾屬同一國家，但在此期間卻依虛線為界，分屬不同政權。此長期分裂情況發生的原因，主要與下列何者有關？

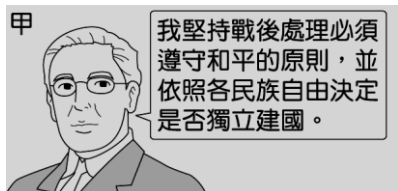


(A)第三世界的出現 (B)種族隔離的實施 (C)宗教信仰的差異 (D)冷戰局勢的發展。

29. ()有位外交官參加 1919 年的一場國際和會，原本期望大會能對戰費、領土等議題做出公正明智的處置，但最後的決議卻令他失望。他表示：「許多代表運用詭辯來掩飾他們的報復行為，強索巨額賠款，又屈從於強權，不能公正處理領土問題。」請問：這位外交官批評的是下列何者？ (A)德法戰爭之後，德國對法國的處理 (B)《凡爾賽條約》中，協約國對德意志的處置 (C)維也納會議中，戰勝國對拿破崙的安排 (D)法國大革命後，反法聯盟對付法國的策略。
30. ()第一次世界大戰進行至 1917 年後，中途退出和加入戰局的國家分別為何？ (A)德國、法國 (B)俄國、奧國 (C)俄國、美國 (D)義大利、美國。
31. ()「交換手段難逃長河冰封，工業企業盡成枯枝敗葉，農場產品找不到市場，千萬家庭的多年積蓄毀於一旦。」上述的社會現象可能發生於下列何地？ (A)1900 年的德國 (B)1925 年的英國 (C)1928 年的俄國 (D)1932 年的美國。
32. ()1930 年代，美國羅斯福總統大力推行「新政」，推動社會福利，調整外交策略，穩定了經濟局勢。當時推行此政策的主要背景為何？ (A)希特勒積極對外擴張 (B)美、蘇陷入長期冷戰局面 (C)黑奴解放後產生經濟問題 (D)一次大戰後經濟大恐慌發生。
33. ()墨索里尼與希特勒取得政權有共同的背景，下列敘述正確的有哪些？(甲)戰敗和約的屈辱(乙)都以武力發動政變(丙)經濟極端困難(丁)人民對政府的不滿 (A)甲乙 (B)甲丙 (C)乙丁 (D)丙丁。
34. ()阿寶將第一次世界大戰與第二次世界大戰作比較，兩者有何相似之處？ (A)所有歐洲國家均捲入戰爭 (B)英、美均加入同盟國作戰 (C)中國均屬於戰勝國 (D)俄國均中途退出。
35. ()對於美國國力擴張得以晉升為世界強國，最具關鍵影響的是哪一場戰爭？ (A)美國獨立戰爭 (B)德法戰爭 (C)第一次世界大戰 (D)第二次世界大戰。
36. ()第二次世界大戰末期，美、英、蘇三國召開會議，決定東歐各國的收復交由何國辦理，造成戰後東歐各國的赤化？ (A)蘇聯 (B)中國 (C)英國 (D)法國。
37. ()冷戰結束後，國際上因經濟、政治、宗教間的發展落差與價值差異，依然有許多紛爭，甚至爆發衝突。請問：下列何者是發生在這個階段的衝突？ (A)越戰 (B)古巴危機 (C)以阿衝突 (D)九一一事件。

二、題組：三大題，每小題 2 分，共計 16 分。

1. 附圖中的甲、乙、丙三人是某三個國家的元首，請從三人的發言回答下列問題：

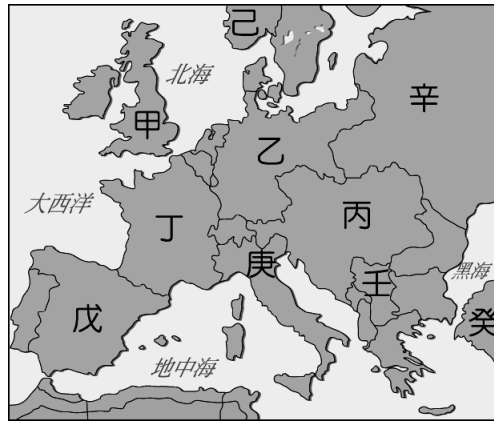


- () (38) 甲除了堅持和平的原則，也提倡成立哪一組織，以維護世界和平？ (A) 國際聯盟 (B) 聯合國 (C) 北大西洋公約組織 (D) 歐洲聯盟。
- () (39) 在巴黎和會中，乙所屬國家順利取得山東半島的權利，進而引發中國國內爆發下列哪一起事件？ (A) 七七事變 (B) 五四運動 (C) 西安事變 (D) 九一八事變。
- () (40) 被迫接受割地、賠款、削減軍備的丙，應是哪一國家的元首？ (A) 俄羅斯帝國 (B) 義大利王國 (C) 德意志帝國 (D) 大英帝國。

2. 某次革命的起事者喊道：「反對戰爭！」、「結束專制！」，沙皇政府派出一大隊士兵掃蕩該城。士兵最初擁護政府，殺害了不少示威者，但後來愈來愈多士兵倒戈反向，支持革命，令革命浪潮更趨激烈，最終推翻了沙皇政權。請問：

- () (41) 上文中提到的這場革命為何？ (A) 法國大革命 (B) 英國清教徒革命 (C) 俄國二月革命 (D) 俄國十月革命。
- () (42) 上文中革命起事者所提出的口號：「反對戰爭」，指的是反對政府參與的哪一場戰爭？ (A) 第一次世界大戰 (B) 第二次世界大戰 (C) 德法戰爭 (D) 日俄戰爭。

3. 附圖是第一次世界大戰前夕歐洲形勢圖。請問：



- () (43) 大戰的導火線爆發於哪一組國家的衝突？ (A) 乙壬 (B) 乙丙 (C) 丙壬 (D) 乙丁。
- () (44) 大戰期間，哪一國因國內發生革命而退出戰場？ (A) 己 (B) 庚 (C) 辛 (D) 壬。
- () (45) 交戰雙方在西線的戰場形成壕溝戰，協約國在西線的主力國家為何？ (A) 甲丁 (B) 乙丁 (C) 乙庚 (D) 丙辛。

三、配合題：四大題，每小題 1 分，共計 10 分。

1. 請將下列衝突及危機與其原因相對。

(A) 柏林危機 (B) 古巴危機 (C) 以阿衝突

- () (46) 因猶太人建國而引發的衝突。
- () (47) 因蘇聯封鎖美、英、法控制區而引發的衝突。
- () (48) 因蘇聯興建飛彈基地而引發的衝突。

2. 請將下列重要會議與其內容相對。

(A) 雅爾達會議 (B) 開羅會議 (C) 巴黎和會

- () (49) 決議戰後由蘇聯接收東歐地區。
- () (50) 以十四點原則為重要原則。
- () (51) 聲明日本必須無條件投降。

3. 請將下列國家與其相關事蹟相對。

(A) 英國 (B) 美國 (C) 法國 (D) 俄國

- () (52) 1918 年退出第一次世界大戰的國家。
- () (53) 因受孤立主義影響未加入國際聯盟的國家。

4. 請將下列人物與其建立的極權政黨相對。

(A) 希特勒 (B) 列寧 (C) 墨索里尼

- () (54) 俄國共產黨。
- () (55) 法西斯黨。

~人生最大的榮耀，不是永遠不敗，而是屢仆屢戰。(拿破崙)~