

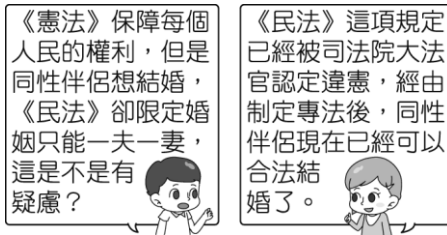
一、單一選擇題：39題，每題2分，共計78分。 ※共有55題，請用2B鉛筆畫記於答案卡。

1. ( ) 政黨輪替是檢視一個國家是否民主化的指標之一，附表為我國第9至15任總統大選各政黨總統候選人的得票率，由表中資料可觀察出我國共出現幾次政黨輪替？

	中國國民黨	民主進步黨	其他
第9任	54%	21.13%	24.87%
第10任	23.1%	39.3%	37.47%
第11任	49.89%	50.11%	...
第12任	58.45%	41.55%	...
第13任	51.6%	45.63%	2.77%
第14任	31.04%	56.12%	12.84%
第15任	38.61%	57.13%	4.26%

(A)一次 (B)二次 (C)三次 (D)四次。

2. ( ) 《憲法》是國家的根本大法，根據附圖兩人的討論，對於該項違憲爭議的說明，下列何者正確？



(A) 《憲法》雖具最高性，仍應遵從法律規定 (B) 任何法律或命令都不可以抵觸《憲法》 (C) 少數族群的權利無法適用《憲法》規定 (D) 司法院大法官的判決高於《憲法》效力。

3. ( ) 國家制定《憲法》是為了長治久安，因此《憲法》的修改過程通常較為困難與繁複。請問：上述說明《憲法》具有哪一項特性？ (A) 普遍性 (B) 固定性 (C) 原則性 (D) 最高性。

4. ( ) 政府曾修《戶籍法》條文，強制民眾要按指紋才可以領身分證，引發各界撻伐，後來大法官解釋認定該條文抵觸《憲法》，於是政府刪除該條文，沒有實施這項政策。請問：上述凸顯《憲法》具有哪一項特性？ (A) 原則性 (B) 最高性 (C) 固定性 (D) 技術性。

5. ( ) 人民可請求國家從事一定的行為，而享受特定利益的權利，是指下列何種基本權利？ (A) 受益權 (B) 自由權 (C) 平等權 (D) 參政權。

6. ( ) 以下是鎮東為作業所蒐集的資料，此作業的主題應該是人民的哪一項基本權利？

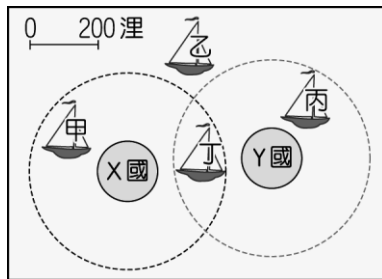
▲每個人在法律上均享有同等的權利，擔負同等的義務。  
▲任何人都不得享有特權或有所歧視。

(A) 受益權 (B) 自由權 (C) 平等權 (D) 參政權。

7. ( ) 我國籍遠洋漁船上，船長與漁工的對話如以下所示：

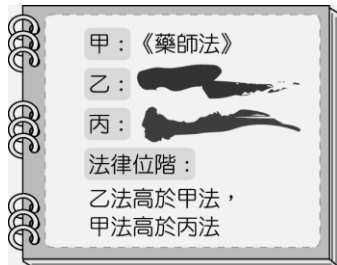
漁工小義：「船長，我們可以下網捕魚了嗎？」  
船長小城：「沒問題，我們的船已經開到可自由捕魚的公海上了。」

根據上述內容判斷，小城的船隻最可能位於附圖中哪一個位置？〔105.會考〕



(A) 甲 (B) 乙 (C) 丙 (D) 丁。

8. ( ) 小毛借小蠻的筆記來抄，但不小心沾到汙漬。請問：依照附圖的筆記內容推論，「丙」法最可能是下列何者？



(A)《憲法》 (B)《憲法增修條文》 (C)《校園霸凌防制準則》 (D)《地方稅法通則》。

9. ( )下列三種法律，如依法律位階「由高至低」排列，何者正確？(甲)《中華民國憲法》(乙)《政府出版品管理辦法》(丙)《地方稅法通則》 (A)甲乙丙 (B)甲丙乙 (C)丙乙甲 (D)乙丙甲。
10. ( )我國《憲法》保障人民的平等、自由、受益與參政四項基本權利，下列哪一項權利的行使，是屬於受益權的範圍？〔90.第二次基測〕 (A)陳先生自費出版自己的著作 (B)林小姐參加公務人員的考試 (C)張小姐發起成立學術性社團 (D)王先生向立法院遞交請願書。
11. ( )附圖中兩人針對某起事件發表看法，由對話內容可知，現代民主國家的哪一項功能發揮了效果？



- (A)保衛國民安全 (B)促進產業發展 (C)推動社會福利 (D)保障基本人權。
12. ( )吐瓦魯在 2000 年時，因為全球暖化的關係，被認為將是全球第一個被海水淹沒的國家，當時還造成當地有錢人的移民潮。根據上述，吐瓦魯若被海水淹沒，而導致國家消失，這是因為欠缺下列哪一項國家的組成要素？ (A)政府 (B)人民 (C)領土 (D)主權。
13. ( )員工超時工作的現象在臺灣十分普遍，且有些公司並未按照法令給予員工例假，讓他們不能獲得適當休息，以致過勞死的事件時有所聞，這些公司的作法已嚴重違反《勞動基準法》的規定。請問：《勞動基準法》應屬於下列哪一法律位階？ (A)命令 (B)法律 (C)憲法 (D)憲法增修條文。
14. ( )公民課時，三位同學分別扮演不同的法律位階，以下是他們的臺詞。請問：阿達、阿甘、安安所扮演的角色依序為何？

阿達：「我是由立法院制定、修正。」  
阿甘：「我是由各行政機關訂定、修正。」  
安安：「我的修改須由立法院提案，公民投票複決。」

- (A)憲法、法律、命令 (B)憲法、命令、法律 (C)法律、命令、憲法 (D)命令、法律、憲法。
15. ( )上公民課時，老師說明國家是由人民、土地、政府、主權四個要素所構成之後，分別請四位同學列舉我們國家的構成要素。請問：哪一個同學的敘述最符合國家構成要素的意涵？〔91.第一次基測〕 (A)小君：「中華民國建國於西元 1912 年。」 (B)阿裕：「中華民國的國慶日是十月十日。」 (C)小雄：「青天白日滿地紅旗是中華民國的國旗。」 (D)阿雯：「具有中華民國國籍者為中華民國國民。」
16. ( )國家存在的目的會隨時代而改變，根據附圖內容，顯示現代民主國家的哪一項功能發揮了效果？



- (A)改善文化環境 (B)促進產業發展 (C)保障國民安全 (D)推動社會福利。
17. ( )小文曾看過一則報導：「八八風災捐款監督引發關注，內政部表示，募得款高於預募金額的民間團體應依《公益勸募條例》第 19 條規定，依主管機關許可的募得款使用計畫專款專用，不得移作他用。」請問：《公益勸募條例》是由哪一個單位制定並修正？ (A)司法院 (B)立法院 (C)內政部 (D)行政院。
18. ( )法律無法規定所有鉅細靡遺的事項，因此會適時授權行政機關發布命令，下列何者即屬之？ (A)《公民投票法》 (B)《人事管理條例》 (C)《地方稅法通則》 (D)《大學遠距教學實施辦法》。
19. ( )立法院通過《全民國防教育法》，規定我國不論政府機關、學校與民間機構，都要從事「全民國防教育」。請問：制定《全民國防教育法》的用意，應是為了發揮現代民主國家的哪一項功能？ (A)保衛國民安全 (B)推動社會福利 (C)改善教育環境 (D)維護社會秩序。
20. ( )以下為麗筠參加班遊後所寫的心得感想，由內容可知，這是現代民主國家的哪一項功能發揮了影響？

這次班遊到羅東文化工場，讓我受益很多，因為看到內容豐富的建築展覽，感覺很驚豔，沒想到可以用這麼多元的方式來展現建築美感。

(A)改善文化環境 (B)保障基本人權 (C)維護社會秩序 (D)促進產業發展。

21. ( )以下為一家網路媒體的觀察報導，若要為此內容擷取摘要，何者較適當？

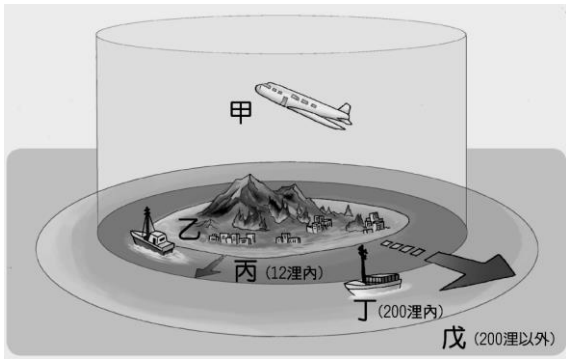
社論觀察

政府部門力求決策的公開化、透明化，除了可以杜絕假新聞、假訊息的傳播讓民眾產生錯誤認知外，也希望民眾能夠積極參與公共事務，讓政府施政更接地氣。唯有民眾信任政府，政策才能順利制定與推動。

(A)民意支持有助於政府政策的進行 (B)制定政策應以網路訊息為基礎 (C)民眾應避免對公共政策發表意見 (D)政府封鎖網路可遏止假訊息傳播。

22. ( )各國的交換學生在課堂上分享自身參與政治的經驗，下列何人最可能來自獨裁國家？ (A)美君：我國領導人握有國家的最高控制權，人民很少接觸政治 (B)櫻蓮：下個月我要請假回國投票，因為我們即將舉行總統大選 (C)宏聖：如果民眾質疑某項公共政策，政府就必須做出修正調整 (D)世宇：我常去參加公聽會，直接和政府部門溝通政策制定問題。

23. ( )一個國家擁有軍事管轄權的地理區域包含附圖中哪些部分？



(A)甲乙丙 (B)乙丙丁 (C)甲乙丁 (D)丙丁戊。

24. ( )政府為因應失業問題，除了提供失業給付外，更積極協助失業者參與職業訓練，提供就業資訊，以增加他們就業的機會。上述政府的作為保障了人民的哪項基本權利？ (A)財產權 (B)平等權 (C)工作權 (D)自由權。

【107 會考修改】

25. ( )公民課時，班上進行小組討論，主題為「國家的組成要素」。請問：下列何人的言論正確？ (A)小鋒：國家可由許多民族組成 (B)芝芝：國家通常委由國際組織管理國內人民 (C)小菲：國家享有的國際權利會受政府更替影響 (D)大鵬：國家的領海包含經濟海域。

26. ( )附圖中兩人的對話內容，可以用下列何者來說明？



(A)實施民主政體，造成行政效率低落 (B)成立聯合政府，缺乏其他政黨監督 (C)政黨施行的政策，必須對人民負責 (D)政治人才斷層，導致政黨喪失功能。

27. ( )某一工廠排放廢水、廢氣，引發附近居民集結抗議，要求對方改善或遷出。請問：居民可要求擁有一個適合居住與成長的環境，為下列哪一種人民的基本權利？ (A)環境權 (B)隱私權 (C)多元文化權 (D)健康照護權。

28. ( )阿木在介紹國家的概念時提到：「國家享有獨立自主的地位，無須服從更高權威，儘管各國國力有所差距，但是國際地位應一律平等。因此，任何國家皆無權干涉他國內政。」根據上述內容判斷，他解釋的是下列何種國家構成要素？〔100.第一次基測〕 (A)主權 (B)人民 (C)政府 (D)領土。

29. ( )小玲服務的公司，強制員工簽訂「單身條款」，規定女性員工結婚後必須無條件辭職。請問：這種作法違反《憲法》所賦予人民的哪些基本權利？〔90.第一次基測〕 (A)平等權、受益權 (B)平等權、參政權 (C)自由權、受益權 (D)自由權、參政權。

30. ( )領海為領土的範圍之一，其定義為距離海岸線以外多遠範圍以內的海域？ (A)200 浬 (B)200 公里 (C)12 浬 (D)12 公里。

31. ( )「一個國家的統治機關，也是達成政策目標所不可缺少的組織。」上述是指國家的哪一項組成要素？ (A)人民 (B)領土 (C)政府 (D)主權。

32. ( )國家推動社會福利措施，對社會弱勢群體給予特別的照顧，此為現代民主國家的哪一項功能？ (A)推動社會福利 (B)維護社會秩序 (C)促進產業發展 (D)改善教育環境。

33. ( )附圖為紹恭撰寫報告時收集的資料，他研究的主題最可能是下列何者？

- ◎大陸委員會進行「民眾對兩岸相關議題之看法」民意調查
- ◎臺北市政府尊重民眾投票結果，停止發放元宵節小提燈
- ◎都市發展局將民眾於公聽會反映的意見傳達至內政部

(A)選舉對獨裁國家的影響 (B)民意與政府政策的決定 (C)外交與國際關係的發展 (D)政府與企業的合作關係。

34. ( )下列是大法官們在一次會議中，解釋某條法律的部分內容：「……臨檢自屬警察執行勤務方式之一種。臨檢實施之手段……均屬對人或物之查驗、干預，影響人民行動自由、財產權及隱私權等甚鉅，應恪遵（謹慎遵守）法治國家警察執勤之原則。實施臨檢之要件、程序及對違法臨檢行為之救濟，均應有法律之明確規範，方符憲法保障人民自由權利之意旨。」上述解釋法律者是屬於我國中央政府的哪一個機關？〔97.第二次基測〕 (A)司法院 (B)行政院 (C)立法院 (D)考試院。

35. ( )以下新聞報導顯示何項國家組成要素的重要性？

#### 新聞快報

立法院通過臺菲司法互助協定：

臺菲簽署的司法互助協定，日前於立法院通過，將有助於兩國處理相關司法問題。

(A)人民 (B)政府 (C)主權 (D)領土。

36. ( )政府為因應失業問題，除了提供失業給付外，更積極協助失業者參與職業訓練，並提供就業資訊，以增加他們就業的機會。上述政府作為所要保障的人民基本權利類型，與下列何者最類似？〔107.會考〕 (A)接受國民教育提升國民素質 (B)組織政治團體表達民意訴求 (C)投票罷免失職民選公職人員 (D)遷移居住地至新工作地點旁。

37. ( )附圖中的情境所牽涉的自由權，應是指下列何者？



(A)人身自由 (B)信仰宗教自由 (C)秘密通訊自由 (D)集會及遊行自由。

38. ( )香香高中畢業後參加公務人員考試，後來她通過考試，在政府機關擔任行政人員。上述香香的行為，是行使下列哪一類型的人民基本權利？〔100.北北基〕 (A)平等權 (B)自由權 (C)受益權 (D)參政權。

39. ( )政府為了落實環保政策，推行限用塑膠袋政策，雖然此政策可保障人民的環境權，但在推行之初，卻讓塑膠工廠面臨裁員危機，導致塑膠產業工人的何種權利遭到侵害？ (A)自由權 (B)參政權 (C)平等權 (D)受益權。

## 二、題組題：三大題，每小題 2 分，共計 12 分。

1. 由於網路技術和直播平臺興起，許多公眾人物開始在網路上直播，觀看者可以透過留言與直播主即時互動。就讀國中二年級的璇燁常在課餘時收看政府官員的直播，這種口語化的說明方式，讓民眾更容易了解政府規畫的政策內容，而官員們也能立刻接收民眾提出的質疑，並給予回應，提供了一個彼此溝通討論的管道。璇燁認為，即使是國中生也應該嘗試參與政府的施政過程。請問：

( ) (40)根據上文，對於民意與政府政策之間關係，下列說明何者正確？ (A)國家權力已擴張到極限 (B)政府施政受到民意監督 (C)政府官員不受人民信賴 (D)民眾較少關注公共議題。

( ) (41)璇燁的作為與下列何者的關連性較大？ (A)關心公共事務，學習民主知能 (B)鼓勵大眾消費，促進經濟發展 (C)關懷弱勢群體，投入公益活動 (D)重視休閒娛樂，健全身心發展。

2. 2020 年總統選情激烈，在野黨極力爭取選民認同，強調只有讓政黨再次輪替，才能表達對過去四年的不滿。最終選舉結果，執政黨贏得勝選，敗選的候選人發表感言，除了推崇我國民主自由的珍貴，並呼籲群眾尊重選舉結果、支持當選者，因為這是多數國民的共同決定。請問：

( ) (42)上文畫線處是在野黨於選舉中的主張，與下列何項敘述最相近？ (A)每次選舉都會造成政黨輪替 (B)背離民意的政府將輸掉選舉 (C)參選者應盡力維護政黨利益 (D)選舉過程必須秉持和平理性。

( ) (43)由敗選者的感言可看出我國舉辦選舉具有何種意義？ (A)減少社會階層造成的貧富差距 (B)確保政府行政效率的高度發揮 (C)避免外國勢力主導內政的推動 (D)賦予執政權的合法性與正當性。

3. 領有計程車牌照的計程車可以在招呼站依「先到」順序停靠攬客，而招呼站的站牌標誌樣式由政府統一格式辦理，非

經道路主管機關同意而擅自設立計程車招呼站者，可依《道路交通管理處罰條例》開罰。請問：

- ( ) (44) 上述所提《道路交通管理處罰條例》應該是法律位階的哪一個層級？ (A)《憲法》 (B)法律 (C)命令 (D)契約。
- ( ) (45) 下列關於《道路交通管理處罰條例》的敘述，何者正確？ (A)由行政機關制定修正 (B)於法律位階中，效力最低 (C)具有最高性、固定性、原則性 (D)經立法院三讀通過。

**三、配合題：兩大題，每小題 1 分，共計 10 分。**

1. 請依下列敘述，將正確的答案代號填入空格中：

(A)自由權 (B)受益權 (C)參政權 (D)平等權

- ( ) (46) 低收入戶可請領生活補助金。
- ( ) (47) 不論男性或女性，在工作權益上不得有所歧視。
- ( ) (48) 對於民選產生的公職人員，人民可用投票方法，撤銷其任職的權利。
- ( ) (49) 人民有權參加各種國家考試。
- ( ) (50) 人民得將自己的想法、意見書寫成文字，進而出版。
- ( ) (51) 人民有請願、訴願及訴訟的權利。
- ( ) (52) 政府不得強迫人民信仰某種宗教，亦不得妨害合法的宗教活動。
2. 法律可以分為三個位階，分別是憲法、法律與命令；請依下列敘述填入正確的法律代號：

(A)憲法 (B)法律 (C)命令

- ( ) (53) 立法院三讀通過的法律。
- ( ) (54) 由行政機關制定的法規。
- ( ) (55) 修正過程須經公民投票複決。



~成大事不在於力量多少，而在能堅持多久。~