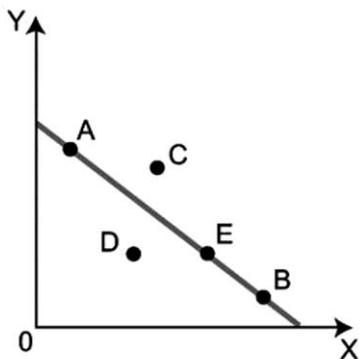


一、單選題(24 題，每題 2.5 分，共 60 分 不倒扣)

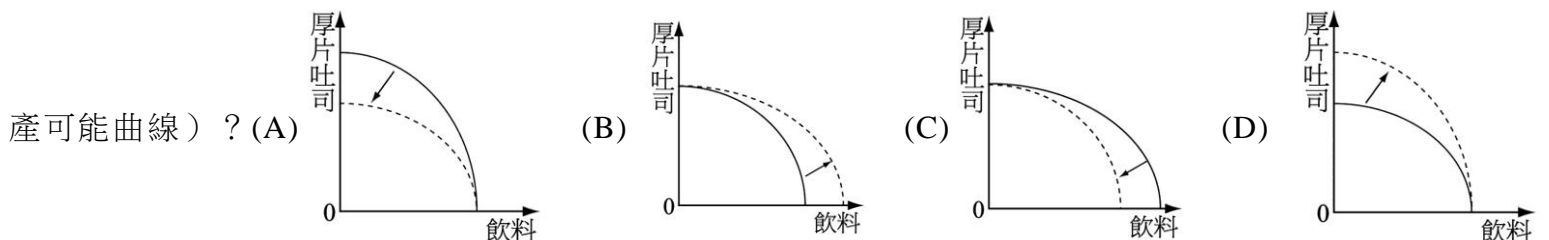
使用電腦回收卡從第 51 題開始畫卡(共 5 頁)

51. ( ) 畫家小丁畫了一幅「蘭嶼映象」送給朋友瑜瑜，瑜瑜收到後很開心，於是自己把「蘭嶼映象」大量複印，分送給其他朋友，並將原作放在自己經營的餐廳。小丁知道後要求瑜瑜停止此項行為。關於兩人的敘述，下列何種可能在法律上最為合理？ (A)小丁已經將該畫作送給瑜瑜，因此無權干涉瑜瑜將該畫作複印及送人 (B)瑜瑜認為複印時有標註這幅畫是小丁所畫，沒有侵權 (C)小丁認為這幅畫的作者是 他，只有他能決定畫要放在哪裡 (D)瑜瑜雖擁有這張「蘭嶼映象」的所有權但卻沒有著作權，因此不能任意複印及分送他人
52. ( ) 我國某部法律明文規定「工資由勞雇雙方議定之。但不得低於基本工資。」，並須設立基本工資審議委員會來擬訂基本工資。請問：此規定最有可能規定於下列哪部法律中？ (A)《勞資爭議處理法》 (B)《民法》 (C)《勞動基準法》 (D)《就業保險法》
53. ( ) 小豪在電視購物頻道上看到一臺期待已久的電腦降價了，於是拿起電話訂購，翌日電腦即送到家中，小豪將電腦拆封後開始試用電腦。小豪的妹妹看到後便向他借用 2 天，妹妹將電腦交還小豪後又正常使用了 3 天，但小豪發現電腦沒有想像中的好用，這時小豪的行為依據《消費者保護法》應有下列何項解釋？ (A)小豪藉由電視購物之方式購買商品屬於「訪問交易」 (B)小豪未超過《消費者保護法》規定之猶豫期間，可將商品退還 (C)小豪觀看電視購物頻道時已有充分的思考時間，故購買後不得退還 (D)小豪須說明理由並負擔退貨費用，才可解除契約
54. ( ) 阿騰向甲電信的乙營業處預購一支手機，並支付訂金，阿騰期盼能夠盡快拿到手機來使用。依照所有權的特性，下列敘述何者正確？ (A)阿騰取得手機後，可以對任何人說手機是他的，不得隨意使用 (B)阿騰可向甲電信的任一分店要求領貨 (C)因銀貨兩訖，就算阿騰發現手機有瑕疵，也無法請求乙營業處退換貨 (D)因所有權絕對，阿騰無法轉售該手機給他人
55. ( ) 附圖是某工廠生產 X 和 Y 兩種產品的生產可能曲線，生產點為 E。假設工廠新購買生產 X 產品之設備，請問生產點最有可能移動到圖中哪一點？

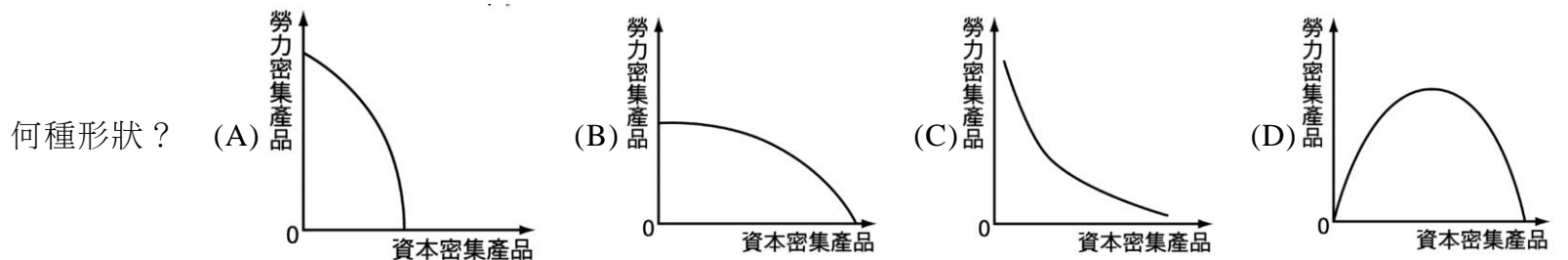


(A)A 點 (B)B 點 (C)C 點 (D)D 點

56. ( ) 阿龍在網路上與賣家約定好以 2,000 元價格買下一臺二手腳踏車，並約定交貨時間。不久後阿民也在網路上看到該腳踏車，阿民親臨現場並出價 3,000 元，賣家考量收益便將腳踏車交付給阿民。請問：依上述狀況，阿龍應如何主張自己的權利呢？ (A)阿龍契約簽訂的時間較早，可直接向阿民要求交付腳踏車 (B)阿民已經取得腳踏車的所有權，阿龍沒有任何辦法 (C)阿龍可以向阿民提出所有物返還 (D)阿龍可向賣家要求負起債務不履行的責任
57. ( ) 兩人結婚勢必面對共同的經濟生活，其中亦包含夫妻財產的問題。依據我國現行法律規定，夫妻之間的財產制度的確立，下列何者敘述正確？ (A)在結婚時僅以口頭約定，採用法定財產制，就是有效的 (B)如雙方沒有書面約定，就採共同財產制 (C)在結婚時就應決定，婚姻中不能更改 (D)在離婚時才要決定，如沒有離婚就不用選擇
58. ( ) 附圖實線為水果王餐飲店製作厚片吐司和飲料的生產可能曲線，為了因應夏天的到來，老闆決定添購新的機臺生產飲料。請問：其生產可能曲線將會如何變動（實線為原本生產可能曲線，虛線表變動後的生產可能曲線）？



59. ( ) 曉鈴在網路上向店家訂製一個客製化手機殼，並準備將手機殼送給阿凱當作生日禮物。下列時間與手機殼所有權歸屬說明，何者正確？ (A)曉鈴在網路下訂單後，即取得手機殼的所有權 (B)阿凱得知曉鈴要送他手機殼作為禮物，當他知道這件事就擁有手機殼的所有權 (C)曉鈴必須付款完畢，才能真正取得手機的所有權 (D)當商家寄出手機殼，曉鈴在收到商品時，才擁有手機殼的所有權
60. ( ) 繼承是人們留給家人最後的禮物，法律規定的繼承順序除了配偶外，分為四個順位。請問：四個順位排序的依據，可能下列何者？ (A)依人數多寡，人數少的順位在前 (B)依親疏遠近，情感緊密的順位在前 (C)依親等關係，親等近的順位在前 (D)依年齡階層，年紀輕的順位在前
61. ( ) 臺灣魔術方塊多項盲解紀錄保持人洪啟倫，2018年在遮眼的情况下，以24.80秒鐘完成魔術方塊盲解刷新紀錄，他將獨特的魔術方塊盲解公式等影片上傳YouTube，但2020年一位黃姓男子採用該拆解公式並錄製影片上傳，讓洪男認為著作權遭侵犯，多次向黃男要求回應，但黃男沒有理會，最後直到提告後，雙方才和解。關於題文所牽涉到的著作權概念，下列敘述何者正確？ (A)洪男非魔術方塊的發明者，因此無權對黃男提告 (B)影片是透過YouTube公開，因此無著作權之保障 (C)黃男可主張自己的影片為「合理使用」避免侵權 (D)洪男的影片被擅自重製，可主張智慧財產權受損
62. ( ) 利用臉書等網路平臺上直播拍賣商品，現在愈來愈盛行。其中許多拍賣業者在直播頁面上明白標示「薄利多銷，小瑕疵概不可退貨」、「出清特賣無退換貨」等規定。若消費者購買上述拍賣商品後仍欲退貨時，下列說明何者正確？ (A)當消費者購買商品時即表示同意業者規定，所以無法退貨 (B)此屬通訊交易，消費者收受商品後7天內仍可無條件退貨 (C)只有當拍賣商品有瑕疵時，消費者才可要求業者提供退貨 (D)若消費者是以面交方式取貨，則拍賣業者可拒絕提供退貨
63. ( ) 《民法》近年來對於私法自治的原則做了修正，除了契約自由外，更重要的是社會本位的價值觀，透過法律保障不同資源的人，都能立於平等的地位，因此對於契約自由加以限制，達成契約正義，以下何者符合對於契約正義的說明？ (A)以公益為由限制私人權利，是符合契約公平正義的具體表現 (B)《勞動基準法》的最低勞動條件，應該一體適用所有行業別 (C)現今社會以契約正義為主，私法契約自由只具有補充的地位 (D)政府為保障消費者，網路的交易行為都有七天猶豫期的限制
64. ( ) 小華與妻子結縭數十載，後因病去世，身後除妻子外，尚有養子小明。若小華在病榻中完成遺囑撰寫，將全部財產留給妻子。依我國《民法》規定，下列有關小華遺產分配的論述，何者正確？ (A)有意思表示即視為有效，故妻子獲得全部遺產 (B)遺囑已完成，應該依照內容的做分配 (C)應按照法定的應繼分分配遺產，養子亦得繼承 (D)小明雖為養子但仍有繼承權，雖有遺囑但仍可主張其特留分
65. ( ) 民法與個人的一生關係密切。下列關於《民法》中「繼承制度」的規範，哪些是正確的？ (A)繼承，以繼承人「知悉」得繼承之時開始 (B)現行《民法》以「拋棄繼承」為法定繼承方式 (C)採取「限定繼承」時，繼承人應向法院陳報遺產清冊 (D)繼承人可以選擇拋棄債務只繼承財產
66. ( ) 臺灣在經濟發展過程中，最早的產業重心是在稻米、蔗糖，之後又轉為衣服、玩具等勞力密集的產業，目前則在資本密集的高科技產業上具有比較利益。依上述，我國現在的生產可能曲線（PPC）可能較接近



67. ( ) 附表是某知名廠商生產甜甜圈與蛋塔的生產組合，該表中的 X 應該填入多少較合理？

	A	B	C	D	E	F
蛋塔	50	48	44	X	25	0
甜甜圈	0	5	10	15	20	25

(A)43 (B)42 (C)35 (D)34

68. ( ) 高雄某保全公司龐姓員工，與公司簽訂責任制勞動契約，但契約書未報請當地主管機關核備；公司按責任制給付的加班費，遠低於其平均時薪，龐姓員工提起訴訟，三審法院都以契約書未經核備並非無效，判龐姓員工敗訴。龐姓員工聲請釋憲，《司法院釋字第726號解釋》宣告雇主申請責任制，若未經地方主管機關同意，則勞動契約無效。試問以下何者符合大法官此號解釋的用意？ (A)彰顯民法的私法自治與契約自由原則 (B)地方政府應介入勞動契約以實現契約正義 (C)雇主向地方主管機關報備即可實施責任制 (D)契約未經主管機關核備但法院仍可認定責任制的效力
69. ( ) 買房子只登記一個「所有權人」，他會擁有百分之百的產權；若今天是一間房子兩人出資，那可以採取「共同登記」，即雙方都是持有人。請問：在共同持有房屋所有權的狀況下，未來房子要怎麼規劃，包括產權變更、變賣或是要出租時，按照《民法》應如何處置？ (A)一物多權：房屋上存在兩個所有權，兩人皆獨自享有房屋處置的權利 (B)一物一權：兩人共享一個所有權，若想出售該房屋，必須得到對方同意 (C)按出資比例決定所有權歸屬，由錢付較多的人決定 (D)依照所有權的排他性，一間房子不可能兩人共同持有

70. ( ) 近年來社群平臺直播如春筍般出現，民眾可以利用直播在網路上分享影片、照片，甚至是販賣商品，請問以下四位直播主的行為以及可能涉及的法律，何者正確？ (A)小咪在直播節目中唱完整首周杰倫的歌曲，可能涉及侵害周董的專利權 (B)元元在她的直播節目中，朗讀了一段知名作家的文章，可能侵害著作權 (C)通神在遊戲直播中，一邊解說遊戲技巧同時進行遊戲，並不影響著作權 (D)中中以超連結方式提供粉絲自己的直播，也涉及侵害公開傳輸的著作權
71. ( ) 曉華在做報告時，提到專業分工，請幫他想想專業分工有哪一些好處？ (A)專業分工後，可以選擇售價高的產品生產 (B)不是每一個人都有自己的專業 (C)專業分工後，利潤會降低 (D)專業化生產，可以讓生產更有效率
72. ( ) 現行的夫妻財產制較修法前新增「自由處分金」制度，在家庭生活中的日常費用外，雙方可以協議一份自由處分金當作另一方的零用錢。關於自由處分金制度的敘述，何者正確？ (A)自由處分金是指夫給妻的零用錢 (B)自由處分金應納入水電食材費用 (C)自由處分金彰顯對打理家務者人格的尊重 (D)自由處分金肯定外出工作的價值
73. ( ) 財政部國庫署 2022 年 1 月時表示，2021 年無人繼承的遺產剩餘，合計金額達 5,653 萬元。其中，最大筆為 1,222 萬元。國庫署表示，根據規定，無人繼承的遺產，在公示催告期滿後，經清償債權並交付遺贈物後，如有剩餘，就要歸屬國庫。根據國庫署的公告判斷，以下哪些同學的解讀是**錯誤**的？ (A)建州：這些遺產無人繼承，可能是因為那個人生前已經辦理了拋棄繼承 (B)柏仁：會遺留 1,222 萬元無人繼承，可能是那個人已沒有後代或親屬了 (C)保仁：國庫署處理這些無人繼承的遺產，主要依據《民法》的法律規定 (D)麗華：1,222 萬元無人繼承，可能是那個人生前未立下遺囑指定繼承人
74. ( ) 假設某國的資源全部投入國防工業和民生工業的生產上，若我們觀察到甲、乙兩個不同的生產組合，那麼依據經濟學上的「生產可能曲線」概念分析，下列敘述何者正確？

	甲	乙
國防工業	6,000 萬單位	3,000 萬單位
民生工業	2,000 萬單位	4,000 萬單位

- (A) 甲具生產民生工業的比較利益，較有效率 (B)甲生產 1 單位國防工業的機會成本為 3 單位的民生工業 (C)乙生產 1 單位民生工業的機會成本為 0.75 單位的國防工業 (D)甲與乙各有取捨關係，兩者皆有效率

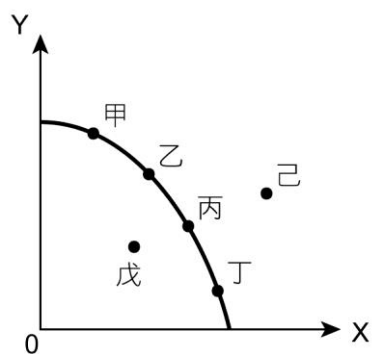
## 二、題組題(10 小題，每題 3 分，共 30 分 不倒扣)

◎臺北市一名邱先生，日前把電動機車停在路邊卻被偷走，警方調閱監視器循線逮捕竊賊。根據調查，竊賊在偷走電動機車後連闖數個紅燈，最後自撞毀損電動機車，並將其棄置於路旁。竊賊除了面臨竊盜刑責、闖紅燈的行政罰，另外邱先生也可對該竊賊提出《民法》上的權益，請根據《民法》所有權的特性，回答下列問題：

- ( ) 75 邱先生當日若目睹電動機車的行竊過程，當竊賊騎乘賊車要離開現場時，他大聲向竊賊喝斥「把我的機車還來」。上述情形，邱先生是在行使何種物上請求權？ (A)所有權妨害防止 (B)所有權妨害除去 (C)所有物返還 (D)損害賠償
- ( ) 76 邱先生的電動機車被撞壞，經車行評估維修費用需要 2 萬，他可以如何捍衛自己的權利？ (A)非因當事人造成毀損，可向電動機車原廠請求免費維修 (B)竊賊已被警方逮捕，邱先生只能自認倒楣花錢修車 (C)向法院請求犯罪被害人補償金 (D)請求竊賊負擔民事損害賠償責任，若竊賊不理賠，可提起訴訟

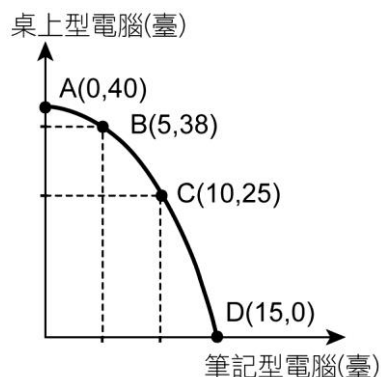
◎公民老師在經濟學的課堂上，教導大家生產可能曲線，讓同學了解若要生產兩種物品時，該如何進行資源分配。

- ( ) 77 請問：生產可能曲線上甲、乙、丙、丁四個點的哪一個生產效率最高？



- (A)甲 (B)丙 (C)丁 (D)都一樣
- ( ) 78 若該生產可能曲線是學生在讀數學和英文時的生產可能曲線，縱軸為數學答題數，橫軸為英文答題數。請問：下列敘述何者正確？ (A)若盡全力答題時，學生最佳答題組合會落在己 (B)學生今天身體狀況不佳時，答題效率較差時答題組合會落在丁 (C)每當想多答一題的數學，需要犧牲的英文答題數會增加 (D)若有解題高手從旁協助答題時，答題組合會落在戊

◎天天電腦公司生產筆記型電腦與桌上型電腦，附圖是一天生產筆記型電腦與桌上型電腦的生產組合。若天天電腦公司想要達成最有效率的生產，請協助他解決下列問題。



- ( ) 79 有關該生產可能曲線所反映的生產概況，下列敘述何者正確？ (A)生產筆電的機會成本會遞減 (B)生產桌上型電腦的機會成本會遞減 (C)生產最後一臺筆電的機會成本高於第一臺筆電 (D)生產 1 臺筆電的機會成本固定是 1 臺桌上型電腦
- ( ) 80 從該生產可能曲線判斷，哪一個生產組合最有效率？ (A)15 臺筆記型電腦，0 臺桌上型電腦 (B)40 臺筆電，2 臺桌上型電腦 (C)20 臺筆電，9 臺桌上型電腦 (D)10 臺筆電，15 臺桌上型電腦

◎《著作權法》第 65 條指出，合理使用除了須符合《著作權法》其他條文規定，並用以下標準判斷：一、利用之目的及性質，包括係為商業目的或非營利教育目的。二、著作之性質。三、所利用之質量及其在整個著作所占之比例。四、利用結果對著作潛在市場與現在價值之影響。

但是否為合理引用，常有爭議。例如：曾有名網紅以解析電影劇情聞名，他的創作模式是擷取電影片段進行剪接，搭配自己的角度，以口白說明劇情。有時穿插評論，有時穿插嘲諷。這些創作被電影商視為侵權行為告上法院。該網紅主張，自己的模式是「二次創作」，以原著作為素材、全部或部分改作，這種模式在串流頻道上常見，且自己是合理使用那些電影片段。

請依據上述內容，回答以下問題：

- ( ) 81 若以《著作權法》第 65 條的標準檢視，下列說明何者**不正確**？ (A)利用之目的：如果網紅的頻道沒有營利，且沒有其他爭議就可能是合理使用 (B)著作之性質：如果網紅不剪輯電影片段，自製動畫說明，即可能是合理使用 (C)占整體著作的比例：如果網紅擷取百分之五十的影片，但並未營利，也算合理使用 (D)對原著潛在市場影響：如果觀眾看到網紅的影片，會激起去電影院看原作的慾望，可能為合理使用
- ( ) 82 該網紅曾主張，自己是以評論目的，將電影片段剪輯，因此屬合理使用。《著作權法》的立法並沒有嚴格規定任何情況使用他人著作，應事先取得授權，只要是法律範圍內的合理使用，大眾就可以安心利用。哪一項是《著作權法》開放合理使用的目的？ (A)流通創作提升文化資本 (B)鼓勵創作者繼續創作 (C)使創作者壟斷作品成果 (D)鼓勵創作者公開作品

◎阿誠與小錦結婚 10 年，因為工作時常分隔兩地，感情逐漸疏遠，兩人和平協議離婚。下表是阿誠與小錦的財產清冊，請根據表中資訊回答下列問題：

	鋼琴家阿誠	工程師小錦
婚前財產	100 萬	700 萬
婚後財產	演出用 120 萬的平臺鋼琴	市值 600 萬的個人工作室
	繼承得到的 200 萬跑車	薪資收入 800 萬
	演出收益 1,000 萬	股票收入 200 萬
	結婚購置的房屋 800 萬	工作用電腦 20 萬

- ( ) 83 假使阿誠與小錦未約定財產處置方式，依照現行《民法》規範，誰可以向對方請求「剩餘財產分配」，請求金額為多少？ (A)阿誠可向小錦請求 50 萬差額 (B)小錦可向阿誠請求 300 萬差額的一半 (C)雙方未有約定，各自擁有財務，不得請求 (D)扣除特有財產，小錦可向阿誠請求 200 萬差額
- ( ) 84 假使阿誠與小錦婚前約定為共同財產制，依照現行民法規範，下列敘述何者正確？ (A)無論婚前或婚後取得的財產皆應共同分配 (B)婚前財產不計入，所有的婚後財產皆應共同分配 (C)排除婚前財產與特有財產，其餘才共同分配 (D)僅有因職業上必須要用的物品才屬於特有財產

三、混合題(3 小題，第 1、2 題每題 3 分，第三題 4 分，共 10 分 不倒扣)

班級：                  座號：                  姓名：                  (請直接在下面作答區作答，作答完請將此頁交回給監考老師)

2002 年，立法院修正《民法·親屬編》關於夫妻財產制的規範，舊制下夫妻間如未特別約定財產制，會採用預設的「聯合財產制」，2002 年修法後，夫妻間未特別約定財產制者，則採用「法定財產制」，為了讓民眾了解，法務部將兩制度的異同比較，如附表。請參考表中資訊，回答下列問題：

	法定財產制 (現制)	聯合財產制 (舊制)
財產種類	一、婚前財產。 二、婚後財產。	一、原有財產。 二、特有財產。 三、聯合財產。(雙方原有財產之組合)
所有權	各自所有。	分別所有。
管理權及管理費用負擔	各自管理、各自負擔管理費用。	一、特有財產：各自管理、各自負擔。 二、聯合財產：原則由夫管理；例外得約定由妻管理。由管理權之一方負擔管理費用。
使用及收益權	各自使用、收益。	管理權之一方對他方之原有財產有使用、收益之權。
處分權	各自處分其財產。	管理權之一方經他方同意，始得處分他方之原有財產。但管理上必要之處分，有管理權之一方可逕行為之。
債務清償責任	各自對其債務負清償責任。	依財產種類之不同區分責任歸屬，關係較為複雜。
剩餘財產分配請求權	一、法定財產制關係消滅時，夫或妻現存之婚後財產，扣除婚姻關係存續所負債務後，如有剩餘，應平均分配。 二、不列入分配之財產：因繼承或其他無償取得之財產及慰撫金。	一、聯合財產關係消滅時，夫或妻於婚姻關係存續中所取得而現存之原有財產，扣除債務後，應平均分配。 二、不列入分配之財產：因繼承或其他無償取得之財產。
家庭生活費用負擔	除法律或契約另有約定外，由夫妻各依其經濟能力、家事勞動或其他情事分擔之。	夫無支付能力時，由妻就全部財產負擔。
自由處分金	夫妻於家庭生活費用外，得協議一定數額之金錢，供夫或妻自由處分。	無。

- (      ) 1. 舊制「聯合財產制」在現代社會的性別平等觀念中，有一些不平等的爭議，下列何者是「聯合財產制」下的性別不平等問題？ (A)夫工作所用的財產，由夫自行管理 (B)妻工作所用的財產，由妻自行管理 (C)婚姻中，聯合財產不論是誰原有，皆由夫管理 (D)婚姻中，聯合財產不論是誰原有，皆由夫負擔管理費用
- (      ) 2. 現制「法定財產制」被認為較能體現性別平等原則、維護婚姻生活和諧、肯定家務勞動價值。下列哪一項小林和小陳結婚後的行動，最能展現法定財產制下「肯定家務勞動價值」的一面？ (A)小林用自己的薪水，每年替小陳買生日禮物 (B)小林薪水較低，家裡水電等費用由小林負擔 (C)小陳薪水較高，家具採購的費用由小陳負擔 (D)小陳每個月準備自由處分金，供長時間在家照顧小孩的小林使用

3. 如果小林跟小陳想採約定財產制必須要去哪裡登記？(2 分)附表是小林和小陳這對夫妻婚後的財產狀況，若兩人此時因故離異，經由剩餘財產分配，小陳除自身的婚後資產外，還可以額外獲得多少財產？(2 分)

	婚後資產	婚後負債
小林	600 萬元 (含繼承自小林母親遺產 100 萬元)	200 萬元
小陳	200 萬元	0 元

1.	A      B      C      D
	<input type="checkbox"/> <input type="checkbox"/> <input type="checkbox"/> <input type="checkbox"/>
2.	A      B      C      D
	<input type="checkbox"/> <input type="checkbox"/> <input type="checkbox"/> <input type="checkbox"/>
3.	去哪裡登記
	遺產分配