

班級： 座號： 姓名：

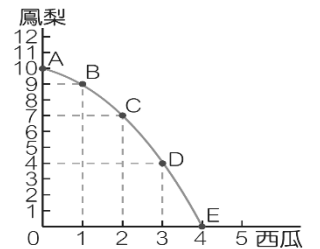
一、單選題(20 題，每題 3 分，共 60 分 不倒扣)

使用電腦回收卡從第 51 題開始畫卡(試題共 4 頁)

51. () 一般我們到銀行開戶時，銀行會拿一些標準格式給我們填寫，填寫完相關資料後，即完成開戶手續，此一標準格式，我們稱為定型化契約。下列關於定型化契約的敘述，何者正確？ (A)屬於《公平交易法》的規定內容 (B)業者可依其特殊狀況訂定與中央機關不同的規定 (C)房東為了使契約快速生效，可記載承租人自願放棄審閱期間 (D) 廣告文宣也是定型化契約的條款範圍

52. () 2023 年起，《民法》的成年年齡由 20 歲下修為 18 歲，訂立婚約之年齡也不再男女有別，結婚年齡一律訂為須滿 18 歲。有關我國《民法》對結婚雙方的法定權利義務規定，下列敘述何者正確？ (A)夫妻結婚後要去法院辦理財產登記，才能使用法定財產制 (B)丈夫在婚前購入的汽車，婚後想要出售需經妻子的同意 (C) 依據法定財產制，夫妻婚前婚後的財產皆各自所有，且各自管理處分 (D)依據法定夫妻財產制，夫妻的全部財產皆由夫妻共同處分

53. () 如右圖，小天在固定的資源和技術之下，生產鳳梨與西瓜兩種產品的生產可能線如右。請問：有關小天的生產情況何者敘述為正確？(A)C 點的產量總數比 D 點更多，代表 D 點生產效率較高 (B)本曲線是由原點向外凸出的生產可能線，代表機會成本遞減 (C)生產第三顆西瓜的機會成本，3 顆鳳梨 (D)B 點代表未充分利用資源和技術，達成最大生產效率



54. () 甲在網路向乙公司購買衣服，收到後發現顏色與電腦螢幕顯示不同，故聯絡乙欲退貨退款。乙表示「網站有明顯標示『貨物售出，恕不退貨，僅能依同等價額換貨』」，但甲堅持退貨退錢。關於甲乙間交易的權利義務，下列敘述何者最適切？ (A)衣服顏色與螢幕顯示不同屬貨品瑕疵，甲有權主張的是減少價金 (B)乙在網站的標示是網路交易的特別約定，故甲不能主張退錢退貨 (C)甲符合網路交易的退貨規定，可不附理由且無須證明貨品有瑕疵 (D) 該標示因設置於網站故定型化契約不成立，因此甲可以主張退貨

55. () 附表是某知名廠商生產蛋糕與蛋塔的生產組合，該表中的 X 應該填入多少較合理？

	A	B	C	D	E	F
蛋塔	50	47	X	36	25	0
蛋糕	0	5	10	15	20	25

(A)41 (B)40 (C)39 (D)38

56. () 阿龍在網路上與賣家約定好以 2,000 元價格買下一臺二手腳踏車，並約定交貨時間。不久後阿民也在網路上看到該腳踏車，阿民親臨現場並出價 3,000 元，賣家考量收益便將腳踏車交付給阿民。請問：依上述狀況，阿龍應如何主張自己的權利呢？ (A)阿龍契約簽訂的時間較早，可直接向阿民要求交付腳踏車 (B)阿民已經取得腳踏車的所有權，阿龍不得要求阿民交付腳踏車 (C)阿龍可以向阿民提出所有物返還 (D)腳踏車所有權已轉移，阿龍不得向賣家要求負起債務不履行的責任

57. () 某甲未婚無子女，僅有一兄長，父母過世後，仍繼續與兄嫂及姪兒姪女共 5 人同住。其兄因重病臥床，甲善待嫂嫂，視姪兒姪女如己出，長年承擔其生活費用。如其兄長期臥床不幸重病身亡，甲之後亦不幸身故，且生前未留遺囑，依我國民法規定，下列何者會是甲之遺產的繼承情形？ (A)由其血親卑親屬姪兒與姪女共同繼承無法定繼承人且無遺囑故遺產歸國有 (B)因其兄已逝故由姪兒與姪女代位繼承 (C)尤其嫂繼承所有遺產 (D)因無法定繼承人且無遺囑故遺產歸國有

58. () YouTuber「拳擊小潘」揭露另一位拳擊 YouTuber「尼克星拳擊」的教學影片抄襲英國 YouTuber「Tony Jeffries」，尼克星拳擊就像是直接「翻譯」Jeffries 的頻道一樣，不只畫面、舉例等內容相同，甚至連狀聲詞「Boom」與打響指的動作都一模一樣。對比影片公開後，尼克星拳擊一度拍片否認抄襲，但被發現後又刪除影片。小潘揭露後得到 Jeffries 本人的回信，表示自己花很多時間製作影片，對抄襲者感到不滿。小潘也在傑佛瑞斯的支持下再次發文呼籲尼克星拳擊出來道歉。關於題文所牽涉到的著作權概念，下列敘述何者正確？ (A)Jeffries 的影片被擅自重製，可主張智慧財產權受損 (B)影片是透過 YouTube 公開，因此無著作權之保障 (C)尼克星可主張自己的影片為「合理使用」避免侵權 (D)Jeffries 非拳擊教法創始人，因此無權對尼克星提告

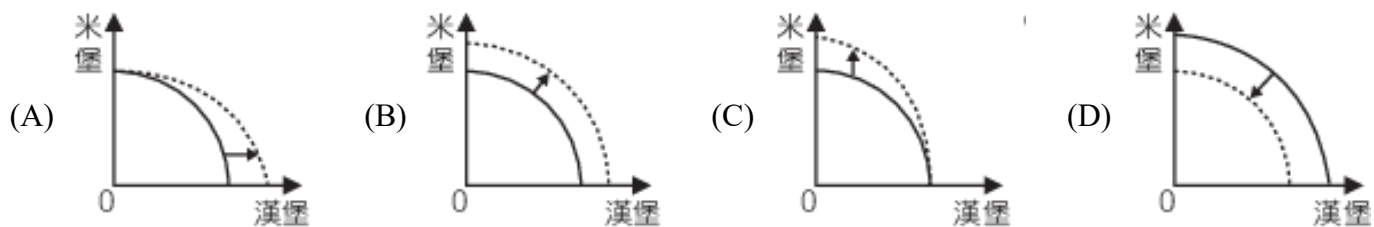
59. () 有一次在上高中公民與社會課，老師想了解學生對於「生產可能曲線」概念知多少，以下是 4 位同學發表。婷

婷：「生產可能曲線線上任何一點都是最有效率的組合。」美美：「只要稍稍偷懶，就會掉至生產可能線之內了。」小英：「公司研發新技術，產量組合將會移到生產可能線上的任何一點。」安安：「從生產可能曲線上點的移動狀況，可以看出品質改善。」請問：何者說明正確？ (A)小英、安安 (B)小英、美美 (C)美美、安安 (D)婷婷、美美

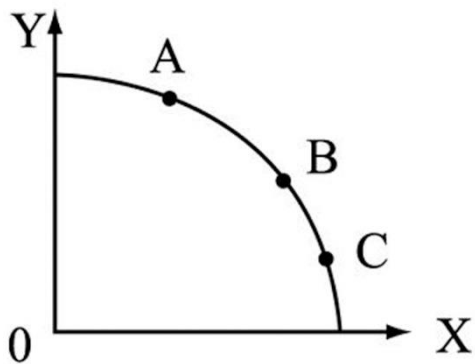
60. () 爸爸去世後，留下媽媽、哥哥以及收養的妹妹 3 人。媽媽認為收養的妹妹並無血緣關係，因此決定把爸爸遺產全部留給哥哥。根據現行《民法》規定，下列敘述何者正確？ (A)配偶有權利分配被繼承人的遺產，媽媽的決定合法 (B)父母和妹妹無血緣關係，妹妹本就不得主張繼承權 (C)若爸爸有留下全部遺產給哥哥的遺囑，則妹妹仍可主張特留分 (D)被收養的妹妹一樣具有繼承權，並為繼承第三順位
61. () 高雄某保全公司龐姓員工，與公司簽訂責任制勞動契約，但契約書未報請當地主管機關核備；公司按責任制給付的加班費，遠低於其平均時薪，龐姓員工提起訴訟，三審法院都以契約書未經核備並非無效，判龐姓員工敗訴。龐姓員工聲請釋憲，《司法院釋字第 726 號解釋》宣告雇主申請責任制，若未經地方主管機關同意，則勞動契約無效。試問以下何者符合大法官此號解釋的用意？ (A)彰顯民法的私法自治與契約自由原則 (B)契約未經主管機關核備但法院仍可認定責任制的效力 (C)雇主向地方主管機關報備即可實施責任制 (D)地方政府應介入勞動契約以實現契約正義
62. () 下列有關「生產要素」的敘述，何者「錯誤」？ (A)資本：是指投資所投入的金錢 (B)自然資源：森林、海洋、礦產等 (C)勞動：某甲受雇小吃店當洗碗工人 (D)企業才能：某乙買農地、農具，僱人來務農
63. () 俱佳家具行請了老吳和老王兩位師傅，兩人各自獨立製作床或沙發所需的天數如表格。若兩人必須分工，一人負責製作一種家具，請問下列相關敘述何者正確？ (A)老王造一張床的機會成本是兩組沙發 (B)老吳造一組沙發的機會成本是 1/3 張床 (C)老王比起老吳具有製作沙發的絕對利益 (D)老王比起老吳具有製作沙發的比較利益

	老 吳	老 王
一張床	2 天	3 天
一組沙發	6 天	6 天

64. () 2016 年年初，霸王寒流重創我國農漁業，許多農漁業設施也遭到破壞，災害損失高達數十億元。若以農產為橫軸、漁產為縱軸，則霸王寒流可能使我國的生產可能曲線(PPC)如何變動？ (A)整條 PPC 往右上移 (B)整條 PPC 往左下移 (C)生產組合點沿著 PPC 右移 (D)生產組合點沿著 PPC 左移
65. () 下列關於所有權特性與說明的配對，何者正確？ (A)直接支配性：指權利人可以對「任何人」主張他擁有的權利 (B)保護之絕對性：是指一個標的物上不會同時存在兩個所有權，可以排除其他無權利人的干涉 (C)排他性：不需他人意思的介入，由權利人支配自己所擁有物品 (D)優先性：對於同一標的物同時存在債權與所有權時，所有權效力會先於債權
66. () 某甲向電視購物臺購得一保溫杯，注入熱茶後發覺保溫功能甚差，故萌生退貨的念頭。若依《消費者保護法》的立法意旨與相關規定來分析某甲之行為，下列敘述何者正確？ (A)電視購物臺若拒絕某甲退貨，則某甲可以向行政院消費者保護會提出申訴 (B)電視購物臺若能夠舉證自身無過失，則買賣契約成立，某甲無法退貨 (C)某甲收到訂購的保溫杯後，有權在三十天的審閱期間內決定是否購買 (D)因只是保溫功能產品本身並無損壞，某甲無法要求退貨
67. () 吃飽飽速食店主要提供漢堡與米堡兩種選擇，若吃飽飽速食店引進新式的米堡製作機，能加快米堡製作速度，請問其生產可能曲線將如何變化？



68. () 據報載，基隆市某對夫婦結婚未約定任何夫妻財產制，並在 5 年後離婚，男方名下財產為 0 元、女方則有兩房和 2 百萬元的存款。男子訴請分配一半財產，但女子辯稱，婚後增加財產多為他所貢獻，平均分配不公平。有關此案之描述，下列敘述何者較為正確？ (A)根據法定財產制，離婚後財產較少方可請求財產較多方一半財產 (B)女方扣除債務或無償取得之財產後，男方才可針對此部分做請求 (C)透過特有財產差額分配請求權，可保障婚姻中經濟較弱勢的一方 (D)男方除可請求婚後財產的部分以外，離婚後亦可請求自由處分金
69. () 附圖顯示某國家使用所有生產因素兩種產品 (X 與 Y) 的生產可能曲線，下列敘述何者正確？



(A)資源使用效率： $A > B > C$ ，多生產一單位 X 的機會成本： $A < B < C$ (B)資源使用效率： $A < B < C$ ，多生產一單位 X 的機會成本： $A > B > C$ (C)資源使用效率： $A = B = C$ ，多生產一單位 Y 的機會成本： $A < B < C$ (D)資源使用效率： $A = B = C$ ，多生產一單位 Y 的機會成本： $A > B > C$

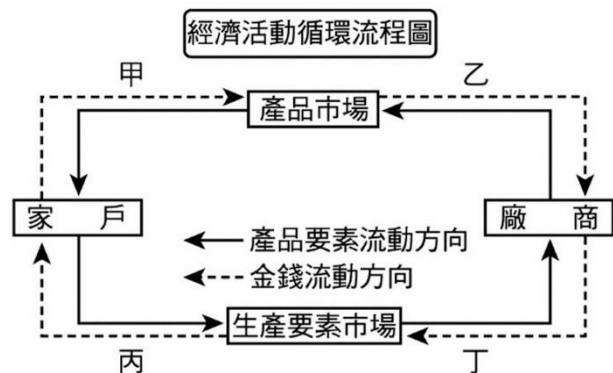
70. () 3M 的便利貼家喻戶曉，但很少人知道，發明 3M 便利貼的人當初本來是想發明一種超強的黏合劑，而結果卻令他大失所望，因為發明出來的黏合劑黏性不佳，貼上的東西總是能被輕易地撕開，不過他靈機一動，將他的失敗作品做成可以隨撕隨黏的便利貼，結果廣受好評，為 3M 公司獲得了前所未有的巨大商機。請依上文判斷，下列敘述何者正確？ (A)3M 公司是「產品市場」中的需求者 (B)3M 公司在「生產要素市場」中販售生產要素 (C)在故事中，生產要素之一的「企業才能」是 3M 公司獲利的關鍵 (D)便利貼對 3M 公司來說是一種「生產要素」

二、題組題(單選題 10 小題，每題 3 分，共 30 分 不倒扣)

◎題組一：帝丹小學舉辦校慶園遊會，一年 B 班的攤位販賣炸薯條與乾冰汽水兩項商品，柯南與步美負責顧攤位。柯南製作一包炸薯條需要花費 4 分鐘的時間，製作一杯乾冰汽水則需要花費 1 分鐘的時間；步美製作一包炸薯條需要 3 分鐘的時間，製作一杯乾冰汽水則需要花費 90 秒的時間。園遊會剛開幕時，來逛園遊會的師生絡繹不絕，柯南與步美展現絕佳的默契進行分工，很有效率地完成客人所點的餐點。不過，由於一年 B 班攤位上的氣炸鍋在園遊會開幕後一個小時就稍微故障，導致柯南製作一包炸薯條的時間變成 6 分鐘，步美製作一包炸薯條的時間則變成 8 分鐘。

71. () 在園遊會剛開幕時，關於柯南與步美製作炸薯條與乾冰汽水的機會成本，下列何者正確？ (A)柯南製作一杯乾冰汽水的機會成本為 1/4 包炸薯條 (B)步美製作一杯乾冰汽水的機會成本為 1/2 包炸薯條 (C)步美製作一包炸薯條的機會成本為 1/2 杯乾冰汽水 (D)柯南製作一包炸薯條的機會成本為 1/6 杯乾冰汽水
72. () 在園遊會剛開幕時，下列柯南與步美的分工方式，何者符合比較利益的原則？ (A)柯南與步美各用一半時間分別製作炸薯條與乾冰汽水 (B)由步美負責製作兩種產品，柯南則是依現場機動決定 (C)由柯南專門製作乾冰汽水，而步美則專門製作炸薯條 (D)由柯南專門製作炸薯條，而步美則專門製作乾冰汽水
73. () 在氣炸鍋故障後，關於柯南與步美製作產品的絕對利益與比較利益，下列何者正確？ (A)柯南具有製作炸薯條的比較利益 (B)步美具製作乾冰汽水的絕對利益 (C)步美具製作乾冰汽水的比較利益 (D)柯南具有製作炸薯條的絕對利益

◎題組二：請依附圖的經濟活動流程循環圖，回答以下問題：



74. () 某縣政府於暑假期間推動觀光節活動，消費者若於活動配合店家單筆消費滿 1,000 元以上，立即贈送摸彩券，最大獎為汽車一臺。請問：該縣政府主要是希望刺激哪一部分的流動？ (A)甲 (B)乙 (C)丙 (D)丁
75. () 勞動部 2023 年 3 月公布企業實施無薪假的通報家數共 2,384 家、實施人數約 1.8 萬人。實施無薪假的情況僅比前期稍微趨緩，差異不大。主要原因為製造業狀況不穩定及旅遊業尚在等待政府的團客補貼政策上路。請問：依上述說明，企業要求員工放無薪假，主要是屬於哪一部分的需求減少？ (A)甲 (B)乙 (C)丙 (D)丁

◎題組三：不少百貨公司、商店街或餐廳業者為了營造氣氛，會在店面、餐廳等營業場所播放音樂或廣播節目，曾有業者遭起訴違反《著作權法》的「公開播送權」及「公開演出權」。

「公開播送」是指基於公眾直接收聽或收視為目的，以有線電、無線電或其他器材之廣播系統傳送訊息之方法，藉聲音或影

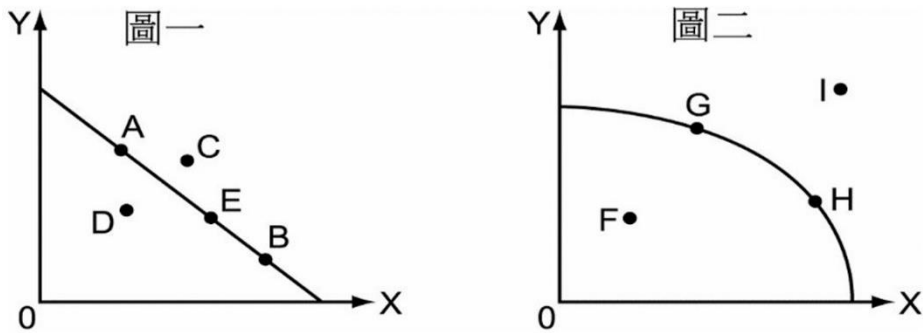
像，向公眾傳達著作內容。「公開演出」是指以演技、舞蹈、歌唱、彈奏樂器或其他方法向現場之公眾傳達著作內容。以擴音器或其他器材，將原播送之聲音或影像向公眾傳達者，亦屬之。

有店面較小的業者改以筆電播放音樂，另加裝擴音器，讓整間店面都能聽到。也有業者找唱片公司或著作權集體管理團體取得授權，以安心、合法的在營業場所播放。

請依據上述資訊，回答下列問題：

76. () 有的店家在沒有取得授權播放時，改以自用筆電播放音樂，另加裝喇叭，讓整間店面都能聽到。這樣的作法有沒有違反《著作權法》？ (A)不違反，業者以自用器材播放，就算客人不小心聽到，對著作權影響不大 (B)不違反，業者是播放音樂檔案，並沒有歌手現場演唱 (C)違反，加裝喇叭播放音樂，讓客人都能聽到，已屬公開演出 (D)違反，但業者可以主張沒有針對音樂服務另外向客人收費，屬合理使用範圍
77. () 唱片公司老闆逛街發現商店播放著自己公司製作的音樂，卻未曾授權給該間商店時，他可以主張該間店家侵犯了何項權利？ (A)所有權 (B)著作人格權 (C)著作財產權 (D)損害賠償請求權

◎題組四：圖一與圖二皆為生產 X 與 Y 之生產可能線，關於兩者之討論如下：



78. () 在圖一與圖二中，可以看出隱含哪種經濟學概念？ (A)商品的競爭性 (B)誰得到商品 (C)選擇的無意義 (D)機會成本
79. () 下列討論何者正確？ (A)兩圖均是指在固定的資源和技術下，生產 X 與 Y 的各種最大生產組合連成的線 (B)若多生產一單位 Y，圖一中，A、E、B 各點的機會成本： $A < E < B$ (C)若多生產一單位 Y，在圖二中，H、G、I 各點的機會成本： $H < G < I$ (D)圖一的 D 點與圖二的 G 點在經濟學的生產上具有相同意義
80. () 若從圖二生產可能曲線的角度來看永續發展，下列何者正確？ (A)目前全球資源過度使用的問題嚴重，長久下來，I 將指日可見 (B)G 點代表將資源發揮到最大效益，在經濟生產效率上 G 大於 H (C)人們如果持續破壞環境，會使全球的生產可能曲線整條向外移動 (D)透過技術上的創新，可使全球的生產可能曲線整條向外移動

三、混合題(3 小題，第 1 題 2 分，第 2、3 題每題 4 分，共 10 分)

班級： 座號： 姓名： (請直接在下面作答區作答，作答完請將此頁交回給監考老師)

◎A 男和 B 女於婚前未有任何婚前協議就結婚，婚後依照嫁娶傳統，與 A 男的父母 C、D 同住，A 有兩個在國外生活的兄妹 E 與 F。A 與 B 結婚後第五年，B 女喜獲龍鳳胎，生下 G 與 H。某日 A 男開車帶其父 C 返鄉掃墓，於高速公路上發生車禍，A 當場死亡，C 送至加護病房急救後兩週後仍宣告不治。經財產申報與確認，C 男留有 6000 萬的遺產。請回答下列問題：

- 若 C 跟 D 兩人婚後未約定財產制時，應採用何種財產制？(2 分)
- 請問 C 男過世後哪些人有繼承權(請勾選)？(4 分)
- 請問 G 可分得多少遺產(請寫出算式及金額)，如果不能分到財產請說明原因？(4 分)

1.	
2.	<input type="checkbox"/> B <input type="checkbox"/> D <input type="checkbox"/> E <input type="checkbox"/> F <input type="checkbox"/> G <input type="checkbox"/> H
3.	