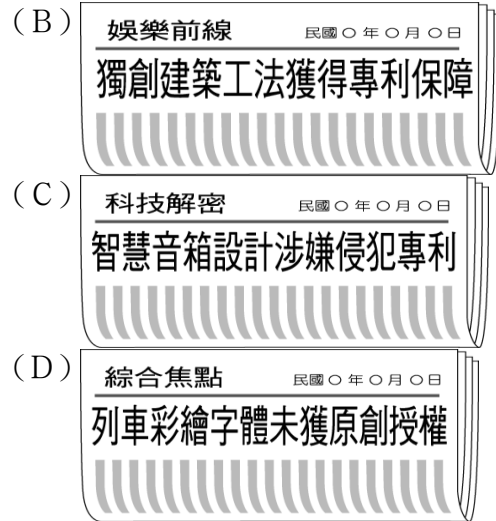
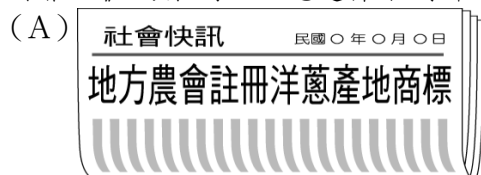
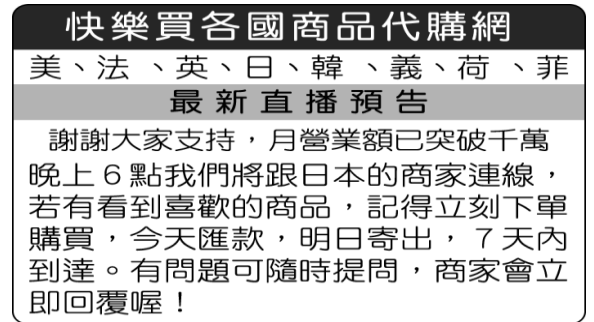


一、單題 (每題 2 分, 共 100 分)

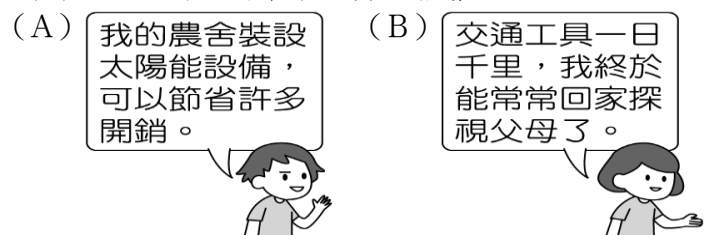
1. () 「承翰駕車通過高速公路收費站時, 無需停車繳費, 由電子儀器直接接收車上發出的訊號, 而通行費則從他的預付帳戶中扣除, 但也同時將他的行蹤留存在電腦檔案資料中。」上述內容最可能在討論下列哪一項議題? [99. 第一次基測]
- (A) 供給與需求的平衡 (B) 科技與隱私的兩難
(C) 車速與安全的衝擊 (D) 租稅與經濟的發展。
2. () 阿穆: 「2010 年前後, 中東及北非出現數起反對政府的抗議活動, 該地區有些國家的人民知曉後也紛紛響應, 一夕間使得幾個掌權長達數十年的政權, 突然都面臨了民主的考驗。」
小格: 「這波革命風潮的種子之所以如此迅速地散播, 應該是受到新的大眾傳播工具影響吧!」
上述二人的對話內容, 最可能是強調下列何者的重要性? 【109 年會考補考】
- (A) 科技發展加快訊息傳遞的速度
(B) 政黨輪替落實民主政治的精神
(C) 工業革命帶動生產技術的轉變
(D) 運輸工具縮短旅行各國的路程。
3. () 為保護野生動物、維護物種多樣性與自然生態之平衡, 我國立法對於野生動物的保育做出規範。但原住民族基於傳統祭祀慶典, 經主管機關同意後, 可獵捕、宰殺野生動物。上述特別許可原住民族行為的規定, 其理由最可能是下列何者? [100. 第一次基測]
- (A) 保障原住民的環境權 (B) 尊重不同族群的文化
(C) 維持自然生態的平衡 (D) 確保生物種類的多樣
4. () 阿鑫在課堂報告時提到: 「……該法律規定, 在推展科學技術時, 政府應考量科技政策或計畫對環境生態的影響, 並提供經費研究社會倫理與法律因應等相關問題。」根據上述內容判斷, 他最可能是以下列何者為主題? [94. 第二次基測]
- (A) 科技發展促進經濟成長
(B) 資訊時代裡的國際關係
(C) 科技發展對社會的衝擊
(D) 資訊社會中的政治參與。
5. () 近年來, 在臺灣從事製造業與營造業的外籍移工人數很多, 有些工業區附近甚至可以看到專門服務外籍移工的餐飲店或生活用品店。臺灣引進這些移工的原因, 主要是與下列何者有關? [97. 第一次基測]
- (A) 所得貧富差距擴大
(B) 青壯年失業問題嚴重
(C) 本地勞工薪資成本提高
(D) 產業發展技術水準降低。
6. () 2009 年 8 月 8 日, 一場大水災使臺灣受到重創, 許多民眾雖然分散在全國各地, 卻透過網路串聯, 自發性組團、募集救援物資前往災區救災; 並匯集最新災情, 通報救援物資的傳遞情況。下列何者最符合上述內容的意涵? [100. 第一次基測]
- (A) 網際網路致使自然環境受破壞
(B) 天然災害會造成生產方式改變
(C) 科技發達擴大公共事務的參與
(D) 各地民眾響應社區營造的推動。
7. () 宜雯認為智慧財產權的觀念十分重要, 想深入學習《著作權法》的案例, 她應選擇下列哪一則新聞



8. () 勝杰在金融雜誌上看到一篇關於國際資金流動的分析如下: 「為避開風險, 大筆國際資金抽離各國股市, 轉而投入新興國家原物料市場, 導致股價指數大幅下跌。」請問: 下列何者最符合上述內容的意涵?
- (A) 社會化 (B) 全球化 (C) 工業化 (D) 資訊化
9. () 郁芬這組的報告要點如附圖簡報所示, 由簡報內容判斷, 其報告的主題為何?
- ◎息息相關的地球村
◎牽一髮而動全身
◎新型冠狀病毒疫情蔓延
各國
- (A) 都市化 (B) 社會化 (C) 全球化 (D) 工業化
10. () 根據聯合國難民署的全球趨勢報告, 截至 2021 年底, 總共有 8,930 萬人因遭受戰爭、暴力、迫害及人權侵犯而被迫流離失所。此數字較 2020 年增加 8%, 比 10 年前上升超過 2 倍。下列對於「難民」的敘述, 何者正確?
- (A) 國際難民保護的規範主要是依照移入國的法律規定
(B) 難民申請者的主要來源是「想要定居在外國」的非法移民
(C) 現今的難民定義, 包括氣候、經濟或教育因素造成的移動人口
(D) 相較於移民, 難民大多無法安全回到家鄉, 並受到政府的保護。
11. () 澄澄與同年齡層的友人經常使用附圖中的方式購買日用品, 根據圖中內容判斷, 下列何者敘述正確?



- (A) 進入實體商家買賣交易的方式已成歷史
(B) 各國經濟互動因地理環境阻隔受到侷限
(C) 資訊科技進步使買賣雙方易於達成交易
(D) 消費者對於新型態的網路購物接受度低。
12. () 科技促進社會發展, 但也可能造成社會問題。請問: 下列何者顯示科技所帶來的負面影響?



- (C) 我用駭客技術侵入政府網站，促使他們重視民意。
- (D) 我在社群網站上號召有志之士，前進災區救災。

13. () 老師請同學就所蒐集的資料進行報告，附圖是中逸整理出報紙的部分標題。根據內容判斷，他應是以下列何者為報告主題？〔94. 第一次基測〕

- 法郎貶值影響日圓價格
- 歐洲企業倒閉引發東亞金融風暴
- 蒙古草原沙塵暴，造成臺灣空氣汙染

- (A) 全球化 (B) 區域性
(C) 永續發展 (D) 國際分工。
14. () 近年來，自然景觀休閒遊憩「遊客總量管制」的觀念漸受重視，亦即在不破壞自然環境的前提下，評估該景觀可以承受的限度來安排遊客人數，如福山植物園便是採行事先申請，限額入園的做法。請問：上述內容最能顯示下列何種意涵？〔93. 第二次基測〕
- (A) 土地過度使用超過負荷
(B) 珍惜資源以求永續經營
(C) 國土使用規畫日漸完備
(D) 週休二日休閒模式改變。
15. () 現在有許多的開發計畫包括開路、築壩、採礦、觀光休閒用地、工業用地、伐木等未經評估其對野生動物之影響，進行工程時也未將生態因素考慮在內，因此造成不必要及無法挽回的傷害。這些野生動物棲息地遭受嚴重破壞及改變是下列何種原因造成的？ (A) 經濟活動的擴張 (B) 文化習慣的偏差 (C) 生活習慣的輕忽 (D) 傳染疾病的蔓延。
16. () 為保護發明者的心血，各國都定有相關法律予以規範。附圖對話中所提及的法律應為下列何者？

- 我發明的充電技術會大大改善充電的速度。
- 恭喜你，政府已通過這項申請，表示你發明的這項技術獲得法律的保障了。

- (A) 《商標法》 (B) 《著作權法》
(C) 《勞動基準法》 (D) 《專利法》。
17. () 我國政府立法規範智慧財產權的目的為何？
(甲) 鼓勵發明與創作 (乙) 達到公共利益
(丙) 使所有權人獲得權益的保障 (丁) 強調企業的貢獻
(A) 甲乙丙 (B) 乙丙丁 (C) 甲乙丁 (D) 甲丙丁。
18. () 東京奧運掀起一片運動熱潮，許多選手在場奮戰的情景被畫成插畫、漫畫或設計成可愛的公仔圖案，在網路上被大家轉傳分享，但有民眾在未取得創作者同意下，擅用這些作品作為商業用途，這種行為已違反下列何項法律的規範？
(A) 《商標法》 (B) 《專利法》
(C) 《著作權法》 (D) 《社會秩序維護法》。
19. () 2003 年，SARS 疫情肆虐全臺，當時受到居家隔離的學生只能在家自習。2021 年，新型冠狀病毒疫情嚴重，政府宣布三級警戒，但學校師生可透過各式線上平臺學習。下列何者最適合用來說明 2003~2021 年學習方式所產生的變化？
(A) 網路的普及使溝通更即時，也大幅提升學生媒體識讀的能力
(B) 教師能透過通訊科技監控學生的生活、掌握學生的學習狀況
(C) 科技運用於電腦輔助教學與學習平臺，使學習不受時空限制
(D) 透過社群媒體，可號召學生組成社團，並實際參與

公共事務。

20. () 新聞報導：「電信公司引進室內電話『來電顯示』的功能，可提供使用者過濾接聽的電話。但根據社工人員表示，接受庇護的受虐者欲與外界聯絡時，多不希望撥出的電話號碼顯示出來，以免洩漏所在的地點。」上述內容最可能在討論下列哪一項議題？〔94. 第一次基測〕
(A) 全球化的資訊傳播 (B) 科技與隱私的難題
(C) 社會福利的重要性 (D) 權利救濟的多元性。
21. () 國外一知名歌手開辦網路教學課程，教授歌唱技巧、詞曲創作等內容，但被不法商人盜製，賤價銷售，吸引許多消費者購買，該名歌手因而損失數百萬元。根據上述，若無法處置不法商人的行為，以保障創作者權益，最後消費市場可能發生何種情形？
(A) 公平競爭促使市場交易趨於穩定
(B) 市面上的創作成品變得愈來愈多
(C) 創作者不願意投入心力創作作品
(D) 消費者可享受免費的服務和商品。
22. () 雅坑在圖書館觀賞一部紀錄片，拍攝地點位於開發中國家的工業區，附圖為受訪勞工說明他們正遭遇的困境。此片段內容凸顯出下列何者的嚴重性？

企業經營者利用跨國經濟快速累積大量財富，而努力生產的我們卻未獲得應有的報酬，依舊過著貧苦生活。



- 勞工
- (A) 教育資源不足 (B) 生態環境惡化
(C) 貧富差距擴大 (D) 種族歧視加深。
23. () 隨著資訊科技的發達，浮現出一些隱憂值得我們關心。附圖中的對話內容，顯示資訊科技的發達衍生出下列何種問題？

- 新聞報導說這個嬰兒罹患重病，急須救助，希望大家慷慨解囊。
- 這家電視臺常翻拍××公社發布的新聞報導，這些報導都是人家杜撰的故事，不是真的啦！

- (A) 資訊公開可能侵犯個人隱私
(B) 網路交友成為新興社會問題
(C) 沉迷網路互動導致心智障礙
(D) 假訊息充斥使民眾易受誤導。
24. () 珈芝在社群網路上看到一則貼文如下，依內容判斷，下列敘述何者最貼近內文情境？

疫情期間盡量避免人與人之間的接觸，使用網路商店購買生活用品，不須到賣場人擠人；餐廳停止內用，可利用外送平臺點餐送到家門口；若有金融業務須至銀行辦理，可改採網路銀行進行。請善用電子商務系統！

- (A) 科技發展協助處理人類生活事務
(B) 現代生活因科技發展遭受負面衝擊
(C) 人類所有勞動工作全然被機器取代
(D) 科技發展在不同社會文化產生落差。
25. () 依龍看到一則報導如附圖，他心想若此事件發生在我國，應查詢哪一項法令以了解相關規範？

國際萬花筒 XX年X月X日

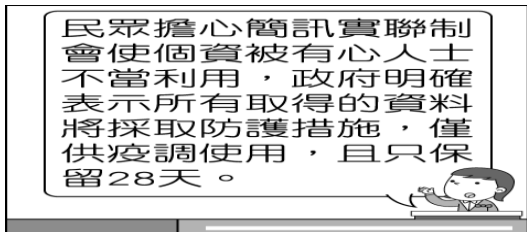
知名社群網路平臺想要更改代表品牌的標誌，多名律師提出警告，欲使用的圖案已被其他公司申請通過，若貿然換上，侵權事實明確，被提告的可能性極大。

- (A) 《憲法》 (B) 《商標法》
(C) 《專利法》 (D) 《著作權法》。

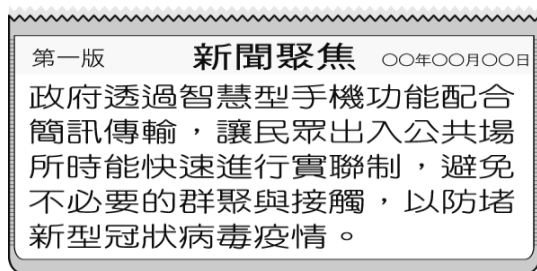
26. () 附圖呈現出某項法律規定施行前、後，幸福社區公告內容的變化，根據圖中訊息判斷，施行該法律最主要的目的應是下列何者？〔107. 會考修訂〕

幸福社區公告：管理費繳納情形(100年9-10月)			
9號1樓	王大銘	尚未繳納	
9號2樓	陳小刀	3,000元	
9號3樓	廖小瑜	3,000元	
9號4樓	劉大豪	3,000元	
請尚未繳納的住戶儘速繳納			
幸福社區公告：管理費繳納情形(101年11-12月)			
9號1樓	王○○	3,000元	
9號2樓	陳○○	3,000元	
9號3樓	廖○○	尚未繳納	
9號4樓	劉○○	3,000元	
請尚未繳納的住戶儘速繳納			

- (A) 促進社會互動 (B) 監控公共事務
(C) 查核虛假訊息 (D) 保護個人資料。
27. () 資訊科技雖然為人們帶來便利的生活，但也出現許多隱憂。根據附圖判斷，民眾的顧慮應為下列何者？



- (A) 行政效能不彰 (B) 個人資料外洩
(C) 防堵疫情失利 (D) 網路資訊氾濫。
28. () 新型冠狀病毒疫情肆虐，郝瑜與友人分享之前的防疫資訊(如附圖)，請判斷圖中的新聞內容，應可說明下列何者？



- (A) 科技有助於解決生活問題
(B) 假消息快速傳播的影響力
(C) 政府與民間協力發展經濟
(D) 科技應用存在的城鄉差距。
29. () 亞坤在手機上收到以下的訊息，顯示資訊科技造成下列何種隱憂？

親朋好友請注意：
請不要打開「最準的心理測驗」這個檔案，因為裡面已經被植入病毒，會竊取電腦裡的資料！

- (A) 資訊公開可能侵犯個人隱私
(B) 資訊氾濫造成內容真偽難辨
(C) 不法分子透過網路盜取個人資料
(D) 人際互動關係日益疏離。
30. () 在臺灣可見到義大利、泰國、越南等不同風味的餐廳，而臺灣美食在世界各地也品嚐得到。上述可以印證下列何種事實？
- (A) 不同文化相互接觸、影響，使文化更顯得多元
(B) 外來文化優於臺灣文化，臺灣文化須向外來文化學習
(C) 在臺灣的外來美食不夠道地，因此臺灣美食在外國也不道地
(D) 各國文化彼此之間不受影響，各自堅持自己的文化特色。

31. () 羅莎於晚餐後和家人一同收看新聞，報導的內容如附圖。請問：圖中所述與下列何種狀況最相關？

茉莉花革命發生於2010年的突尼西亞，反政府示威導致政權倒臺的事件，因茉莉花是其國花而得名。茉莉花革命透過新媒體(如Twitter)將當地情況傳播至各地，加速升溫示威抗議的能量。此模式受一些國家的民眾所效法(如阿爾及利亞、埃及等)，導致反政府的示威浪潮在一個月內席捲整個北部非洲與中東地區。

國際觀點

茉莉花革命



- (A) 政治全球化 (B) 經濟全球化
(C) 文化全球化 (D) 教育全球化。

32. () 鴻媛參加一個智慧財產權的有獎徵答遊戲，要將(甲)《專利法》(乙)《商標法》(丙)《著作權法》，由上至下填入附表。請問：下列哪一個組合正確？

?	鼓勵、保護、利用發明與創作，以促進產業發展。
?	保障商標權及消費者利益，維護市場公平競爭。
?	保障著作人的著作權益，調和社會公共利益，促進國家文化發展。

- (A) 甲丙乙 (B) 乙甲丙 (C) 丙甲乙 (D) 甲乙丙

33. () 巧禎看到一位官員接受節目專訪時，做出以下回覆，依內容判斷，政府的具體作為應為下列何者？

人類生活的進步是依靠許多人發明或創造的心血，為了維護他們努力的成果，政府必會嚴懲盜用或剽竊者，保障創作者的智慧財產權。

- (A) 限制人民研發專業技術
(B) 將智慧財產權收歸國有
(C) 取消智慧財產權的申請
(D) 制定法律捍衛人民權益。

34. () 下列哪些屬於智慧財產權的相關法律？
(甲)《著作權法》 (乙)《商標法》
(丙)《圖書館法》 (丁)《專利法》
(A) 甲乙丙 (B) 乙丙丁 (C) 甲乙丁 (D) 甲丙丁

35. () 我國對於智慧財產權所有權人設有法律保障，根據附圖對話中牽涉的冒用問題，適用下列何項法律來處理？



- (A) 《專利法》 (B) 《商標法》
(C) 《著作權法》 (D) 《憲法》

36. () 附表呈現阿森在近三屆我國總統選舉資格的變化情形。根據表中內容判斷，阿森在第14屆至第15屆之間，最可能發生了下列哪一件事？

屆次	總統選舉參選資格	總統選舉投票資格
13	不具備	具備
14	不具備	具備
15	不具備	不具備

- (A) 被政黨開除黨籍
(B) 遭法院監護宣告
(C) 遷移戶籍至其他縣市
(D) 遭法院判處褫奪公權 【111 教育會考】

37. () 某日阿蔚透過網路觀看立法院的議事實況轉播，根據我國現行法律規定，他最可能看見下列何者的轉播情況？

- (A) 審理總統、副總統彈劾案
(B) 表決對行政院的糾正提案
(C) 召開行政院會議規畫施政方針
(D) 行政院部會首長進行施政報告 【111 教育會考】

38. () 我國立法院、監察院二院分別與司法院於特定事項的處理上有先後順序，當立法院與監察院做出某些決定後，即交由司法院接續下一步的工作。附表為立法院與監察院的部分職權內容，其中哪些職權的行使符合上述關係？

中央機關	職權內容
立法院	(甲)提出《憲法》修正案
	(乙)提出總統、副總統彈劾案
監察院	(丙)糾正行政機關不當施政
	(丁)彈劾違法公務人員

- (A)甲、丙 (B)甲、丁
(C)乙、丙 (D)乙、丁 【111 教育會考補考】

39. () 甲、乙、丙三人的居住地資料如附表，近日三人分別向當地選出的民意代表陳情，

居民	居住地
甲	高雄市
乙	新竹市
丙	花蓮縣花蓮市

希望他們能反映民情。根據表中資料判斷，此三人所陳情的對象，最可能分別為下列何者？【106 教育會考】

- (A)甲：市民代表，乙：市議員，丙：立法委員
(B)甲：市議員，乙：市民代表，丙：立法委員
(C)甲：立法委員，乙：市民代表，丙：市議員
(D)甲：市議員，乙：立法委員，丙：市民代表

40. () 下列是四位網友在網路聊天室聊天的內容，若其中一人為我國國民，僅根據他們的敘述判斷，何者在聊天當時最可能具有中華民國國籍？

- (A)小萍：我的出生地是美國，不過現在在臺灣工作。
(B)小文：等了五年，我下週將前往內政部申請歸化。
(C)小君：我的父母都是日本人，但我在花蓮縣出生
(D)小璋：我出生當天，父親正好當選嘉義縣縣議員

【106 教育會考】

41. () 大南：「當監察委員通過彈劾案件後，會交由我們審理，否則即使公務員涉及違法情事，我們也不能主動對當事人的行為進行審議。」根據大南的說法判斷，他應是任職於下列哪一個機關？

- (A)審計部 (B)法務部
(C)臺北高等行政法院 (D)公務員懲戒委員會

【106 教育會考】

42. () 新聞報導：日前因人為疏失造成全臺數百萬戶大停電，立法院不分朝野為了追究責任，將請行政院院長提出專案報告。此外，在野黨立委認為近來行政團隊表現不佳，若專案報告無法切中要點、妥善檢討，將對行政院院長提出不信任案。根據我國政府機關間的互動關係判斷，上述內容主要隱含下列何項概念？

- (A)權力分立 (B)分權制衡
(C)主權在民 (D)地方自治 【修改自 109 教育會】

43. () 國中生小安寄了一封陳情信給某位公職人員，信中敘述父親因沉迷賭博，導致家中債臺高築，害他的父母離異、家庭破碎，希望有人能幫幫他，讓父親不再沉溺賭海。該名公職人員收到信後立刻啟動偵辦，循線破獲非法賭場，並依法對賭場業者與賭徒提起公訴。根據上述內容判斷，小安寄信的對象應是下列何者？

- (A)法官 (B)律師
(C)檢察官 (D)警察局局長 【111 教育會考】

44. () 我國對於收賄的公務員，可處以十年以上有期徒刑，但民間企業員工出現同樣的行為，卻常以刑罰較輕的背信罪處罰。上述相同的行為，會因犯罪者身分不同而受到不同懲罰的情況，與下列何種原則的關係最密切？

- (A)誠實信用 (B)罪刑法定
(C)契約自由 (D)無罪推定 【109 教育會考】

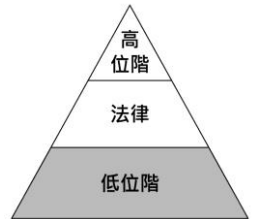
45. () 阿章以右列二則示例說明《憲法》關於自由權的概念。根據二則示例的共同意涵判斷，下列何者最可能是阿章所要說明的概念？

- 1.人民有飼養寵物的自由，但飼主若放任寵物影響鄰居安全，可能會遭主管機關處以罰鍰。
2.人民有言論自由，但若其言論涉及侮辱他人人格，可能會觸犯公然侮辱罪。

- (A)侵權行為應負損害賠償責任
(B)政府可依法律限制人民權利
(C)犯罪處罰須符合罪刑法定原則
(D)契約行為應依循契約自由原則

【修 111 教育會考補考】

46. () 附圖為我國廣義的法律位階示意圖，圖中灰色區塊所代表的法律類型，具有下列何項特色？



- (A)可由行政機關訂定
(B)必須經總統公布施行
(C)內容多為原則性的規範
(D)修改必須經公民投票複決

【109 教育會考】

47. () 附圖是小強在網路上張貼的問題及四位網友的回答，根據圖中內容判斷，下列何者的回答可以給小強適當的協助？

知識家

提問區

小強：同學在教室裡惡作劇把椅子拉開，害我跌倒手腳擦傷，我該怎麼要求賠償？

網友回答

- 小臻：這種事，找消費者保護官就對了！
小康：若不想上法院，聲請調解就行了！
小芬：查一下家庭暴力防治法就知道了！
小俊：向檢察官提起自訴就可以解決了！

- (A)小臻 (B)小康 (C)小芬 (D)小俊 【112 教育會考】

48. () 若有人為了在選舉時讓支持的候選人當選，配合動員把戶籍遷移到非實際居住的行政區，企圖影響選舉結果，此種行為可能觸犯《刑法》，檢察官將代表國家主動起訴違法者。根據上述內容判斷，關於某位違法遷移戶籍者在接受偵查、審判的過程中，下列何種情況最可能出現？

- (A)遭到落選者提起民事訴訟要求損害賠償
(B)在遭檢察官偵查的過程中度過 18 歲生日
(C)被查出是在投票日的六個月前遷移戶籍
(D)因為觸犯告訴乃論之罪而受到刑事處罰

【112 教育會考】

49. () 國中生小安寄了一封陳情信給某位公職人員，信中敘述父親因沉迷賭博，導致家中債臺高築，害他的父母離異、家庭破碎，希望有人能幫幫他，讓父親不再沉溺賭海。該名公職人員收到信後立刻啟動偵辦，循線破獲非法賭場，並依法對賭場業者與賭徒提起公訴。根據上述內容判斷，小安寄信的對象應是下列何者？

- (A)法官 (B)律師
(C)檢察官 (D)警察局局長 【111 教育會考】

50. () 謝先生是王小姐的前夫，但謝先生屢次侵擾王小姐的住處，甚至還到她上班的地方騷擾，最後謝先生因違反保護令的相關規定，被判處拘役四十天。根據上述內容判斷，下列敘述何者正確？

- (A)謝先生必須為自己的違法行為負起刑事責任
(B)王小姐因警察局所核發的保護令而獲得保障
(C)謝先生若不服判決可向地方法院提出民事訴訟
(D)王小姐可依《性別平等教育法》向謝先生求償

【111 教育會考】