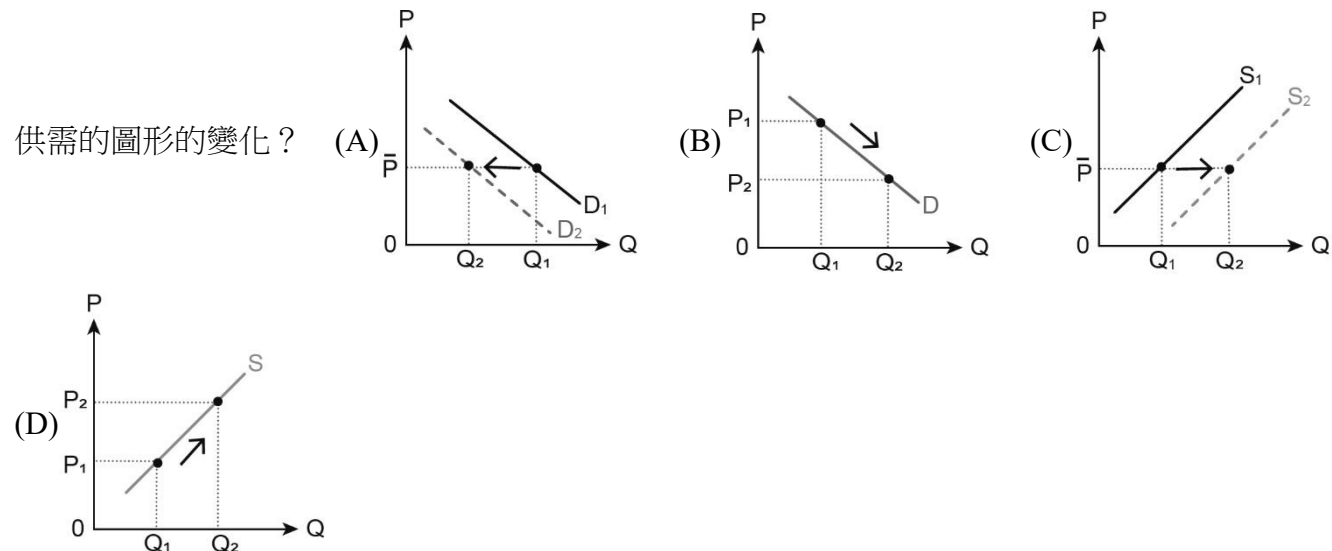


基隆市立中山高級中學 112 學年度第 2 學期高二體育班公民與社會科第 2 次段考試題卷

班級： 座號： 姓名： 使用電腦回收卡從第 51 題開始畫卡(試題共 3 頁)

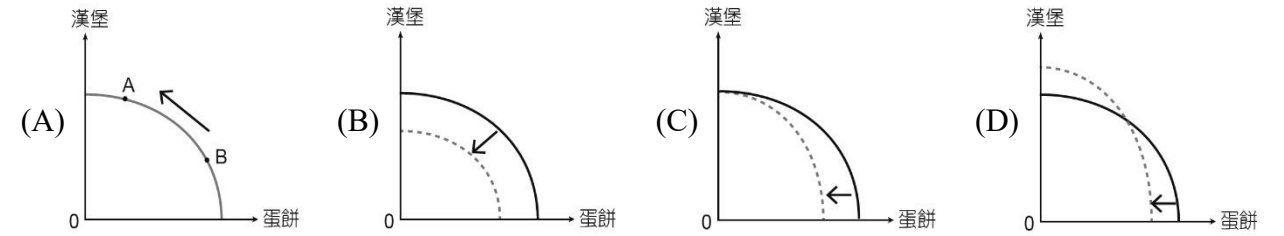
一、單選題(24 小題，每題 3 分，共 72 分 不倒扣)

51. () 極端氣候造成農作物減產，導致養雞飼料的黃豆及玉米等原物料價格大漲，衍生雞蛋生產成本增加，最後形成雞蛋短缺問題。在其他條件不變下，上述現象該如何反映在雞蛋的供需圖中？ (A)供給線上點的變動，點會沿著右上方移動 (B)供給線上點的變動，點會沿著左下方移動 (C)整條供給線的變動，供給線往左上方移動 (D)整條供給線的變動，供給線往右下方移動
52. () 舒涵在喝紅茶時，一定要加入鮮奶，配成鮮奶茶一起喝；如果沒有鮮奶茶，她也會喝柳丁汁來代替，在其他條件不變下，如果今天鮮奶的價格下跌，對於舒涵飲品選擇的說明，何者正確？ (A)她會喝柳丁汁，因為鮮奶茶和柳丁汁是替代品 (B)她會喝柳丁汁，鮮奶茶降價對柳丁汁需求增加 (C)她會喝鮮奶茶，因為鮮奶和紅茶兩者是互補品 (D)她會喝鮮奶茶，鮮奶降價對紅茶的需求量增加
53. () 如果有兩個人想要生產兩種產品時，該如何分工，會運用經濟學的「絕對利益」及「比較利益」原則，以做出對雙方最有利的選擇。下列有關絕對利益與比較利益的說明，何者正確？ (A)「天生我才必有用」這句話是依據比較利益原則 (B)選擇機會成本較低者生產，是依據絕對利益原則 (C)亞當·斯密提出比較利益，李嘉圖提出絕對利益 (D)生產的產品比其他生產者多，代表具有比較利益
54. () 我國舉行總統與立委選舉適逢學期末，各大專院校學生會都發起租賃返鄉投票專車，讓學子們可專心準備期末考後安心搭車回家。「返鄉專車」對遊覽車的出租業者可能發生下列哪一個

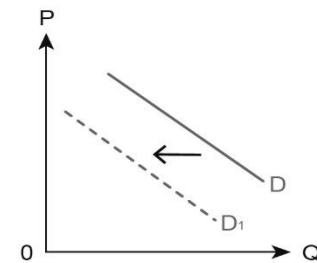


55. () 辭去竹科新貴的身分而決定歸隱山林種植有機稻米的陶源銘，以下他在宜蘭落腳後所著手進行的生產準備工作中，哪一項不屬於生產要素？ (A)為享受愜意生活購置咖啡研磨機 (B)承租依山傍水的良田和建造工寮 (C)推出聯合販售有機米的行銷企劃 (D)聘請資深農民做整地與經驗傳授

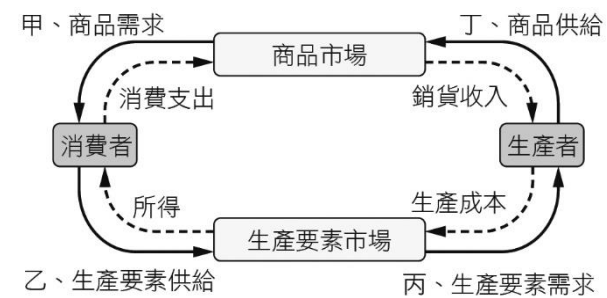
56. () 2023 年土耳其發生大地震，造成多人傷亡，也影響到相關產業的發展，土耳其出口的產品以農產品、礦產、汽車及相關產品為主，許多供應鏈也因此受到波及。受到地震的影響，土耳其出口相關產品的生產可能曲線將如何移動？ (A)PPC 整條線往內移動 (B)PPC 整條線往外移動 (C)PPC 線上的點往下移動 (D)PPC 線上的點往上移動
57. () 美美早餐店會製作漢堡(不加蛋)和蛋餅兩種產品，日前因為雞蛋缺貨的影響，所以影響了美美早餐店的生產組合，根據題文判斷，下列何者可能是早餐店生產可能曲線的變動情形？



58. () 消費者的需求量會受價格因素影響，但是市場上亦有不少非價格因素影響消費者的需求型態。判斷圖中需求曲線的變化，可能是下列哪一個原因造成的？



- (A)消費者預期價格的上升 (B)消費者互補品價格上漲 (C)消費者的偏好提升 (D)所得增加下的正常財
59. () 請依附圖的經濟循環圖判斷，下列說明何者正確？



- (A)甲：林老闆的餐廳進了新鮮的活蝦 (B)乙：佳佳利用課餘時間在超商打工 (C)丙：王媽媽開了一家百元的理髮店 (D)丁：張先生重新裝修手搖飲的店面
60. () 年節到了，大家都有陪媽媽去逛市場的經驗，老師請 4 位同學分享對市場以及交易行為的看法。下列何者敘述正確？ (A)甲：我媽在店家買臘肉時可用電子錢包付款，符合無形市場的便利性 (B)乙：我爸拿西裝去服飾店修改竟被弄破一個大洞，他打算依民法求償 (C)丙：伯父的公司擴展需要增聘員工，因此可以到產品市場上公告徵人 (D)丁：市場必須是指買賣的雙方實際接觸使用現金交易購買產品的地方
61. () 麵包店有兩名員工，莉莉用 1 小時可以做出 15 片餅乾或 5 個麵包，小咪用 1 小時則可以做出 20 片餅乾或 6 個麵包，如果兩人想要合作發揮最大的效益，對於下列分工的說明何者較適當？ (A)兩人各有絕對利益，應該依絕對利益進行分工 (B)小咪做麵包具有絕對利益，所以應該負

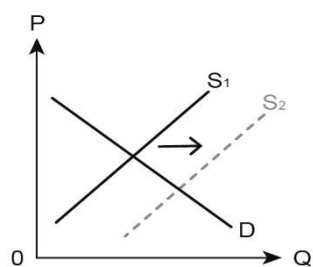
責麵包 (C)莉莉都沒有絕對利益，但做麵包機會成本較低 (D)兩人各有比較利益，要選機會成本較高者生產

62. () 市場中的財貨會依個人所得的變化影響需求，美國最大電商亞馬遜 (Amazon) 的業務在 COVID-19 疫情大流行期間蓬勃發展，但隨著消費者回流實體購物管道及通貨膨脹的影響，2023 年 1~3 月已裁員 2.7 萬人。若此情形持續一段期間，對這些員工而言，他們對正常財或劣等財的需求可能產生何種影響？ (A)對劣等財的需求減少 (B)對劣等財的需求增加 (C)對正常財的需求增加 (D)對正常財的需求量減少
63. () 小傑花 30 分鐘可以清潔 20 坪地板或整理 5 個抽屜；小愛耗費 30 分鐘可以清潔 10 坪地板或 2 個抽屜。如果兩人要分工，何者說明較正確？

	清潔地板 (坪)	整理抽屜 (個)
小傑	20	5
小愛	10	2

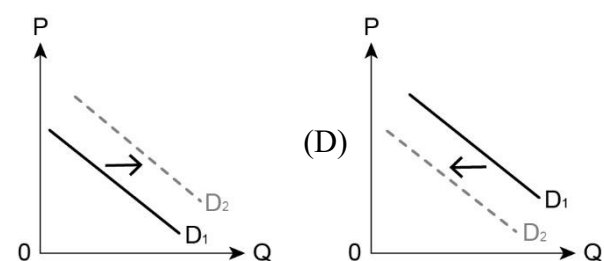
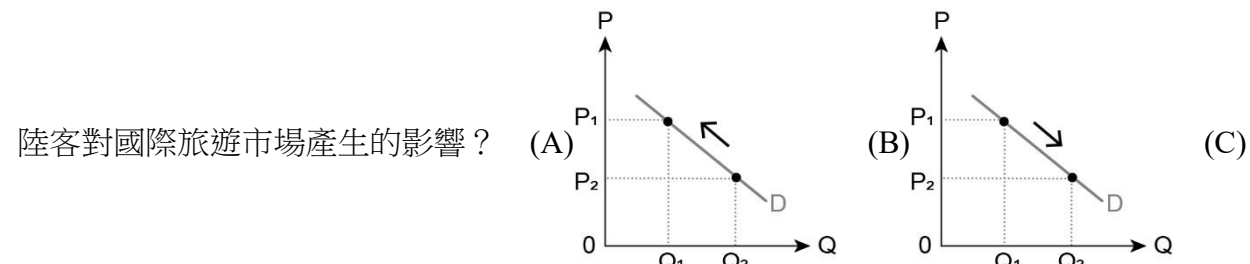
(A)小傑在整理抽屜上具有比較利益 (B)小愛在清潔地板的機會成本較高 (C)依絕對利益小傑應負責清潔地板 (D)小愛在整理抽屜上具有絕對利益

64. () 圖為芒果手機在市場上出現的變化，依圖示判斷，可能是下列何者原因造成？



(A)對手奇異果手機的價格調漲 (B)芒果手機發展創新生產技術 (C)全球手機業物流成本的增加 (D)芒果手機找來年輕網紅行銷

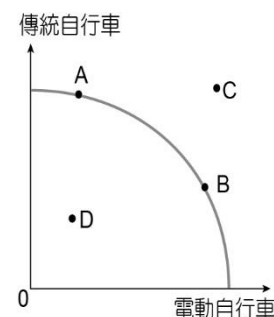
65. () 中國政府為了防堵新冠肺炎疫情，進行嚴格的邊境管制將近 3 年，一場「白紙革命」促使中國政府宣布邊境全面解封，於 2023 年 1 月取消入境 PCR 檢測和集中隔離措施，並恢復民眾出境旅遊，成千上萬的中國遊客將奔向全世界。下列哪一個圖示，最能表示中國邊境全面解封後，



66. () 幸福國和美滿國原來是兩個自給自足的國家，兩國都能生產大豆和稻米，每個月幸福國可以生產 100 單位大豆或 100 單位稻米；美滿國則可以生產 160 單位大豆或 80 單位稻米。假設兩國

在分工前，都會各花 1 個月生產這兩項作物，兩國想要專業分工後再進行貿易，請問：分工 2 個月後大豆和稻米的總產量將分別增加多少單位？ (A)120、40 (B)60、40 (C)40、20 (D)60、20

67. () 「巨大機械」是全球自行車製造龍頭，自創品牌「Giant 捷安特」在全球有超過 1 萬個以上的服務據點。除了傳統自行車，公司近年積極生產電動自行車。將該公司的生產組合畫出如附圖，橫軸代表電動自行車生產，縱軸代表傳統自行車生產。如果目前的生產組合是 A 點，下列有關生產可能組合的相關敘述，何者正確？

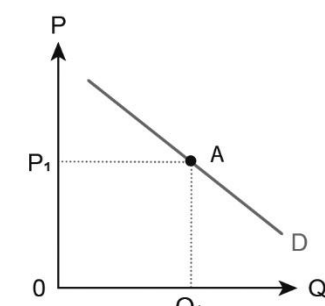


(A)A 點往 B 點移動代表放棄的電動自行車數量愈多 (B)A 點往 B 點移動代表生產效率將出現下滑的情況 (C)若提升傳統自行車的研發技術會出現 A 向 C 移動 (D)若公司的部分員工進行罷工，會出現 A 向 B 移動

68. () 烏克蘭是全球重要的糧食穀物生產國，盛產黃豆、小麥、葵花籽、玉米等，有「歐洲糧倉」之稱。2022 年俄烏戰爭破壞糧食的生產與出口，以致國際糧食價格高漲，而這些常用食材連帶影響到餐飲、烘焙等業者，業者不得不提高價格。請問：業者調整售價最有可能的原因為何？

(A)業者想要增加銷貨收入和利潤所以將價格調漲 (B)餐飲、烘焙業者想聯手哄抬價格而使用的說法 (C)業者因為互補品價格上漲因而導致原產品上漲 (D)業者因國際糧食價格上升，以致生產成本增加

69. () 附圖為市場上以價格與數量的關係所繪出的需求曲線，針對其形成的條件，下列何項的描述是正確的？



(A)需求量 (Q₁) 為特定價格 (P₁) 下最少的需求數量 (B)需求變動指的是在不同價格下，其數量變化的關係 (C)需求價格 (P₁) 為特定數量 (Q₁) 下所願意支付的最低價格 (D)需求量變動指在同一需求線上不同價格對應不同數量的關係

70. () 美籍臺裔企業家蘇姿丰，擔任超微半導體 (AMD) 執行長，被美國商業雜誌《Fortune》評選為全球最具影響力女性。她上任以來積極經營，大膽決策，把精力放在「高速運算」領域，並持續投入創新，短短幾年間，在她的領導下，AMD 從原本英特爾的手下敗將，變成能夠在下一代的關鍵技術中站穩腳步。請問：蘇姿丰的企業經營，與下列哪一種生產要素相同？ (A)

芒果冰店老闆承租的店面 (B)鼎泰豐員工所提供的服務 (C)台積電製程中所需的無塵室、機電工程 (D)必勝客將臺灣小吃放入披薩的各種巧思

71. () 瑞士針對「是否推行最低基本工資」進行公投，結果公投通過此項政策，當地的最低工資規定為每小時 23 瑞士法郎（約合新臺幣 717 元），每個月最低工資為 4,000 瑞士法郎（約合新臺幣 12 萬 4,600 元），假設瑞士大部分勞工的工資都低於 4,000 瑞士法郎，請問：此項議案通過後對勞動市場可能會產生何種變化？ (A)勞動市場供給增加 (B)勞動市場供給量增加 (C)勞動市場需求增加 (D)勞動市場需求量增加
72. () 太陽餅與鳳梨酥為臺中地區的兩大名產，是到訪臺中旅客挑選伴手禮的優先選擇。若製作鳳梨酥的原料鳳梨價格上漲，導致廠商提高鳳梨酥的售價，請問：這對伴手禮市場會有什麼影響？ (A)製作鳳梨酥的麵粉需求增加 (B)對於鳳梨的需求會隨之減少 (C)鳳梨酥的消費偏好因而下降 (D)對於太陽餅需求會隨之增加
73. () 分析市場發生各種供給變動的因素時，會影響生產者的供給。然對其條件的限制各有不同，請指出下列何者的敘述正確？ (A)工資上漲會增加生產者的成本，導致供給線會向右方移動 (B)生產上的互補品其雙方本身必有依存關係，才能準確分析 (C)預期未來產品價格會提高，生產者短期內會先增加供給因應 (D)分析生產上兩種產品進行替代選擇時，其資源數量要可變動
74. () 安妮亞和好朋友貝琪相約去買衣服，貝琪幫安妮亞挑了很多衣服，但安妮亞最後只選擇了綿羊吊飾，並送給貝琪綿羊吊飾當作友情的證明。請問：在經濟循環圖中，安妮亞在市場中買吊飾的角色，與下列底線內哪一角色相同？ (A)年節到了，父親為家裡買了一輛新車 (B)媽媽這個週末要加班，所以不會在家 (C)我有看到宇宙公司貼出了徵人的廣告 (D)仙絲公司在各大賣場上推出促銷專區

二、題組題(單選題 8 小題，每題 3.5 分，共 28 分 不倒扣)

◎由於世界人口呈幾何級數方式增加，連帶使得食物需求的總量也勢必跟著提升。以肉類的需求為例，因為從畜牧生產的過程中會產生的汙染與環境的破壞甚鉅，因此農產科技專家便投入研究對環境侵害較少的「植物肉」(Plant-Based Meat, PBM)來取代對真正肉類的消費需求。目前市場上已研發出來的仿製肉類替代食品，可分為植物肉、細胞培養肉、蛋白質替代製品等三類。

人類目前研究品種改良或基因改造等技術已相當成熟，科學家們藉由提高生產數量和效率，全力因應解決人類未來食物短缺的問題。但是過程中尚需考量兼顧生產永續性、減輕環境衝擊及產量提高的三贏目標，因此發展肉類替代食品的動機也隨之被激發出來了，藉此機會推出新的「產品」也可以滿足一下消費者的多樣化需求。

所以，對此一個全新食品「類型」的發展，我們相信它將不會只是一時的潮流而已。在口感幾乎能仿真的條件下，消費者將來可以選擇食用一般肉類或是肉類替代食品，並且也能兼顧所產生的環保爭議。而一般傳統肉品業者，則必須面對如何迎合善變的消費者，以及如何將生產成本控制低於植物肉等的種種挑戰了。

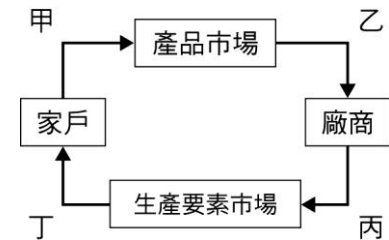
75. () 當人們的飲食觀念改變，在關心環保的考量下減少對傳統肉品的需求轉而提升植物肉的消費。因此植物肉為傳統肉類的(甲)將成為未來的趨勢。請問：(甲)應為下列何者？ (A)互補品 (B)劣等財 (C)正常財 (D)替代品
76. () 文中所提及肉品創新研發之「三贏目標」，此創新研發特質和下列哪種情境屬同類生產要

素？ (A)為用電安全，業者推出一種碰倒即會自動斷電的電暖爐 (B)工程師絞盡腦汁，加上通宵達旦，終於完成公司的程式 (C)為了創業不得不將儲蓄多年的存款全部拿出來購買設備 (D)直接向原產地買入大量的新鮮葡萄，製成葡萄乾再出售

77. () 假設替代肉品技術已成熟，上市供消費者選擇，在成本考量下，傳統肉類價格高於替代肉品，則下列哪一項「需求變動」的描述可以符合這種情況？ (A)市場上傳統肉品價格上升而使生產上替代肉品最終的數量減少 (B)市場上傳統肉品價格上升而使消費上替代肉品最終的數量增加 (C)市場上傳統肉品價格上升而使生產上替代肉品最終的數量增加 (D)市場上傳統肉品價格上升而使消費上替代肉品最終的數量減少

◎雨萱是大學國貿系的學生，喜歡喝熱美式咖啡，平常上課前習慣購買熱美式咖啡提神，課餘時間則在一家燒肉店打工。某天，咖啡店推出買一送一的期間限定活動，而燒肉店的店長也因為雨萱表現優異，決定調升她的薪水

附圖為經濟循環流程圖



78. () 雨萱購買熱美式咖啡的金錢流向，屬於圖中的哪一個部分？ (A)甲 (B)乙 (C)丙 (D)丁
79. () 雨萱獲得打工薪水的金錢流向，屬於圖中的哪一個部分？ (A)甲 (B)乙 (C)丙 (D)丁
80. () 在其他條件不變的情況下，若對雨萱而言，熱美式咖啡是正常財，當燒肉店調升雨萱的薪水後，雨萱購買咖啡的行為或想法會出現什麼變化？ (A)雨萱對熱美式咖啡的需求增加 (B)雨萱對熱美式咖啡的需求量增加 (C)雨萱對熱美式咖啡的需求量減少 (D)雨萱對熱美式咖啡的需求減少

◎任天堂公司推出健身遊戲「Switch 健身環大冒險」，找來日本女星新垣結衣代言廣告，引起搶購熱潮，上市數月一直在缺貨狀態。不願等待的預購消費者只能在網路購物臺上購買，但價格比原價高上了千元以上，不過仍然有許多消費者買單。請依據上述資訊，回答下列問題：

81. () 網路購物臺上的價格，比原價高上了千元以上，下列何者為其最主要的原因？ (A)供給量大於需求量 (B)需求量大於供給量 (C)需求量等於供給量 (D)需求量與供給量均減少
82. () 上述遊戲價格高於原本產品定價的情形，與下列何者影響價格的原因「最相似」？ (A)公立幼稚園名額有限，家長只能祈求抽籤抽中入學名額 (B)天氣炎熱為減少尖峰用電，臺電啟用比平時較高的夏季電費 (C)中國爆發非洲豬瘟使得豬肉難以買到，價格也飆升 (D)隨著人口老化，安養機構紛紛設立以因應長照需求