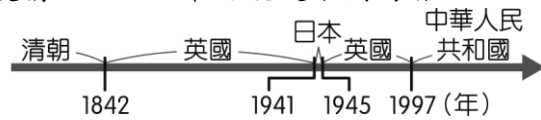


一、單題：41題，每題2分，共計82分。 ※共有53題，請用2B鉛筆畫記於答案卡。 (題目共四頁，第一頁)

1. () 附圖呈現的是某地不同時期統治者的演變情況，此地最可能是下列何者？



(A) 琉球 (B) 香港 (C) 澳門 (D) 臺灣

2. () 圖(一)及圖(二)為中蘇關係示意圖，由圖(一)到圖(二)顯示了中蘇關係的變化。請問：下列何者不符合史實？



圖(一)



圖(二)

(A) 中共建國初期全力模仿蘇聯 (B) 中共建國初期獲得蘇聯援助 (C) 中蘇交惡與天安門事件有關 (D) 中蘇均為共產國家陣營的一員。

3. () 有史學家評論現代中國某位人物時，說道：「他能夠在歷史上占一席位，最重要的一點就是1979年勇敢徹底地改變了毛澤東的路線……。在這個時代，『經濟掛帥』取代毛澤東的『政治掛帥』。」請問：上述這個現代中國人物指的是誰？ (A) 蔣中正 (B) 孫中山 (C) 陳獨秀 (D) 鄧小平。

4. () 1989年，當時電視曾出現「一位年輕人獨自以肉身擋住坦克車」的畫面，引來全球同聲譴責中共藐視人權。請問：這位年輕人代表中國民眾追求何者的象徵？ (A) 國家主權 (B) 政治民主 (C) 教育改革 (D) 共產經濟。

5. () 中共政權成立之初，外交路線採取哪一種路線？ (A) 大幅傾向美國 (B) 大幅傾向蘇聯 (C) 與美、蘇分別結盟 (D) 不與美、蘇結盟，保持中立。

6. () 某則資料提及：「這年秋天，毛澤東在天安門檢閱紅衛兵達到8次之多，……總共接見了約一千兩百萬人。」請問：上述現象應是發生於下列哪一個時期？ (A) 軍閥統治 (B) 聯俄容共 (C) 十年建設 (D) 文化大革命。

7. () 文化大革命被稱為十年浩劫，口號中喊出破四舊、立四新，在這個政策下，不但毀壞許多中國珍貴的歷史文物，也將下列何者破壞殆盡？ (A) 中國倫理與文化 (B) 共產主義 (C) 國產企業 (D) 對毛澤東的崇拜心理。

8. () 有人說「21世紀是中國人的世紀」，在中國富強之餘，中國仍舊面臨許多挑戰與困境。請問：下列何者為非？ (A) 與周邊國家領土爭議不斷 (B) 貧富發展嚴重不均 (C) 性別比例失衡 (D) 國家主權遭受西方列強控制。

9. () 小明利用網路閱讀鄧榕所寫的《我的父親鄧小平》一書。請問：書中可能寫到鄧小平的事蹟為何？ (A) 推行「大躍進」運動 (B) 發動「文化大革命」 (C) 推動「改革開放」，促成經濟發展 (D) 擔任中共建政後的首任國家領導人。

10. () 附圖是某漫畫家的作品，其內容係針對中共的哪一項政策所作的諷喻？



(A) 土地改革 (B) 大躍進運動 (C) 文化大革命 (D) 人民公社。

11. () 評論家指出，中國曾和甲國爭辯政策方向，認為甲國干預內政，試圖擺脫其控制，導致兩國關係生變。請問：上述的「甲國」是指下列何者？ (A) 蘇聯 (B) 越南 (C) 美國 (D) 北韓。

12. () 小慧回憶起她年輕時所參與的學生運動：「那一年是1989年，我與一群大學生聚集在廣場，向政府提出我們希望政治改革的訴求。但是，後來政府卻動用軍隊鎮壓了這場學生運動。」請幫她找出與該事件相關的照片是下列哪一張？



13. () 近年，有人對中共某已故領導人做出評論：「建國有功，治國無能，文革有罪。」請問：這句話應是對何人的評論？

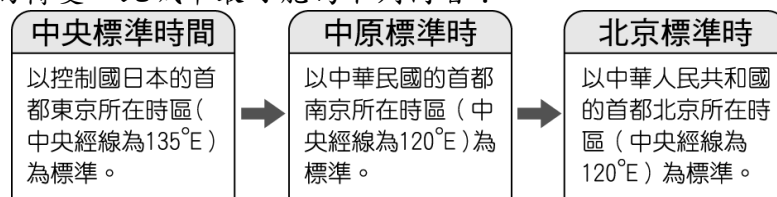
(A)毛澤東 (B)蔣中正 (C)陳獨秀 (D)張學良。

14. () 深圳本是海邊的小村莊，如今變成有高樓大廈的大城市。請問：其原因為何？ (A)發動文化大革命 (B)推動改革開放 (C)壓制人權運動 (D)香港、澳門回歸。
15. () 中國從文化大革命結束後，一直維持改革開放的路線，但依舊面臨許多挑戰。請問：現今中國的挑戰不包括下列何者？ (A)人權不彰 (B)性別比例失衡 (C)領土爭議 (D)經濟實力不佳。
16. () 「西元 1989 年，成千上萬的學生在北京市中心的天安門廣場集會，表達對國家領導的不滿，並要求民主改革……。」請問：文中的事件發生在附圖哪一個地區？



(A)甲 (B)乙 (C)丙 (D)丁。

17. () 各地所採用的時區及標準時間名稱，有時會隨著當地的政治勢力改變而有所不同。附圖為 20 世紀時，某座城市在十餘年內所屬時區及標準時間名稱的轉變。此城市最可能為下列何者？



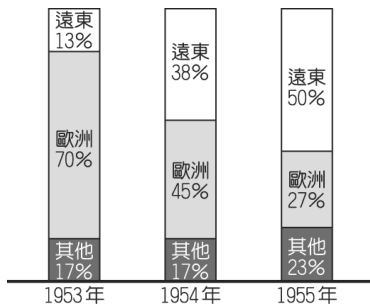
(A)香港 (B)臺北 (C)重慶 (D)瀋陽。

18. () 幾位同學正在討論中華人民共和國成立的相關歷史。請問：何者說法不符史實？ (A)初期實施公地放領 (B)由中國共產黨一黨專政 (C)逐步將民間企業收歸國有 (D)早期外交大幅傾向蘇聯。
19. () 中國於 1970 年代末推動的改革開放政策，帶動經濟快速成長，但是卻加深區域發展失衡現象。下列關於中國的新聞報導，何者最能反映中國區域發展不均的現象？ (A)今年出現的多起沙塵暴，已直接威脅北京、上海及南京等大都市 (B)推動海上絲路計畫，發展從中國沿海港口經印度洋至歐洲的航線 (C)農曆春節將湧現數億人次返鄉人潮，堪稱地表最大規模的人口移動 (D)南方近年降雨減少，旱象環生，南水北調將威脅南方用水的供應量。【107 年會考】
20. () 文化大革命不但在中國境內造成深遠的影響，對世界也造成一定程度的衝擊。請問：下列何者不是文化大革命的影響之一？ (A)擴大援助亞、非、拉丁美洲的共產武裝勢力 (B)中國本身向資本主義靠攏 (C)助長歐美地區的學生運動 (D)美國黑人民權運動人士討論、學習《毛語錄》。
21. () 中共的文化大革命，當初發生的根本原因為何？ (A)思想改造 (B)改革傳統文化 (C)奪權鬥爭 (D)鎮壓反革命。
22. () 有關中共政權成立以後的發展，下列敘述何者正確？ (A)毛澤東時代以階級鬥爭為政治的主要手段 (B)文化大革命的推動主張保存傳統，是文化再造運動 (C)鄧小平時代主張政治開放改革 (D)六四天安門事件的發生，使中共體制瓦解。
23. () 美國為防止共產勢力的擴張而支援越戰多年。後來美軍中途撤離越南的主因為何？ (A)國內反戰情緒高漲 (B)國內發生戰爭 (C)中共以斷交作威脅 (D)蘇聯向美國本土發動攻擊。
24. () 1952 年 6 月，某國艦隊司令來臺後，在會議中致詞：「目前本艦隊雖在韓國負有作戰任務，好在距離不遠，如能預知匪犯臺灣之行動，至少兩日即可趕來協助。」請問：這位艦隊司令最有可能來自下列哪一國家？ (A)英國 (B)日本 (C)韓國 (D)美國。
25. () 1955 年，亞洲、非洲許多國家在印尼召開會議，主張促進亞、非國家之間的友好合作；1960 年代，印度、埃及等國強調獨立自主和不與美、蘇強權結盟。請問：上述會議與立場，最可能反映出下列何者？ (A)太平洋戰爭的結束 (B)冷戰時代的對峙 (C)共產世界的瓦解 (D)兩次石油危機。【106 年會考改寫】
26. () 有個國際組織，在美國的主導下成立，目的是為了避免亞洲共產勢力的擴張。但隨著冷戰結束，該組織的會員國意見未能一致，最後在 1977 年面臨解散的命運。請問：該國際組織為何？ (A)亞太經濟合作會議 (B)世界貿易組織 (C)東南亞國家協會 (D)東南亞公約組織。
27. () 哪一個國家為了越戰投入非常可觀的兵力和財力，但卻損失慘重，導致國內反戰情緒高漲？ (A)美國 (B)英國 (C)法國 (D)蘇聯。
28. () 曾經參與韓戰的美國老將回憶這場戰爭說道：「眼看收復平壤已經是指日可待，我軍卻又遭遇更難纏的對手，□的號召力極大，派遣出的軍隊成為我軍收復朝鮮半島的極大阻力……。」請問：上述缺空處應該填入下列何者？ (A)蔣中正 (B)毛澤東 (C)邱吉爾 (D)羅斯福。
29. () 目前東南亞國家協會有 10 個會員國，但因為與周遭國家密切往來，開始展開合作，而形成「東協+3」。請問：「+3」中不包括下列何者？ (A)南韓 (B)中國 (C)日本 (D)美國。
30. () 為完整圍堵共產勢力，美國另與未加入東南亞公約組織的東亞國家分別簽訂條約。其中，和臺灣簽訂下列何者，藉以穩定臺海局勢？ (A)《臺灣關係法》 (B)《中美共同防禦條約》 (C)《雅爾達密約》 (D)《馬關條約》。
31. () 中國因為出兵支援其他共產國家，國際影響力逐漸變大，附圖為當時中國協助其他國家時，國內宣傳畫之一。請問：最後這場戰爭的結果為何？



(A)親美方大獲全勝，逐出共產勢力 (B)南北雙方最後畫定停戰線，各據一方 (C)美軍退出戰場，該國成為共產國家 (D)美軍退出戰場，該國依然維持原狀。

32. () 西元 1950 年韓戰爆發後，美國對外實施經濟及軍事援助。附圖為 1953 年至 1955 年間美國軍援分配情形圖。我們可以由圖中得出何種資訊？〔96.第一次基測〕



(A)歐洲對世界的影響力與日遞減 (B)美國日漸重視遠東地區的重要性 (C)美國對「其他」地區的援助比例日益縮減 (D)美國對遠東地區和「其他」地區的援助比例，始終占總援助比例一半以上。

33. () 附圖為第二次世界大戰後，世界兩大強權互相對峙的漫畫。請問：圖中應是下列哪兩個國家在互相對峙？



(A)蘇聯、美國 (B)美國、英國 (C)中國、蘇聯 (D)英國、日本。

34. () 第二次世界大戰後，國際局勢走向區域統合，東南亞國家協會便是其一。下列何者是東南亞國家協會成立的目的？

(A)達成太平洋地區貿易和投資的自由化 (B)消滅種族歧視 (C)促成貨幣金融的統一，達到政治的統合 (D)進行經貿的區域性合作。

35. () 第二次世界大戰後，亞洲的韓國與越南在經歷獨立之後卻走向分裂的地步，其主要的原因為何？ (A)法國勢力的擴張 (B)美國的新霸權地位 (C)日本的軍國主義 (D)共產勢力的介入。

36. () 1950 年代，中國在派遣軍隊入□□參戰後，在全國掀起了「支援□□戰場，打敗美國野心狼」的狂潮，中國各界紛紛捐款，捐助物資，捐獻武器運動。請問：上述的□□為下列哪一地區？ (A)香港 (B)金門 (C)朝鮮 (D)馬祖

37. () 美、蘇領導的反共國家與共黨國家互相對抗，形成冷戰的局面是在哪一次戰爭之後？ (A)第一次世界大戰 (B)第二次世界大戰 (C)清法戰爭 (D)日俄戰爭。

38. () 阿雅正在整理課本所說的國際組織的特點，如附表，表中哪一項寫錯了？

	東南亞公約組織	東南亞國家協會
甲：會旗		
乙：目的	圍堵共產勢力的擴張	東南亞國家的區域統合
丙：開始時間	冷戰期間	冷戰期間
丁：結束時間	~ 迄今	1977 年解散

(A)甲 (B)乙 (C)丙 (D)丁。

39. () 小南為了交歷史作業而撰寫越戰的報告，下列的內容中何者錯誤？ (A)越南在第二次世界大戰後南北分裂 (B)美國加入戰局援助北越政權 (C)越南在 1954 年脫離法國殖民統治 (D)美軍因國內反戰壓力而退出戰局。

40. () 附圖是一幅歷史照片與說明，圖說人物曾兩度被俘。依據說明，此人最可能先後被下列何者所俘？〔105.會考〕



1947年，有一位臺南人在臺灣被政府徵召，隨部隊赴中國華北參戰，戰敗被俘後編入敵軍；1950年代，他參與韓戰，再度被俘；最後以「來歸義士」身分返臺，哭倒在母親懷中。

(A)日本、美國 (B)日本、中國國民黨 (C)中國共產黨、美國 (D)中國共產黨、北韓。

41. () 下列歷史事件，何者發生的時間最晚？ (A)韓戰 (B)中華人民共和國成立 (C)文化大革命 (D)國民政府遷臺

二、題組題：三大題，每小題 2 分，共計 12 分。

1. 附圖是中國近代史中的一部分，當時人民都集體吃飯、集體生產，貫徹毛主席的意志。但也造成生產意願低落，最後還餓死上千萬的中國人。請問：



- () (42) 下列政策何者和附圖屬於同時期？ (A) 沒收地主土地，重新分配給貧農 (B) 土法煉鋼 (C) 文化大革命 (D) 改革開放。
- () (43) 當時配合的口號應該是下列何者？ (A) 一致抗日 (B) 廢除二十一條 (C) 還我青島 (D) 十五年內超過英國

2. 附圖為 1960 年代末~1970 年代西方的社會運動示意圖。請問：



- () (44) 由附圖內容判斷，是受到何種運動影響？ (A) 新文化運動 (B) 文化大革命 (C) 大躍進運動 (D) 改革開放
- () (45) 當時配合的口號應該是下列何者？ (A) 停止內戰，一致抗日 (B) 破四舊、立四新 (C) 中蘇兩國人民友誼萬歲 (D) 十五年內超過英國。

3. 中國的「順口溜」常以諷刺的語氣，來反映民間對政治、社會的不滿與無奈。請問：

- () (46) 「十億人民九億商，還有一億等開張。」此句順口溜反映的時代現象為何？ (A) 中共號召人民，展開「二萬五千里長征」 (B) 中共改革開放後，人民注重賺錢的社會現象 (C) 中共實施土地改革，沒收地主土地，重新分配給農民 (D) 中國共產黨成立後，與中國國民黨之間的對立與衝突。
- () (47) 「革命革了幾十年，一覺回到解放前。」此句順口溜反映的時代現象為何？ (A) 人民對於中共不斷進行的各項運動，相當服從 (B) 中共主張以革命手段來建設國家 (C) 人民依舊懷念國民政府統治時期的生活 (D) 中共不斷展開各項運動，好像最後還是回到兩岸分治前的狀況。

三、配合題：兩大題，每小題 1 分，共計 6 分。

1. 請將下列運動與其內容口號相配合：

(A) 破四舊、立四新	(B) 外爭主權，內除國賊	(C) 超英趕美	(D) 德先生、賽先生
-------------	---------------	----------	-------------

- () (48) 大躍進。
- () (49) 文化大革命。
- () (50) 五四運動。
- () (51) 新文化運動。

2. 請將下列中國的重要事蹟與發生年分相配合：

(A) 2001 年	(B) 2008 年
------------	------------

- () (52) 主辦北京夏季奧運。
- () (53) 加入 WTO。



~智者不只發現機會，更要創造機會。(英國，培根)~