

基隆市立中山高級中學 113 學年度第一學期第三次段考

國中部三年級歷史科題目卷

三年 班 座號: 姓名:

一、單選題：37 題，每題 2 分，共計 74 分。

※共有 55 題，請用 2B 鉛筆畫記於答案卡。(共 4 頁)

1. ( ) 下列缺空處應該填入何者？

甲方：我認為 1 月 26 日應該要訂為侵略日，從 1788 年 1 月 26 日升起□□國旗那一刻，我們就遭受到不平等對待，飽受傳染病威脅，喪失自己的土地和文化。

乙方：1 月 26 日是澳大利亞日，在 1788 年 1 月 26 日，艦隊首次抵達雪梨，升起國旗，澳洲成為殖民地。

(A) 荷蘭 (B) 西班牙 (C) 英國 (D) 葡萄牙。

2. ( ) 荷蘭統治臺灣時期的末代臺灣長官揆一在面對鄭成功猛烈的攻擊時，曾寫信向總部求援，卻因為季節風向不對遲遲等不到援軍，最後黯然投降。請問：揆一的信應該寄送到下列何地？

(A) 印尼巴達維亞 (B) 日本長崎 (C) 印度德里 (D) 中國廣州。

3. ( ) 「立功異域，揚名海外」為人們所稱羨，附表人物與事蹟的配對，何組錯誤？

人物	時間	事蹟
(甲) 鄭和	15 世紀	七次下西洋，遍歷東南亞，提高中國人民向海外發展的興趣
(乙) 狄亞士	15 世紀	發現非洲南端的好望角
(丙) 哥倫布	15 世紀	橫渡大西洋，抵達美洲
(丁) 達伽馬	16 世紀	首先完成了繞行地球一周的航海家

(A) 甲 (B) 乙 (C) 丙 (D) 丁。

4. ( ) 附圖為 17 世紀某公司的徽章，其在東亞進行瓷器、絲綢等貿易。請問：該公司前往東亞貿易的理由不包括下列何者？



(A) 賺取更多利潤 (B) 爭奪殖民地 (C) 拓展新教區 (D) 打敗鄭氏政權。

5. ( ) 佳佳到秘魯參觀古印加文化遺址，導遊說，原住民曾在此地建立輝煌的文化與帝國，但如今已不復存在。下列哪一項是導致當地古文化消失的直接原因？〔94. 第一次基測〕

(A) 熱帶雨林消失 (B) 非洲黑奴輸入 (C) 火山活動頻繁 (D) 西班牙的侵略。

6. ( ) 阿飛研究歐洲人餐桌上的飲食，他發現中世紀歐洲食物味道乏善可陳，貴族飲食普遍使用蜂蜜、鼠尾草、香芹、水果調味，平民食物更多是撒鹽燉煮，亞洲香料非常昂貴且數量稀少，和現今歐洲料理大量使用胡椒、肉桂、孜然、肉荳蔻、番紅花、薑黃、薑、白糖等亞洲香料大相逕庭。請問：歐洲食物風味開始轉變最大的原因是下列何者？

(A) 新航路促使亞洲貨物大量流入 (B) 氣候暖化歐洲植物像改變 (C) 阿拉伯商人大量傾銷 (D) 教宗允許各階層使用香料。

7. ( ) 19 世紀，蒙兀兒帝國最後一任皇帝巴哈杜爾沙二世被流放至緬甸，其直系親屬中男性被追殺，至此蒙兀兒帝國完全失去對印度的統治權，隨之而來的是殖民母國的壓榨與不公對待。請問：上述的殖民母國應該是下列何者？

(A) 法國 (B) 英國 (C) 葡萄牙 (D) 荷蘭。

8. ( ) 附圖是阿茲提克人觀察星體的運行所制定曆法。一年有 18 個月，每月 20 日，年末 5 日為凶日，一年總共 365 天，這套曆法主要用在農業上，標記雨季和旱季出現的時間，節慶的日期也配合這套曆法。請問：阿茲提克人的曆法是根據下列哪一星體所制定？




(A) 火星 (B) 木星 (C) 月球 (D) 太陽。

9. ( ) 西方的歷史由「地中海時代」變為「大西洋時代」，此轉變是由於哪一事件的發生？

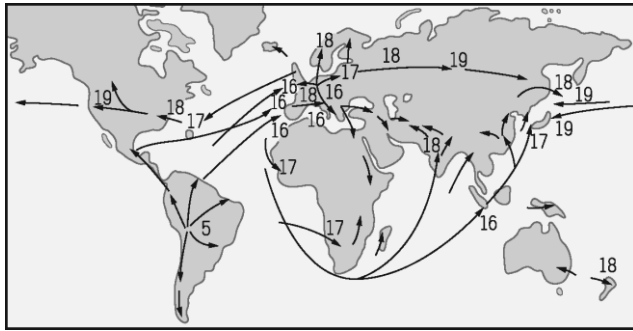
(A) 日耳曼民族入侵西羅馬帝國 (B) 伊斯蘭教勢力退出伊比利半島 (C) 大航海時代 (D) 宗教戰爭。

10. ( ) 附圖是印度北部著名景點泰姬瑪哈陵，它是蒙兀兒帝國沙賈汗為了紀念他的妻子而建。這種主建築外有高聳叫拜樓(柱子)建築樣式，是哪一宗教的建築特色？



(A) 祆教 (B) 佛教 (C) 伊斯蘭教 (D) 基督教。

11. ( ) 附圖為某農作物傳播到世界各地種植的時空示意圖，圖中數字表示農物流傳到該地的時間（世紀），箭頭則代表傳播的方向。請根據圖上資料判斷，該農作物的原產地最可能是在下列何處？〔96.第一次基測〕



(A) 美洲 (B) 非洲 (C) 亞洲 (D) 歐洲。

12. ( ) 采瑩讀完世界史，歸納西元 15 世紀歐洲人遠航的動機有哪些？(甲)對亞洲的香料、絲綢等貴重物品的需要(乙)貿易路線被義大利商人及鄂圖曼土耳其商人所掌控(丙)藉機傳播伊斯蘭教的福音  
(A) 甲乙 (B) 乙丙 (C) 甲丙 (D) 甲乙丙。

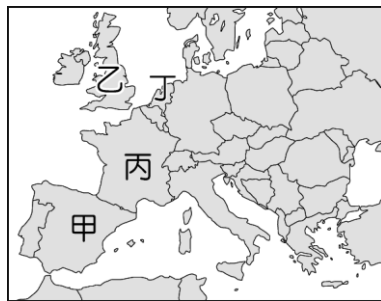
13. ( ) 附表是依某一概念所整理出的表格，若依相同概念填入第四組內容，下列何者最適宜？〔96.第一次基測〕

	關係
1	英國—印度
2	荷蘭—印尼
3	葡萄牙—澳門
4	？

(A) 西班牙—菲律賓 (B) 德國—普魯士 (C) 法國—丹麥 (D) 蘇聯—美國。

14. ( ) 曉惠非常喜愛可可相關製品，像是巧克力、可可牛乳、可可飲品等，姐姐有一天有感而發說，要不是□□□發現新大陸後，有新物種引進，就沒有這些你喜歡的東西了。請問：上述缺空處內應填入下列何者？  
(A) 麥哲倫 (B) 哥倫布 (C) 達伽馬 (D) 狄亞士。

15. ( ) 16 世紀末，原本的海上霸權逐漸沒落，荷蘭、英國崛起，取代其地位。請問：原本的海上霸權位於附圖中何地？



(A) 甲 (B) 乙 (C) 丙 (D) 丁。

16. ( ) 一位學者認為：「1519~1522 年的這次海上探險，獲得許多重要成果，包括(1)證實向西航行可達東方；(2)證實地球是圓的；(3)證實美洲並非亞洲的一部分，而是獨立存在的大陸。」由上述內容推斷，此一探險行動最可能是下列何者？〔100.第二次基測〕

(A) 達伽馬抵達印度 (B) 哥倫布橫渡大西洋 (C) 鄭和航行至非洲東岸 (D) 麥哲倫船隊環繞世界。

17. ( ) 17 世紀，歐洲有一國家被譽為「海上的馬車伕」，這個國家的商船隨處可見，他們也在巴達維亞建立亞洲營運總部，成為該國在東方最主要的據點，與東亞進行瓷器、絲綢等貿易，並從東方獲得香料銷往歐洲賺取財富。請問：上述是哪個國家？  
(A) 西班牙 (B) 荷蘭 (C) 英國 (D) 葡萄牙。

18. ( ) 西班牙語成為中南美洲大多數國家的官方語言，這是受到下列哪一項歷史發展的影響？

(A) 大航海時代 (B) 蒙古西征 (C) 文藝復興 (D) 宗教改革。

19. ( ) 大航海時代，歐洲的葡萄牙最初通往東方的航路是哪一條路線？

(A) 沿非洲西岸經好望角，到達印度 (B) 由歐洲西航，橫渡大西洋，經美洲，抵達印度 (C) 由大西洋，穿越美洲南端，入太平洋到中國 (D) 沿地中海，經印度洋，抵達印度。

20. ( ) 亨利於 17 世紀初期隨著荷蘭聯合東印度公司的貨船來到亞洲，在他的行程中可能遇到下列何事？

甲、在印度擴張殖民活動； 乙、購買來自臺灣的鹿皮； 丙、與葡萄牙、英國船隻競爭；

丁、參與公司在巴達維亞營運總部的建立

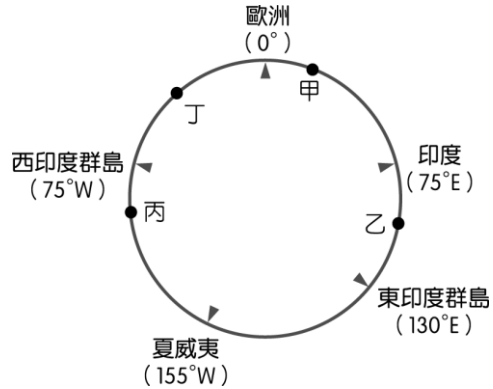
(A) 甲乙丙 (B) 甲丙丁 (C) 甲乙丁 (D) 乙丙丁。

21. ( ) 「天花、麻疹和流行性感等疾病首次隨歐洲征服者傳達至此，在第一波天花疫情中，至少半數的墨西哥與秘魯原住民病死，無力抵抗歐洲人的攻掠。征服者在這些地區『神奇的勝利』主要是病毒的勝利，所以病毒是新世界真正的征服者。」上文所述該地區原住民發生的情況，最可能與下列何者有密切關係？〔102.基測修訂〕

(A) 英國人殖民印度時導致的變動 (B) 荷蘭、葡萄牙競逐東印度群島所導致 (C) 葡萄牙派遣達伽馬海外拓展

的手段 (D)西班牙人入侵美洲時所造成的傷害。

22. ( ) 15 世紀開始，許多歐洲探險家出海探尋通往亞洲的新航路。附圖是 15 世紀~18 世紀部分歐洲探險家到達地區的示意圖，其標示方式僅依照這些地區的經度位置排列，而未考慮其緯度位置。狄亞士在 1487~1488 年的探險旅程中到達某洲的最南端，若要在圖中呈現，應標示於何處？〔107 年會考〕



(A)甲 (B)乙 (C)丙 (D)丁。

23. ( ) 泰姬瑪哈陵位於印度北方邦阿格拉，是一座用白色大理石建造的陵墓，是印度知名度最高的古蹟之一。它是蒙兀兒王朝第五代皇帝沙賈汗為了紀念他的第二任妻子興建的陵墓。這座建築也被視為蒙兀兒帝國藝術風格最精緻的代表。請問：泰姬瑪哈陵的藝術風格融合哪些文化元素？(甲)埃及(乙)伊斯蘭(丙)印度(丁)英國  
(A)甲乙 (B)甲丙 (C)甲丁 (D)乙丙。
24. ( ) 小陸撰寫有關大航海時代的報告，蒐集的資料內容如下：(甲)抵達美洲新大陸(乙)首先繞航地球一周(丙)首先開始尋找新航線(丁)發現好望角。請問：上列哪些是西班牙海外拓殖的內容？  
(A)丙丁 (B)甲丁 (C)甲乙 (D)甲丙。
25. ( ) 臺灣日治時期有米糖相剋的問題，指的是同一塊土地，種植稻米後就不能種植甘蔗。同樣，在 17 世紀的印尼也有一樣的狀況，因為統治者要求種植經濟作物，而影響當地糧食作物的生產，最後導致居民生活陷入困頓。請問：上述統治者屬於下列哪一國家？  
(A)英國 (B)西班牙 (C)葡萄牙 (D)荷蘭。
26. ( ) 2022 年卡達世足賽時，某國球員的球衣設計，是為致敬古老的阿茲提克文明，融入當時的民族藝術，球衣以白色為底，搭配暗紅色的圖騰，球衣的後內領還綴有羽蛇神的蛇身圖案。上述國家最可能是下列何者？  
(A)巴西 (B)古巴 (C)秘魯 (D)墨西哥。
27. ( ) 大航海時代，歐洲傳教士為了能順利將宗教帶進中國，大多採取何種手段輔助，以獲得當地知識分子的支持？  
(A)傳授西方繪畫技巧 (B)用香料當作小禮物 (C)鼓吹西方政治制度 (D)介紹西學。
28. ( ) 下列哪一位科學家最早使用自製的望遠鏡去觀察天體運行，並發現太陽黑子及銀河系中的眾多恆星，證實了前人的學說，而有「天文學界的哥倫布」之譽？  
(A)哥白尼 (B)伽利略 (C)笛卡兒 (D)牛頓。
29. ( ) 19 世紀時法國文豪雨果創作出小說《悲慘世界》，裡面充滿著革命、主權在民、浪漫主義的氛圍。請問：雨果這部作品應該受到何種思潮的影響？  
(A)文藝復興 (B)科學革命 (C)啟蒙運動 (D)哥白尼革命。
30. ( ) 人生的最高價值不在於生存的長短，而在於對「大我」，即世界與社會的有益奉獻。下列的典型事蹟與人物的配對，正確的為何？(甲)批評政府與天主教教會，並強調言論自由(乙)主張生命、自由與財產是不可剝奪的「天賦人權」(丙)提出行政、立法、司法三權分立，彼此制衡，以免造成專制(丁)主張「主權在民」，強調普遍意志  
(A)伏爾泰、洛克、孟德斯鳩、盧梭 (B)洛克、伏爾泰、盧梭、孟德斯鳩 (C)盧梭、孟德斯鳩、伏爾泰、洛克 (D)孟德斯鳩、洛克、伏爾泰、盧梭。
31. ( ) 西元 16 世紀，曾經有一位科學家提出「太陽為宇宙中心」的觀點，說明地球並非宇宙的中心。請問：此科學家是下列何人？  
(A)哥白尼 (B)笛卡兒 (C)伽利略 (D)牛頓。
32. ( ) 工業革命後貧富懸殊、階級對立的現象，乃造成社會主義的興起。請問：下列何人提倡公有財產，該主張又被稱為共產主義？  
(A)馬克思 (B)瓦特 (C)伏爾泰 (D)盧梭。
33. ( ) 英國之所以是工業革命的發源地，是因為它擁有下列哪一條件？  
(A)最早向海外進行殖民運動 (B)棉紡織工業具有優良傳統 (C)政治安定、煤礦蘊產豐富 (D)人口眾多，勞力充足。
34. ( ) 《百科全書》是一本知識匯集的辭典。1751 年，法國某思想家邀集百餘位學者合編《百科全書》，開啟日後百科全書類著作的風氣。這位邀集學者合編《百科全書》的思想家是下列何人？  
(A)狄德羅 (B)伏爾泰 (C)孟德斯鳩 (D)亞當斯密。
35. ( ) 啟蒙運動思想家盧梭的《民約論》中，有何重要的、具原創性的主張？  
(A)約束人類本性的最佳辦法，就是建立一個具有絕對權威的政府來控制他們 (B)政府必須在人民的同意之下，才能干涉人民的基本權利 (C)主張國家或政府的權力，應分為行政、立法、司法三個互相獨立又互相牽制的部分，自由的維持是靠這三個權力的均衡 (D)政府的權力是來自人民的委託。
36. ( ) 針對工業革命後所造成的勞工被剝削問題，這群人認為應該要透過溫和的改革來推動改良，他們主張要建立互助互愛的社會服務，督促政府立法保障勞工，甚至最後這群人組成著名的英國工黨監督政府改革。請問：上述這群人的思想應該與下列何者較為接近？  
(A)社會主義 (B)啟蒙思想 (C)科學革命 (D)自由經濟。

37. ( ) 老師引用附圖來講述某位科學家的理論。請問：老師是在介紹何人？



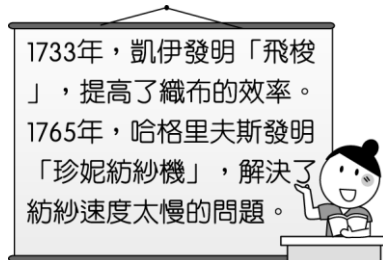
(A) 培根 (B) 洛克 (C) 伏爾泰 (D) 笛卡兒。

**二、題組題：四大題，每小題 2 分，共計 16 分。**

1. 下列是嘉琪在網路上搜尋的資料，請問：

「馬丘比丘」是印加文明的遺址，是印加帝國的統治者在 15 世紀建造，此遺址高聳在海拔 2430 公尺的山脊上，由於獨特的位置和發現時間較晚，馬丘比丘成了印加帝國最為人熟悉的標誌，它通常被稱為「印加失落之城」。

- ( ) (38) 若要尋訪文中遺址應前往何處？ (A) 墨西哥 (B) 古巴 (C) 秘魯 (D) 巴西。  
 ( ) (39) 文中文明的消失與哪一國家的入侵有關？ (A) 荷蘭 (B) 英國 (C) 葡萄牙 (D) 西班牙。  
 2. 2020 年開始受到新冠肺炎影響，全球經濟衰退。美國為因應此種狀況，2021 年 3 月政府開始大量印鈔。有些經濟學者批評美國政府的做法無法挽救新冠肺炎造成的傷害，反而會讓經濟陷入更大危機，應該放任經濟自由發展，不該過度干預。請問：  
 ( ) (40) 文中提到的經濟學者較支持何人經濟學說？ (A) 洛克 (B) 亞當斯密 (C) 孟德斯鳩 (D) 狄德羅。  
 ( ) (41) 畫線部分最早出現在何時？ (A) 中世紀時期 (B) 文藝復興 (C) 科學革命 (D) 啟蒙運動。  
 3. 附圖是老師上課時提到的內容。請問：



- ( ) (42) 根據圖中內容可知，老師上課的主題應是下列何者？ (A) 工業革命 (B) 科學革命 (C) 啟蒙運動 (D) 海外探險。  
 ( ) (43) 上述的兩位發明者，最有可能來自哪個國家？ (A) 法國 (B) 英國 (C) 德國 (D) 美國。  
 4. 法國因為政治較為自由並獎勵學術，因此成為啟蒙運動的重鎮。在法國有一位學者，他反對君主制度，提倡自然神論，批判天主教教會，主張言論自由。請問：  
 ( ) (44) 文中這位學者是下列何者？ (A) 孟德斯鳩 (B) 盧梭 (C) 洛克 (D) 伏爾泰。  
 ( ) (45) 這位學者所提的學說影響了下列何者？ (A) 理性主義 (B) 科學革命 (C) 人文主義 (D) 美國獨立。

**三、配合題：三大題，每小題 1 分，共計 10 分。**

1. 15 世紀以來，歐洲人開始向海外發展，甚至透過新航路與新大陸的發現，帶動遠洋貿易的興起，並且促進海權時代的來臨。關於上述的時代背景與發展現狀，試根據下列各項敘述，從以下選項中挑選最適合的答案（請寫代號）：

(A) 英國 (B) 荷蘭 (C) 葡萄牙 (D) 西班牙

- ( ) (46) 西元 15 世紀末期，伊比利半島上的兩國在海外競爭激烈，是哪國發現了新大陸？  
 ( ) (47) 「某國航海家狄亞士，首先到達非洲好望角，至此眾人更加相信，繞過好望角繼續前進，終會到達印度。」據上述判斷，狄亞士是何國的航海家？  
 ( ) (48) 印尼的巴達維亞，是哪國的商業據點？

2. 以下是啟蒙運動著名的思想家，請將思想家與其主張配對：

(A) 天賦人權 (B) 三權分立 (C) 主權在民

(49) 洛克 → 【 ? 】 (50) 孟德斯鳩 → 【 ? 】 (51) 盧梭 → 【 ? 】

3. 重要科學家與學說配對：

(A) 演繹法 (B) 三大運動定律  
(C) 歸納法 (D) 太陽為宇宙中心

(52) 培根 → 【 ? 】 (53) 笛卡兒 → 【 ? 】 (54) 牛頓 → 【 ? 】 (55) 哥白尼 → 【 ? 】



~挫折就像生命的鹽，把人生的這盤菜炒得更有滋味。~