

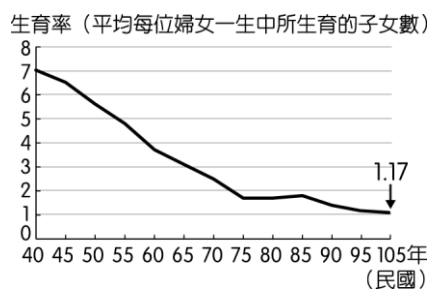
基隆市立中山高級中學 113 學年度第二學期第一次段考

國中部一年級地理科題目卷

班級： 年 班 座號： 姓名：

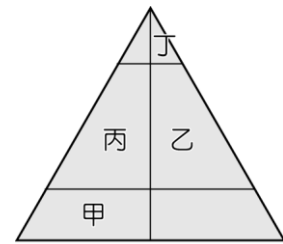
一、單題（每題 2 分，共 80 分）

- () 以下哪一項因素是臺北市能吸引外來人口移入居住的拉力？
(A)地價低廉 (B)生活悠閒 (C)就業機會多 (D)空氣品質佳。
- () 通常判別人口組成時，習慣將哪一個年齡結構的人口稱為「人力資源」？
(A)0~14 歲 (B)15~64 歲 (C)65 歲以上 (D)0~14 歲，65 歲以上。
- () 根據蘭嶼達悟族口述歷史，祖先數百年前划著大型拼板舟從菲律賓巴丹群島遷徙至蘭嶼島，這幾年達悟族人積極尋根，探查祖先的貿易航線，兩島的語言相似度高達 60%，還有許多相同的文化。請問：蘭嶼與巴丹群島的居民是屬於下列哪一民族的人民？
(A)漢族 (B)南島語族 (C)拉丁民族 (D)印第安族。
- () 目前臺灣新住民數量漸多，除中國大陸外，其中大多來自哪一國家？
(A)泰國 (B)越南 (C)日本 (D)馬來西亞。
- () 影響人口數量變化的因素有出生、死亡、移入、移出，其中哪兩項因素會造成一地人口數量的增加？
(A)出生、移出 (B)死亡、移入 (C)出生、移入 (D)死亡、移出。
- () 臺灣近年來人口增加速度相當緩慢，未來將面臨勞力不足的問題，值得大家重視。請問：導致此種現象的最主要原因為何？
(A)死亡率提高 (B)移出率增加 (C)出生率降低 (D)移入率降低。
- () Mary 從美國嫁到臺灣，並在臺灣定居下來。請問：她的遷移是屬於下列哪一種？
(A)國際永久性遷移 (B)國內永久性遷移 (C)國際暫時性遷移 (D)國內暫時性遷移。
- () 我們若要分析一地每個有工作能力的人須扶養多少人口，最需要當地的哪一項人口組成特徵？
(A)性別組成 (B)年齡組成 (C)職業組成 (D)族群組成。
- () 人口移動可以分成「拉力」和「推力」兩種。下列哪一項因素是促使東南亞民眾願意遠離家鄉來到臺灣的「拉力」？
(A)經濟發達 (B)礦產豐富 (C)平原廣大 (D)氣候優良。
- () 附圖為臺灣 60 多年來生育率統計圖。請問：若這種低生育率現象再持續下去，則臺灣將會出現怎樣的人口問題？



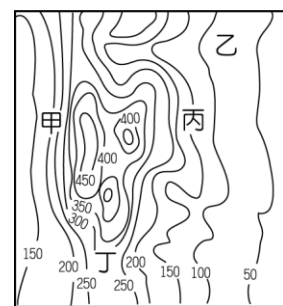
- (A)教育資源減少 (B)扶養負擔減輕
(C)人力資源短缺 (D)就業機會增加。

- () 一般而言，臺灣人口密度較高的地區和人口密度較低的地區各有不同特色，其中高密度地區主要出現的特色中不包括下列何項？
(A)地形較平坦 (B)緯度位置低 (C)工商業繁榮 (D)交通較便利。
- () 人口依年齡結構分為三個組別，而臺灣現在正值國一的女學生，在人口年齡的組別上應屬於下列何者？
(A)幼年人口 (B)壯年人口 (C)老年人口 (D)以上皆非。
- () 近年來桃園和臺中的人口增加率極高，帶來了充足的勞動力和消費市場，有利於該地區的發展。這兩個地區的人口增加和下列何者關係最大？
(A)移出人口較少 (B)移入人口眾多 (C)出生率快速增加 (D)死亡率逐年降低。
- () 根據移民署於 2019 年的統計報告顯示，目前全臺新住民人口有 55 萬人，其中以中國來臺的配偶最多，其次為東南亞國家。早年多以「中國新娘」、「越南新娘」來稱呼，後來改以「新住民」統稱這些遠渡重洋來臺結婚的女性外籍人士。若根據上文敘述判斷，這些新住民將直接影響附圖中的哪一個部分？



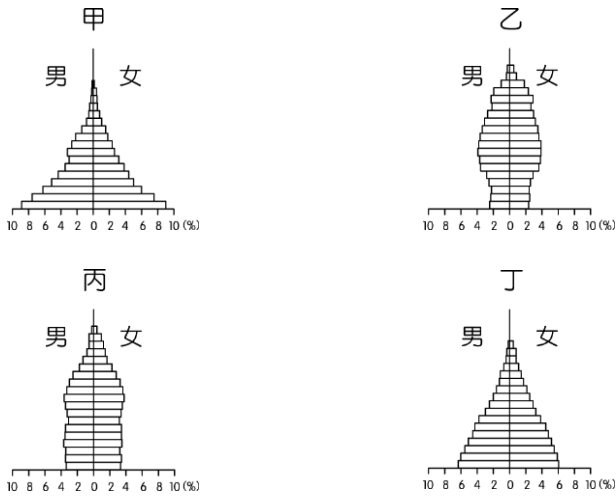
▲人口金字塔圖

- (A)甲 (B)乙 (C)丙 (D)丁。
- () 曉明在地理課中學到某項人口數據的計算公式： $(\text{該年出生人數} - \text{該年死亡人數}) / \text{該年人口總數} \times 1000 \%$ 。根據資料判斷，這是下列哪一種人口數據的計算公式？
(A)人口出生率 (B)社會增加率 (C)人口死亡率 (D)自然增加率。
 - () 臺北市的人口密度為 9,918 人/平方公里，高居全臺之冠，周邊的新北市及桃園、新竹也名列前茅，而臺東縣僅 63 人/平方公里，為全臺之末。請問：影響上述人口分布的主要因素最可能為下列何者？
(A)行政區域調整 (B)自然環境優劣 (C)人口出生多寡 (D)就業機會數量。
 - () 鄉村地區多以農業為生，因此人口分布多受到自然環境的影響為主，由此可推測附圖中何處人口密度應最高？



- (A)甲 (B)乙 (C)丙 (D)丁。

18. () 我國為針對未來的人口問題提出新制育兒政策，其內容包括了0至4歲幼兒每月育兒津貼在2019年為2,500元、送公托每月補助3,000元、送到準公共化的私托與私人保姆每月補助6,000元、全國2至5歲幼兒就讀公幼免學費等。請問：上述政策在下列何種人口結構中最常見到？



(A)甲 (B)乙 (C)丙 (D)丁。

19. () 臺灣本島四面環海，因此數百年的發展歷史階段，有許多不同族群曾經來臺並在此定居，形成今日多元文化的特色。請問：我們在臺灣參觀這些來臺族群的文化特色時，其發源地不包括下列何處？

(A)北美洲 (B)歐洲 (C)日本 (D)東南亞。

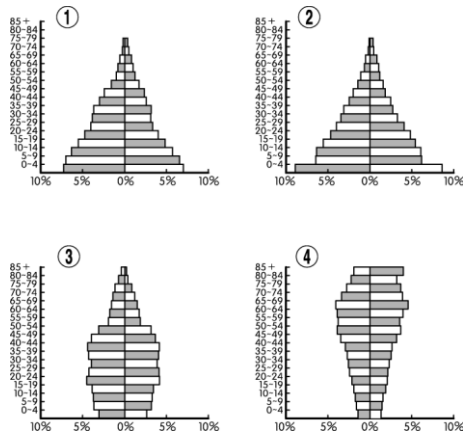
20. () 北部某鄉鎮受到產業發展條件的改變，該地區的社會增加率呈現負值。請問：這表示該地區出現何種情況？

(A)出生人口小於死亡人口 (B)出生人口小於移出口 (C)移入口少於移出口 (D)移出口少於死亡人口。

21. () 每天早上王先生(45歲)出外上班，王太太(43歲)便在家中整理家務。兒子大寶已經23歲，而女兒小孟才11歲，因此對於子女的教養兩夫妻相當重視。家中尚有王老先生(70歲)同住，是典型三代同堂的家庭。請問：就人口結構而言，上文中的受扶養人口共有幾位？

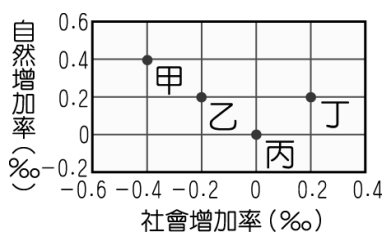
(A)一位 (B)二位 (C)三位 (D)四位。

22. () 附圖為快樂國在四個不同時期的人口金字塔結構變化，請依其變化趨勢加以判斷，下列何者敘述最為正確？



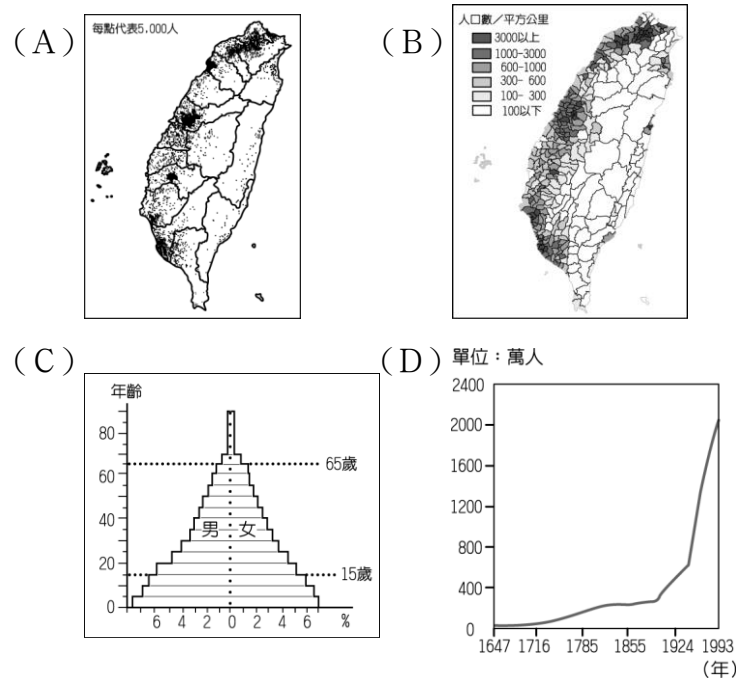
(A)人口數逐年減少 (B)性別比逐漸增加 (C)幼年人口數增加 (D)扶養比逐年增加。

23. () 附圖為2017年幸福國四大區域的人口增加率資料，該年哪個區域的人口呈現增加的趨勢？



(A)甲 (B)乙 (C)丙 (D)丁。

24. () 臺灣歷年來的人口成長變化狀況，最適合用下列哪一個圖形來說明？



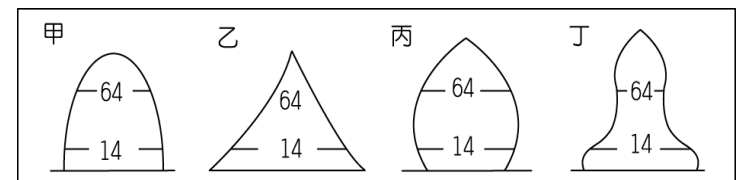
25. () 位於亞洲的香格里拉國近年來社會增加率逐漸下降。請問：影響該國社會增加率降低的原因可能有哪些？(甲)民主自由(乙)就業率低(丙)交通便利(丁)治安不好(戊)社會亂象

(A)甲丙丁 (B)乙丁戊 (C)乙丙丁(D)甲丙戊。

26. () 人口金字塔圖呈現一地區人口結構的特色。下列有關該圖繪製方法的敘述，何者出現錯誤？

(A)橫座標代表人口比例 (B)縱座標代表年齡級距 (C)橫座標左半代表女性，右半代表男性 (D)以5歲為一年齡級距。

27. () 人口金字塔可以看出一個地區的人口結構特色。請問：下列四個地方的人口結構中，哪一個地方的人口結構可能顯示出人口大量外流到國外工作的情況？



(A)甲 (B)乙 (C)丙 (D)丁。

28. () 近幾年來，臺灣各地安養中心及護理之家如雨後春筍般設立，這種現象與下列哪一項原因最不相關？

(A)人口結構轉變 (B)生育率持續下降 (C)老年人口增加 (D)人口分布不均。

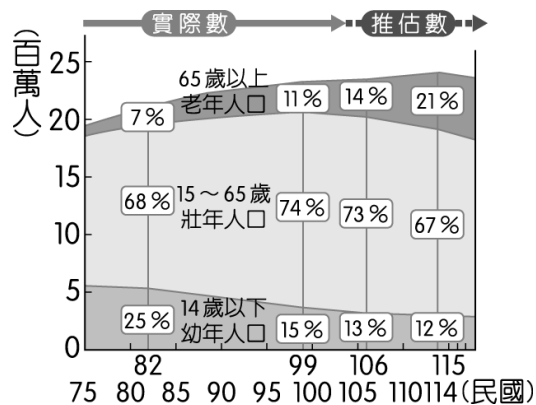
29. () 臺灣的人口分布不均，其中西部地區人口較東部密集。請問：影響上述人口分布的主要因素包括下列哪些？(甲)東部受板塊擠壓影響，地勢起伏較大 (乙)西部降水時間較東部長，因此有利於灌溉農業 (丙)西部多河川流貫，汲取水源較為便利(丁)西部海岸鄰太平洋，有利渡海登陸發展

(A)甲乙 (B)丙丁 (C)乙丁 (D)甲丙。

30. () 一國的老年人口和幼年人口所占比例皆低，則表示該國具有哪一種人口現象？

(A)出生率高、死亡率低 (B)具生產能力的勞動人口較多 (C)人口密度較高 (D)自然增加率較高。

31. () 附圖為臺灣各年齡層的歷年組成比例及推估圖。根據臺灣人口的變化趨勢判斷，未來臺灣哪一科的醫生最有可能因就診人數減少而產生危機？



- (A) 婦產科 (B) 肝膽科 (C) 精神科 (D) 耳鼻喉科。

32. () 附表四個城市中，何者有社會增加的現象？

城市	甲	乙	丙	丁
出生率(‰)	14	16	37	46
死亡率(‰)	12	7	19	20
人口增加率(‰)	2	11	16	20

- (A) 甲 (B) 乙 (C) 丙 (D) 丁。

33. () 台積電於高雄設廠興建，2024年12月至隔年1月約有1,500名員工陸續進駐，此數字不包含上下游產業，未來預期帶動產業鏈的就業人口數達8倍以上。根據上文，台積電設廠一事有助刺激高雄下列何項人口要素？

- (A) 出生 (B) 死亡 (C) 遷入 (D) 遷出。

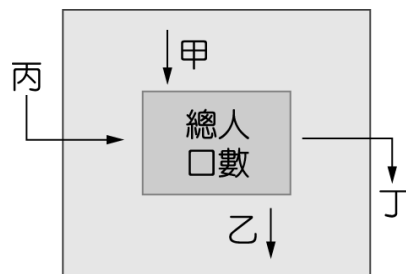
34. () 教育部106年至113年已累計增設1,078班2歲專班，預計113年至115年會再增設200班，盼打造更友善育兒環境，協助年輕一代「願婚、敢生、樂養」。目前政府積極推動育兒政策與下列哪一背景有關？

- (A) 成人紙尿布熱賣 (B) 增設低底盤公車
(C) 國中小學校減班 (D) 提供長照接送車。

35. () 多年來「臺灣有兩千三百萬人」已成政治人物常用語，不過2016年5月底，臺灣人口正式邁入2350萬人，距離2008年7月，等了近8年才成長50萬人，顯示人口成長趨緩的現象。臺灣人口成長趨緩的主因為何？

- (A) 出生率降低 (B) 死亡率提高 (C) 移入率降低 (D) 移出率提高。

36. () 附圖為影響人口成長的四個因素，如果要說明近年來臺灣新住民對人口成長的影響，下列何者正確？

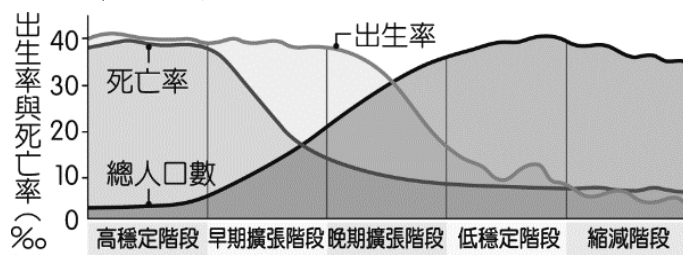


- (A) 甲數值提高 (B) 乙數值減少 (C) 丙數值提高 (D) 丁數值減少。

37. () 據報載：「2016年藉由科技控制，幸福國新生兒性別比高達111。」此項資料可以顯示下列哪一項事實？

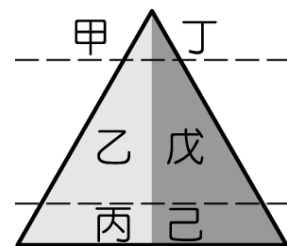
- (A) 男性新生兒數量較多 (B) 女性新生兒數量較多
(C) 男性平均壽命較長 (D) 女性平均壽命較長。

38. () 美國學者華倫·湯普森依據歐洲人口變遷經驗，於1929年提出人口轉型模式，如附圖所示。根據圖中資訊推論，臺灣在2020年之後「生不如死」的現況已進入哪一個階段？



- (A) 早期擴張階段 (B) 晚期擴張階段
(C) 低穩定階段 (D) 縮減階段。

39. () 隨著人口老化和生育率下降，中高齡者及婦女的就業問題日益受到重視。勞動部注意到該群體在勞動力市場中的貢獻，希望透過他們的就業，改善他們的生活品質，也能夠充分發揮他們在勞動力。該群體屬於附圖人口金字塔中的哪些部分？



- (A) 甲丁戊 (B) 乙丙丁 (C) 甲丙己 (D) 乙戊己。

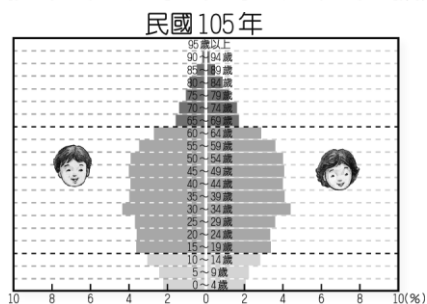
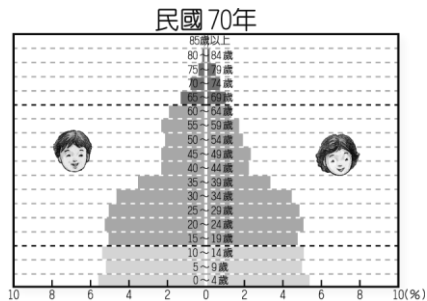
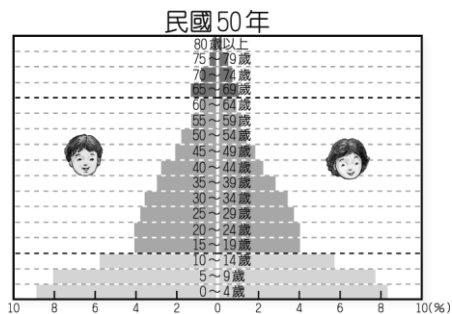
40. () 附表是2022年8月時，我國前四大國際移工來源國的部分資料。根據表中資料推論，在臺灣的多元飲食文化中，由國際移工所帶來的特色會是下列哪一項？

類別	產業移工 (營建業、製造業、漁業)	社福移工 (看護、家庭幫傭)	總人數比例	
國籍	越南	45.4%	12.7%	35.4%
	菲律賓	25.3%	12.2%	21.3%
	印尼	16.1%	74.9%	34.1%
	泰國	13.2%	0.2%	9.2%
性別	男	71.4%	0.8%	49.8%
	女	28.6%	99.2%	50.2%

- (A) 麵食種類繁多 (B) 食物以酸辣調味 (C) 竹子挖空煮飯 (D) 做漢堡三明治。

二、題組（每格2分，共20分）

1. 附圖是臺灣各時期的人口金字塔圖。請問：



- () (41) 由民國50年至105年臺灣人口結構的變化趨勢判斷，下列何者敘述最為正確？ (A) 幼年人口比率持續增加 (B) 老年人口比率持續增加 (C) 老年人口比率持續減少 (D) 壯年人口比率不變。

- () (42) 由圖中可看出，下列哪一項不是臺灣社會即將面臨的人口問題？ (A) 家庭少子化、獨子化趨勢 (B) 出生率漸低，未來壯年人口漸少 (C) 高齡化社會明顯，老人問題嚴重 (D) 人口過度膨脹，人口密度壓力大。

2. 我國的原住民族文化事業基金會於2009年成立，至今已達十年的里程碑，在大家的努力下，規模不斷茁壯擴大，目前已成立「原住民族電視臺」、「Alian 96.3 原住民族廣播電臺」和「原視界」等，涵蓋電視、廣播和書報雜誌等多種媒體，為保存其文化特色做出巨大的貢獻。請問：

- () (43) 我國由於族群眾多，因此各種不同文化於此匯集，形成多元文化的特色。根據內政部的統計資料顯示，各縣市原住民族人口以○○縣9萬2千人占16.7%最多，其次為臺東縣7萬9千人占14.3%。桃園市第三，為7萬人占12.6%居第三。請問：上文中○○縣最可能為下列何者？ (A) 嘉義縣 (B) 苗栗縣 (C) 彰化縣 (D) 花蓮縣。

- () (44) 文化的傳播除了影音媒體外，還包括了語言與文字。若依我國的原住民族主要的溝通語言判斷，被歸納為南島語族。附圖為該語族的分布地區圖。請問：主要位於哪些海域之中？

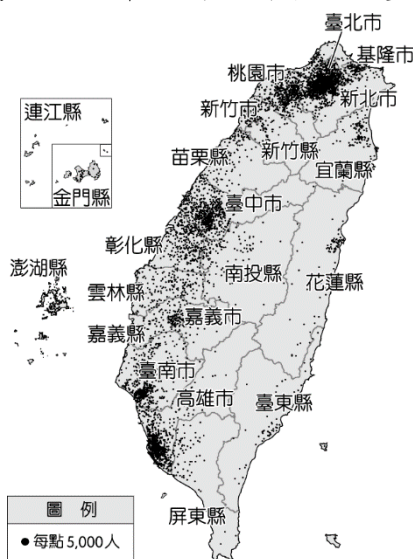


- (A) 太平洋、大西洋 (B) 太平洋、印度洋 (C) 大西洋、印度洋 (D) 北極海、太平洋。

3. 人口結構為政府擬定發展政策的重要參考指標，影響著國家未來的走向。請問：

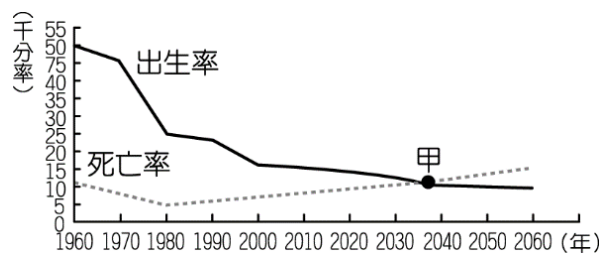
- () (45) 勞動部已正式通過「有薪照護假」，希望在颱風天放假時，家中停課的小孩得以有人照護。近年來相關政策不斷推出，如幼教免費、安親輔育等，這些都和下列何種人口問題有關？ (A) 新住民眾多，協助融入社會 (B) 人口總數降低，增加人口拉力 (C) 出生率創新低，鼓勵婦女育兒 (D) 人口集中都市，擴大城鄉差距。
- () (46) 根據政府的統計資料，臺灣將在2033年超越日本，老化指數將居全球之首，成為全世界最老的國家。請問：臺灣老年人口比例快速攀升，和下列何者關係最大？ (A) 總人口數大量增加 (B) 壯年人口大量移居海外 (C) 死亡率急劇降低 (D) 新生兒出生率下降。

4. 附圖為臺灣人口分布點圖，圖中顯示臺灣人口分布不均。



- () (47) 由圖中可知，東部人口較西部稀少，此一現象的形成與下列哪一項因素關係最密切？ (A) 地形 (B) 氣候 (C) 土壤 (D) 水文。
- () (48) 由圖中可知，西部以臺北、臺中和高雄的點較多，此一現象和下列哪項因素較相關？ (A) 自然環境 (B) 灌溉不便 (C) 經濟活動 (D) 政府政策。

5. 附圖為某國的人口成長預測圖。



- () (49) 依圖中變化趨勢來看，大約在何時自然增加率最高？ (A) 1960年 (B) 1980年 (C) 2030年 (D) 2060年。
- () (50) 若不考慮社會增加率的影響，在圖中甲點之後，該國人口將會出現何種變化？ (A) 扶養比下降 (B) 人口呈現負成長 (C) 人口性別比失衡 (D) 人口轉為低金字塔圖結構。