

基隆市立中山高級中學 113 學年度第二學期第一次段考

國中部二年級地理科題目卷

班級： 年 班 座號： 姓名：

一、選題：(每題 2 分，共 84 分)

#全部試題都有一個最適合的答案，請將正確答案劃在答案卡上。

1. () 印度半島的塔爾沙漠，因位於季風路徑的末端，水氣不足，再加上副熱帶高氣壓的影響，因此為自然條件惡劣的乾燥氣候。請問：塔爾沙漠的分布位置以附圖中哪一個地區為主？



- (A) 甲
(B) 乙
(C) 丙
(D) 丁。

2. () 印度半島南端的馬爾地夫群島為著名的度假勝地，該地區最可能為下列何種性質的島群？

- (A) 珊瑚礁島 (B) 大陸島
(C) 陸連島 (D) 火山島。

3. () 附表為四個地區的年降水量及氣溫資料表，哪一地區較可能是熱帶季風氣候？

地區	年降水量 (mm)	一月月均溫 (°C)	七月月均溫 (°C)
甲	19	-8.1	33.2
乙	483	19.2	25.4
丙	1,223	3.5	28.8
丁	2,290	20.4	28.0

- (A) 甲 (B) 乙 (C) 丙 (D) 丁。

4. () 全球觀光市場成熟發展，泰國過去 50 多年來以文化與天然資源優勢，在國際市場中逐步晉升為觀光大國，一年的觀光產值就高達國內生產毛額的一成。請問：泰國在哪一個時期由於氣候溫和，加上晴朗少雨，因此成為旅遊旺季？

- (A) 3 月~4 月 (B) 6 月~7 月
(C) 9 月~10 月 (D) 12 月~1 月。

5. () 東南亞依其位置不同，主要分為下列哪兩個地形區？

- (A) 中南半島、朝鮮半島 (B) 朝鮮半島、琉球群島
(C) 中南半島、南洋群島 (D) 印度半島、南洋群島。

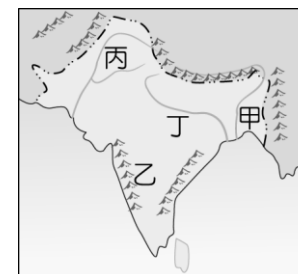
6. () 為強化本區競爭力，東南亞國家透過結盟成立哪一個經濟組織，加強區域經濟合作與發展？

- (A) 世界貿易組織 (B) 東南亞國家協會
(C) 北美自由貿易協定 (D) 亞太經濟合作會議。

7. () 2021 年印尼知名叫車服務應用軟體 Gojek 宣布與電商平臺 Tokopedia 合併為「Goto」，以利擴展服務項目與市場。近年東南亞國家的數位產品與服務、電子商務品牌漸增，與下列何項因素有關？

- (A) 科技產業發達 (B) 潛在市場龐大
(C) 公共建設完善 (D) 移民遷入者多。

8. () 印度在西元 4000 年前即開始利用作物編織成紡織品，並在中世紀之前即出口相關產品到埃及，隨後更透過中國古代的絲路銷往西方國家。根據該國紡織部資料統計，其紡織工業為世界第 2 大國，總共雇用超過 3,500 萬人，生產值占國民生產毛額 4%，同時占該國出口值的 11%，相當可觀，目前已是世界排名第 3 麻類生產國。上述提到的作物主要生產區域為附圖中何處？



- (A) 甲 (B) 乙 (C) 丙 (D) 丁。

9. () 「拉赫曼生長的地方有許多伊斯蘭教徒，他的父母以租田地種植水稻維生，但因為常鬧水災，農作收成很不穩定，家中十口人常常三餐不繼。為了生活拉赫曼和幾個較大的弟妹，八歲不到就和同村其他小孩到都市的黃麻紡織廠打工，貼補家用。」上述拉赫曼的故鄉最可能位於下列哪一國家境內？

- (A) 不丹 (B) 孟加拉 (C) 馬爾地夫 (D) 巴基斯坦。

10. () 為了供應經濟發展所需要的電力，中國政府在西南縱谷區的怒江上興建大壩，此舉引起許多環境學者及河川下游地區國家的高度重視，因為大壩興建除了會改變中國境內的生態環境外，也會影響到下游哪一半島上國家的居民用水和生態環境？

- (A) 中南半島 (B) 印度半島
(C) 朝鮮半島 (D) 阿拉伯半島。

11. () 根據統計，印尼的海岸線長度排名世界第二位，比俄羅斯還長，其原因最可能為下列何者？

- (A) 峽灣海岸曲折 (B) 島嶼數量眾多
(C) 國土面積較大 (D) 所處緯度較低。

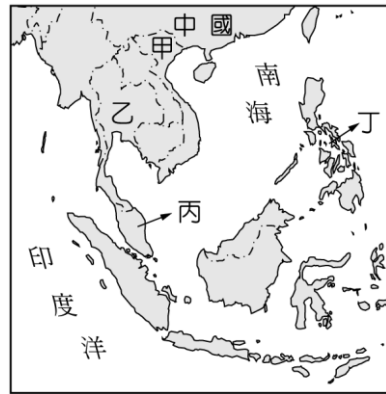
12. () 印度半島在其悠久的歷史發展過程中，似乎總蒙上一層神祕的面紗。美國著名的作家馬克吐溫在 19 世紀末期到該處旅行，不禁嘆道：「印度，是奇觀之國。」而該地區的中部大平原更是孕育出豐富多變的文化。請問：印度半島上的中部大平原，主要是由下列哪一種作用所造成？

- (A) 斷層陷落 (B) 風力侵蝕
(C) 河川沖積 (D) 板塊擠壓。

13. () 南亞的印度屬於熱帶濕潤氣候區，當地的氣候特性受到風向的轉換而有不同，其中以下列哪一個季節的氣候最為舒適宜人，成為最佳的旅遊時節？

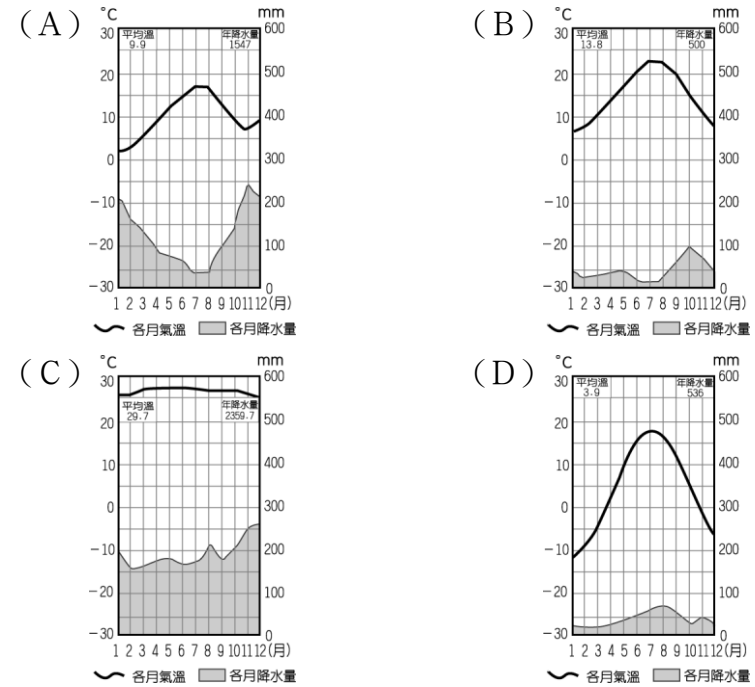
- (A) 熱季 (B) 雨季 (C) 乾季 (D) 涼季。

14. () 東南亞的氣候依其地理位置的不同，主要分為下列哪兩種氣候類型？
 (甲)熱帶雨林氣候(乙)熱帶莽原氣候(丙)熱帶季風氣候(丁)熱帶沙漠氣候
 (A)甲乙 (B)甲丙 (C)乙丁 (D)丙丁。
15. () 印度哪一個都市因為軟體工業相當發達，因此被稱為「印度矽谷」？
 (A)孟買 (B)新德里
 (C)邦加羅爾 (D)加爾各答。
16. () 小芳利用中秋連假到某國家旅行，她到了該國最大的都市，此都市位於湄公河三角洲東北方，都市名稱取自該國建國領導人的名字。請問：她是到附圖中哪一個國家旅行？



- (A)甲 (B)乙 (C)丙 (D)丁。
17. () 小明觀察中南半島的山河分布，發現當地地形的分布特色和中國哪一個地形區最為相近？
 (A)東南丘陵 (B)橫斷山脈
 (C)塔里木盆地 (D)四川盆地。
18. () 印度半島的冬季因為哪一座山脈的阻擋，寒冷氣流無法入侵，因此氣候涼爽，成為當地最佳的季節？
 (A)東高止山 (B)西高止山
 (C)岡底斯山 (D)喜馬拉雅山。
19. () 根據聯合國統計，印度約有 40% 的人口生活於貧窮之中，出生率高無法提供良好的教育及照顧，環境衛生不佳，導致疾病叢生，死亡率甚高。請問：導致此一現象的根本原因為下列何者？
 (A)乾旱嚴重 (B)河川汙染
 (C)國界紛爭 (D)人口過多。
20. () 中南半島內部東西交通往來極不便利，最主要是受到下列何者影響？
 (A)地形阻隔 (B)氣候多變
 (C)地質鬆散 (D)海洋隔離。
21. () 季風氣候區內，降水量對當地的農業活動影響甚大，在降水充沛的地區可以從事水田稻米的耕種，而形成人口聚集的聚落。請問：位於南亞的印度大平原地區，其降水受到季風行經路徑的影響，各地降水分布主要為何？
 (A)由東向西漸少 (B)由西向東漸少
 (C)由南向北漸少 (D)由北向南漸少。

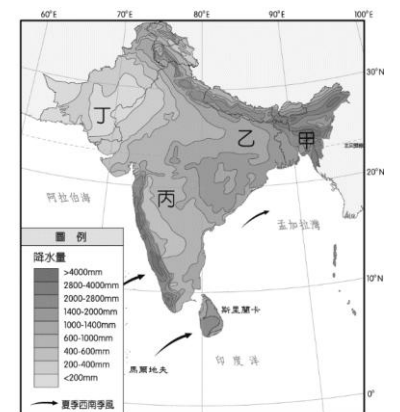
22. () 橡膠、咖啡為東南亞各國重要的出口產品，就其生長條件而言，主要生長的氣候類型應為下列何者？



23. () 南亞地區為供應大量的糧食需求，將乾燥地區開發為農地，但過度灌溉導致土地鹽鹼化，該現象最可能發生在附表中何處？


地區	甲	乙	丙	丁
最冷月均溫	19.5°C	12.7°C	13.9°C	20.1°C
最暖月均溫	31.3°C	21.9°C	33.6°C	30.0°C
年降水量	168 mm	11,777 mm	700 mm	1,800 mm

- (A)甲 (B)乙 (C)丙 (D)丁。
24. () 錫蘭與印度的大吉嶺、阿薩姆為世界三大紅茶，這些地區之所以能成為著名的紅茶產區，除了殖民時期的推廣之外，還與該地區的何種地理環境有關？
 (A)擁有相當肥沃的土壤 (B)丘陵地形且居迎風面
 (C)暖流經過附近的海域 (D)雨林分布面積較廣大。
25. () 新加坡為東南亞經濟最發達的國家，下列有關新加坡的敘述，何者正確？
 (A)地處內陸 (B)港埠型都市
 (C)礦產產區 (D)農業地區。
26. () 印度為傳統大河文明的發源地，當地的農業發展及人口分布受到自然條件的影響相當明顯，因此形成各地的區域特色。附圖為印度半島的年降水量分布圖，其中哪一個地區的降水量較多？
 (A)甲
 (B)乙
 (C)丙
 (D)丁。



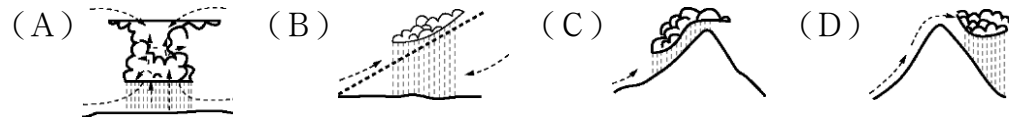
27. () 印度高科技人才有何優點，吸引歐美國家前來投資，成為跨國企業重要據點之一？ (A) 薪資較低、講英語 (B) 薪資較低、講印度語 (C) 技術優良、講印度語 (D) 個性溫和、講英語。

28. () 小瑜是來自東南亞的國際移工，她是非常虔誠的信徒，在外購買的食物或是餐廳都會選擇有如附圖的認證標章，以避免違反教義。根據上述，家家最可能來自下列哪個國家？
(A) 印尼 (B) 緬甸 (C) 越南 (D) 泰國

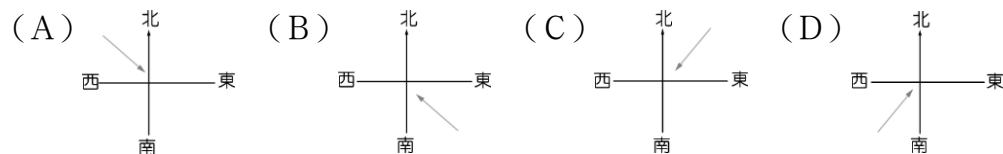


29. () 小平從中國移民至中南半島，若他想從事水稻農業的耕作，最適合前往何處開墾？ (A) 北部山區 (B) 中部河谷 (C) 下游三角洲 (D) 山間谷地。
30. () 在高聳入雲的喜馬拉雅山下，靜靜的橫躺著橫貫千里的大平原，蜿蜒漫長的河流敘述著悠久宏大的古文明。印度半島的印度大平原主要由於來自於聖山的河川所堆積而成，土壤肥沃。請問：該地區主要是由印度河和下列哪一條河川所堆積而成的？ (A) 恆河 (B) 尼羅河 (C) 昭披耶河 (D) 湄公河。
31. () 「南亞的某地形區是古老的陸塊，蘊藏豐富的煤、錫、錳、鐵、石油等礦產，是帶動近年來印度經濟發展的重要因素之一。」上文所述是哪一地形區？ (A) 馬爾地夫 (B) 印度大平原 (C) 德干高原 (D) 喜馬拉雅山。


32. () 東印度群島有一句氣候諺語：「夜間是熱帶的冬天」。請問：該地主要的降水類型為何？



33. () 印度半島的氣候特色受到地形起伏及季風風向的影響，形成不同的季節特性。請問：老王若於今年7月前往該地區旅行，最可能會遇見下列哪一種氣候特色？ (A) 強風沙塵 (B) 午後暴雨 (C) 秋高氣爽 (D) 酷寒乾燥。
34. () 印度半島的地形區可分為：(甲)喜馬拉雅山(乙)德干高原(丙)印度大平原。若由北向南排列，其正確順序為何？ (A) 甲乙丙 (B) 甲丙乙 (C) 乙甲丙 (D) 丙乙甲。
35. () 日前馬爾地夫一家航空公司，因為飛行路線需要「逆風飛行」，使油量增加，為減輕重量而將原定的45名乘客丟包在機場。上述旅遊糾紛的發生時間為夏季，因此當時機長逆風飛行時，其盛行風向為何？

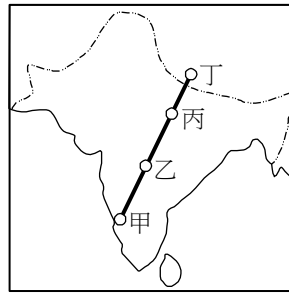


36. () 附圖中甲為東南亞某大國的主要生產作物，關於其生產型態或特色的說明，下列何者最正確？
(A) 甲作物為橡膠，屬熱帶栽培業作物
(B) 此種作物適合在溼冷的氣候種植，並由殖民母國投資發展
(C) 生產型態通常為大規模種植單一作物，市場風險性小
(D) 通常利用機械化模式生產，削減人事成本。



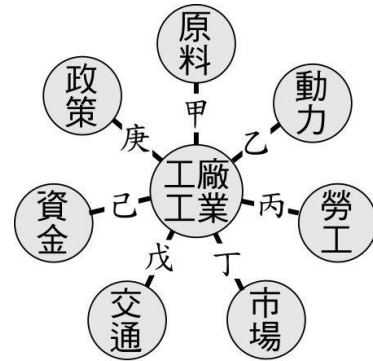
37. () 印度與巴基斯坦在邊境問題上時有摩擦，除了領土關係之外，兩國之間還有許多觀念與立場的衝突，其中宗教信仰也是衝突原因之一。印巴兩國主要的信仰配對，何者正確？
(A) 印：印度教，巴：佛教 (B) 印：伊斯蘭教，巴：印度教
(C) 印：印度教，巴：伊斯蘭教 (D) 印：天主教，巴：伊斯蘭教。
38. () 庭佑安排了一場印度遊，他從印度首都新德里機場出來後打算沿著恆河一路向東旅行，終點設定在恆河下游的加爾各答，旅遊過程中，庭佑注意到沿路農田的作物隨著旅程發生變化。庭佑看到印度主要農作物的順序可能為何？
(A) 黃麻→稻米→小麥 (B) 小麥→黃麻→茶葉
(C) 小麥→稻米→黃麻 (D) 小麥→茶葉→稻米。
39. () 新聞報導：「尼泊爾發生規模7.9地震。地震發生時，首都加德滿都震感強烈，一些房屋被毀，近千人喪生，大量人受傷，還有許多人被埋在瓦礫下。」上述地震的發生與下列哪兩個板塊碰撞運動最相關？
(A) 歐亞板塊、菲律賓海板塊 (B) 歐亞板塊、印度澳洲版塊
(C) 印度澳洲版塊、太平洋板塊 (D) 印度澳洲版塊、菲律賓海板塊
40. () 某地理雜誌專欄：「南亞地區近來愈來愈多農村人口為擺脫水旱災或是佃農貧苦的生活，一批批湧入城市，但即使在城市中，『龍生龍』、『門當戶對』、『職業分貴賤』等舊有觀念仍然存在。」上述專欄主要呈現下列哪個問題？
(A) 法律規定促進社會進步
(B) 列強殖民影響社會發展
(C) 傳統制度影響社會觀念
(D) 天災頻繁社會觀念落後

41. () 「小丸子」的作者櫻桃子曾經說過，她最嚮往的國家是印度，並希望有朝一日能到印度人心目中的母親之河——恆河一遊。若以附圖來看，恆河的位置最有可能是下列哪個地區？



- (A) 甲
- (B) 乙
- (C) 丙
- (D) 丁

42. () 「2021 年孟加拉成衣產業的總額約為 358.1 億美元，在出口數量與金額上皆相較於 2020 年成長約 30.3%。而孟加拉成衣出口市場主要為美國與歐洲，日本、澳洲及俄羅斯、印度則成為孟加拉成衣出口的主要新興市場。」根據上述判斷，孟加拉的成衣出口市場主要受下列哪個工業區位所影響？



- (A) 甲
- (B) 乙
- (C) 丙
- (D) 己

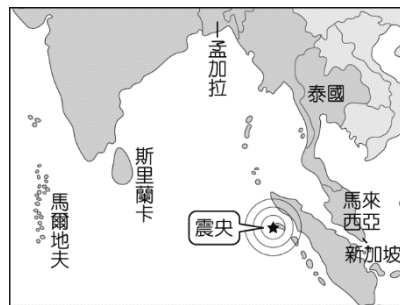
二、題組 (每格 2 分，共 16 分)

(一)、2004 年的聖誕節，來自歐美國家的遊客前往這個熱情洋溢的印尼度假，然而在隔天，卻發生了 9.2 級的超級強烈地震，其強度相當於兩萬三千顆原子彈爆炸的能量，相當驚人。除了地震災情外，所引發的海嘯造成周圍國家的嚴重災情。由於震央位於旅遊熱門景點，再加上聖誕節的旅遊旺季，聚集了大量的本地居民和遊客，因此災情極為慘重。根據統計，這次大地震災情造成了近 30 萬人的死亡。請問：

43. () 該地震發生時為當地時間 (東經 105 度) 上午 7 點 58 分 55 秒，隨即在上午 8 點 10 分左右掀起高度達 30 公尺的巨大海嘯，傷亡慘重。我國若接收到訊息進行即時新聞插播海嘯消息，則播出的時間應該為何？

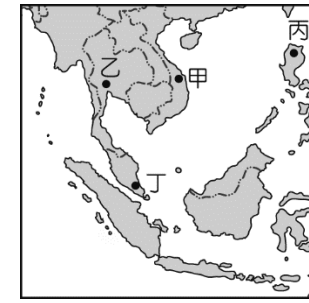
- (A) 上午 6 點 30 分 (B) 上午 7 點 30 分
- (C) 上午 8 點 30 分 (D) 上午 9 點 30 分。

44. () 該次地震發生的震央位於印尼西部，其餘震可能影響範圍國家如附圖所示。其主要災情影響區域多位於哪一個海域的周邊地區？



- (A) 印度洋 (B) 太平洋 (C) 大西洋 (D) 地中海。

(二)、東南亞國家近年來經濟發展快速，甚至部分國家被譽為是繼四小龍之後的「亞洲四小虎」。在可預見的未來，臺灣和該地區的關係將日益密切。圖(一)是東南亞地區簡圖，請問：

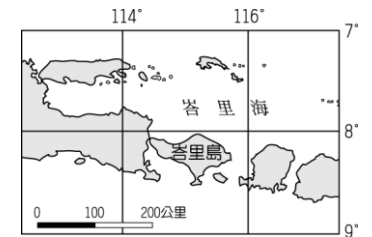


▲圖(一)

45. () 今日臺灣的外籍配偶愈來愈多，以東南亞國家而言，圖(一)中哪一個國家因為受中華文化的影響最深，和臺灣的文化隔閡相對較淺，成為國人選擇東南亞地區跨國婚姻的首選？ (A) 甲 (B) 乙 (C) 丙 (D) 丁。

46. () 東南亞國家目前以對外輸出勞工，來為國家賺進大量的外匯。圖(一)中哪一個國家受到殖民歷史的影響英語相當普及，因此許多歐美企業相當喜愛引進該國的勞工？ (A) 甲 (B) 乙 (C) 丙 (D) 丁。

47. () 觀光業被稱為是無煙囪工業，如印尼的峇里島是世界著名的度假區，為印尼賺進大量外匯，其地理位置如附圖所示。下列哪一個國家可能會因為距離峇里島最近，因此前往當地的遊客較多？



- (A) 澳洲
- (B) 美國
- (C) 西班牙
- (D) 日本。

48. () 小名暑假到泰國旅行，參觀了泰國傳統的水上市場。據說中南半島受到地形的影響，早期多以河川水運為主。當地若沿河流順流而下，其行進路線應為何？

- (A) 由南向北流 (B) 由東向西流
- (C) 由北向南流 (D) 由西向東流。

(三)、2016 年為印度半島百年來溫度最高的一年，印度熱浪更在首都新德里創下攝氏 45 度高溫，造成千餘人死亡，部分地區甚至高達攝氏 50 度，馬路上的斑馬線因而「融化」，印度氣象局預估需等到雨季來臨時，風向出現明顯的變化，才能有效降溫解除熱浪。請問：

49. () 印度的熱浪高溫讓民眾苦不堪言，依當地氣候類型推估，通常要等到幾月，高溫現象才開始逐漸舒緩？

- (A) 2 月 (B) 4 月 (C) 6 月 (D) 11 月。

50. () 印度氣象局預測需等到風向出現改變，才能有效降溫，這時改變的風向最可能為何？

- (A) 東北風 (B) 東南風 (C) 西北風 (D) 西南風。