

基隆市立中山高級中學 113 學年度第二學期第一次段考

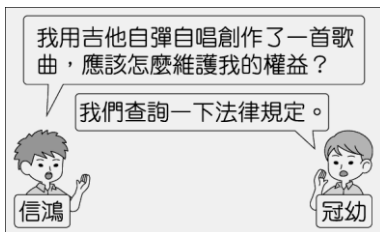
國中部三年級公民科題目卷

三年 班 座號: 姓名:

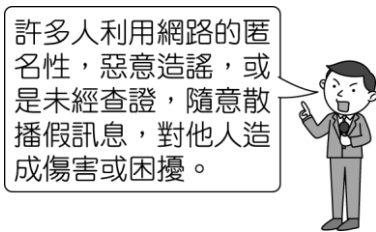
一、單選題：39 題，每題 2 分，共計 78 分。

※共有 55 題，請用 2B 鉛筆畫記於答案卡。(共 5 頁)

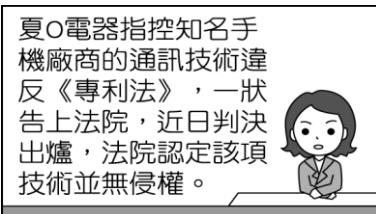
1. () 兩位友人正在討論關於智慧財產權取得的方式，根據對話內容，下列何者較可能是他們查詢後的結果？



- (A) 正式錄製出版取得商標權 (B) 應該向相關單位申請審查 (C) 著作完成時即取得著作權 (D) 只能由公司行號遞交申請。
2. () 附圖為研討會中一名主講人的演講內容，由內容可判斷，他關注的重心應與下列何者最相關？



- (A) 電信業者應對所有使用人進行言論管控 (B) 資訊科技讓人與人之間的溝通更為順暢 (C) 社群傳播媒體有助於滿足民眾的求知欲 (D) 網路使用者應培養自律、守法的網路禮節。
3. () 佑漢預計在畢業展中將「蒙娜麗莎」畫作做成海報布置，幾位同學擔心是否違反智慧財產權規定，下列何人的認知最正確？
- (A) 小炳：創作者已過世超過 50 年，所以可以使用 (B) 小坤：必須聯繫其家人，取得對方同意才能使用 (C) 小俐：作品被創作出來後 50 年，即可自由使用 (D) 小好：使用他人創作只須註明出處，即合乎法律。
4. () 某知名網站的全球使用者高達數億人，連美國總統訪問非洲前，也邀請非洲民眾透過此網站傳達即時的意見與問題。下列何者最適合用來說明上述現象？
- (A) 全球化現象中的國際分工趨勢 (B) 工業發展造成的全球環境變遷 (C) 科技發展衍生的科技倫理問題 (D) 資訊科技打破了國與國的界線。
5. () 附圖為一則新聞報導，根據播報內容，下列何項推斷最正確？



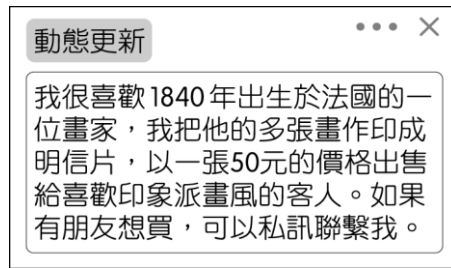
- (A) 法院認定通訊技術不屬於智慧財產權 (B) 該項技術權利自發明成功時即可取得 (C) 基於資訊共享，任何人都能合理使用 (D) 該法立法目的在保護發明，促進產業發展。
6. () 弘傑為畢業典禮表演活動創作了一首歌，他想知道這首歌曲著作財產權的保障期限，下列哪一位同學的說明最正確？



7. () 阿穆：「2010 年前後，中東及北非出現數起反對政府的抗議活動，該地區有些國家的人民知曉後也紛紛響應，一夕間使得幾個掌權長達數十年的政權，突然都面臨了民主的考驗。」
- 小格：「這波革命風潮的種子之所以如此迅速地散播，應該是受到新的大眾傳播工具影響吧！」
- 上述二人的對話內容，最可能是強調下列何者的重要性？
- (A) 科技發展加快訊息傳遞的速度 (B) 政黨輪替落實民主政治的精神 (C) 工業革命帶動生產技術的轉變 (D) 運輸工具縮短旅行各國的路程。
8. () 幾名友人想開設直播頻道，只要有網友點閱就能獲得收益，有人建議從其他頻道原樣複製片段內容，可節省製作節目的費用與時間，下列何人的回應較為適當？



9. () 莫娜看到一則朋友的動態分享，根據她在公民課上所學，這位朋友的行為並未違反著作財產權的法律規定，下列何者較可能是她所抱持的觀點？




- (A) 並未在公開場合進行販售 (B) 銷售明信片所得利益不高 (C) 利用質量占原著比例較低 (D) 著作權人死亡已超過50年。

10. () 以下為社群網站上的一則公開留言，身為資訊科技的使用者，下列何人的處理方式較為適當？

花花邀請您加入永富飆股群組～
參加會員完全免費，只要填寫姓名、生日、職業、地址，還能收到50元超商禮券和生日禮品。名額有限，額滿截止。
快來私訊我！

- (A) 注意防範個資被不法分子利用。
(B) 只是填寫資料並不會造成損失。
(C) 應將好康訊息分享給其他友人。
(D) 可先加入，收到禮券後再退出。

11. () 附圖為一名投稿者收到出版單位的回覆訊息，根據內容判斷，該投稿者無法通過初步審核的原因為何？



- (A) 主題與內容不符合對方的需求 (B) 投稿者未與其他學者共同合作 (C) 投稿目的是以公眾利益為考量 (D) 利用質量占原著作的比例過高。

12. () 附圖是小特探討科技發展對人類的影響時，用以說明的部分文字。根據內容判斷，他最可能是以科技與下列何者的關係為主題？

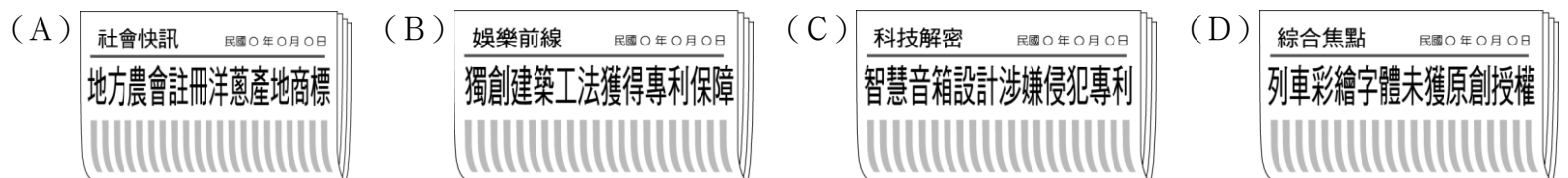
……人們曾經因為使用電話而減少書信往來，現今則透過電子郵件、線上聊天室或網路攝影機，無須親自見面，就可作即時的聯繫。

- (A) 人口轉型 (B) 工作型態 (C) 社區形成 (D) 社會互動。

13. () 國中生為社會的一分子，如何應用資訊科技參與公共事務，培養關懷社會的公民素養，下列哪一項做法較為適當？

- (A) 為了表達對政策的不滿，上網留言攻擊政府部門 (B) 用全數精神和時間關注社會現況，課業排在其次 (C) 關心時事，使用盜版資訊設備收看各類新聞節目 (D) 透過社群媒體，學習與其他人理性討論社會議題。

14. () 宜雯認為智慧財產權的觀念十分重要，想深入學習《著作權法》的案例，她應選擇下列哪一則新聞？



15. () 使用他人的智慧成果可能會侵犯其智慧財產權，下列情境何者屬之？

- (A) 在課堂上解說紅樓夢的部分內容
(B) 將達文西的畫作製成T恤來穿
(C) 下載網友翻拍的院線電影在家欣賞
(D) 經過創作者同意將其小說公開分享

16. () 「人肉搜索」是一種在網路上作為報復策略的技術，其英文單字「Doxxing」衍生自「docs」，也就是文件「document」簡寫，表示收集並發布某人的個人資料。在美國，聯邦和各州的法律都認為人肉搜索是非法的，尤其是故意損及他人名譽，或者公開他人資料，讓其處於危險之中。根據上述，人肉搜索在美國被視為非法的原因為何？

- (A) 與憲法保障的言論自由抵觸 (B) 影響人與人互動的和諧溝通 (C) 網友取代法官實現公平正義 (D) 此行

為涉及侵犯個人隱私權。

17. () 由附圖中的對話內容判斷，彩勳所指的法律應為下列何者？



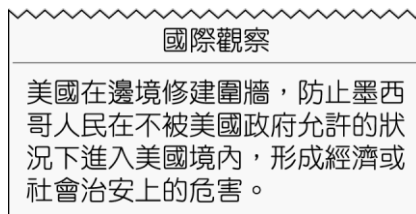
- (A)《專利法》 (B)《商標法》 (C)《著作權法》 (D)《社會秩序維護法》。
18. () 某位律師提到：在符合特定情形下，如在自家空間作畫、司法機關為了判決必須重製他人著作、教師為了教學需要重製部分內容等，便不會有侵害著作權的疑慮。上述律師所舉的特定情形應屬於何種範圍？
(A)保障年限 (B)合理使用 (C)授權使用 (D)公開發表。
19. () 以下是一篇文章的部分節錄，根據內容，這段文字帶給我們的省思最接近下列何者的意涵？

古人在追求長生不老的煉丹製藥過程中，意外發現了取人性命的火藥，但當時並未獲得重視，用於煙花炮竹居多，唐代之後，用於火器，威力也不盡人意。但傳入西方後，火藥大放異彩，成為現代武器發展的基礎，從而被廣泛應用到中西方的戰爭當中。但諷刺的是，作為發明火藥的國家，最終卻反受其累，成為火藥的被征服者，西人攜帶洋槍洋炮長驅直入，開啟了國家百年的屈辱歷史。

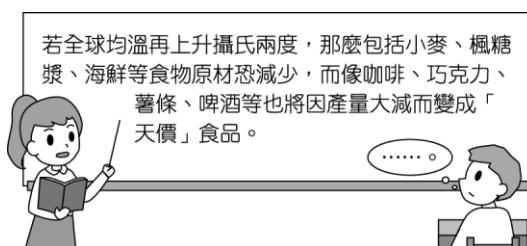
- (A)科技定能解決生活中的所有問題 (B)各種科技只會朝不好的方向發展 (C)運用科技應考量可能產生的後果 (D)立意良善的科技不會有負面影響。
20. () 在警政署的統計數據中，網購詐騙比例高。詐騙集團在網站張貼不實資訊、盜用商品頁面供買家下單，或者隨機寄送劣質、未購買的商品給買家，導致買家受騙。下列敘述，何者最能呼應上文？
(A)民眾可能轉發錯誤的網路資訊，讓不實訊息流傳 (B)網購詐騙問題可能導致消費者隱私權遭受到侵害
(C)網路詐騙使消費者對網購的信賴度產生負面影響 (D)五花八門的廣告，使得網路購物的比率大幅下降。
21. () 以下為阿湘在部落格上的心得分享，請判斷她的煩惱應與下列何種現象最相關？

職業甘苦談
雖然朋友們都羨慕我當空姐打扮得光鮮亮麗，但只要某個國家爆發傳染病疫情，我就開始煩惱，因為每天接觸的國際旅客這麼多，實在很擔心被傳染啊！

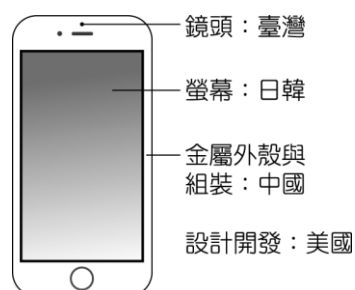
- (A)城鄉發展 (B)產業升級 (C)全球關連 (D)國際分工。
22. () 附圖為某雜誌刊登的一篇報導，依照內容判斷，下列何者較符合圖中所述觀點？



- (A)墨西哥人民為躲避戰爭大量逃往美國 (B)依國際公約，美國須接受文中的移民 (C)修建圍牆是為了處理非法移民的問題 (D)美國需要墨西哥人民提供社會勞動力。
23. () 外籍人士移民到臺灣，帶動一家家韓式、泰式、越南、印尼等異國風味餐廳、商店林立，這主要是受到下列何種因素的影響？
(A)文化交流 (B)種族歧視 (C)政治民主 (D)資訊科技。
24. () 某一極權國家封鎖網路，並管制外來資訊，以防止如茉莉花革命的民主思潮動搖其專制政權。上述該國家的做法應是為了遏阻發生下列何種現象？
(A)全球關連 (B)國際分工 (C)貧富不均 (D)國際貿易。
25. () 附圖為公民老師與學生的課堂對話，請判斷學生應回應下列哪一內容才正確？



- (A)政府應致力縮小貧富差距 (B)我們應學習包容多元文化 (C)雇主應改善勞動環境 (D)人人應關注全球環境議題。
26. () 「你知道手機是怎麼製成的嗎？」附圖為某品牌手機的分工圖，圖中凸顯出下列何種現象？



- (A)政治全球化 (B)經濟全球化 (C)文化全球化 (D)教育全球化。

27. () 以下為東蓁的報告內容，請判斷此報告應與下列何項議題有關？

由於平價成衣品牌在國際市場上的崛起，使跨國企業賺取到大筆利潤，但開發中國家的生產者卻得不到合理的薪酬待遇。

(A)文化議題 (B)貧富不均議題 (C)難民與移民議題 (D)環境議題。

28. () 各地文化的差異愈來愈小，而大家的行為模式則會愈來愈受當代西方文化的影響，許多傳統在地文化也將從此消失。造成上述情形的主要因素為何？

(A)外來文化進入國內，與本地文化沒有互動 (B)具有龐大資源的國家有能力對其他弱勢國家輸出其流行文化產品 (C)聯合國推動相關公約的制定 (D)小國能力不敵大國，所以小國的文化毫無價值，禁不起考驗。

29. () 位於新北市中和區的華新街是一條充滿異國風情的街道，有 20 餘家專賣緬甸風味的小吃店緊密相臨，另外也有專門販售緬甸各式食品的雜貨鋪，因此這條街也被暱稱為「緬甸街」。上述最能顯示下列何種現象？

(A)資訊全球化 (B)政治全球化 (C)教育全球化 (D)文化全球化。

30. () 凱立正在探討貧富差距現象，根據以下他寫的前言推斷，他關注的重點最可能為下列何者？

……我們在超市購買一塊品牌巧克力餅乾，是多少西非可可生產國的廉價勞工被剝削的結果？

(A)已開發國家負責低技術的生產工作 (B)開發中國家主導整個設計研發過程 (C)跨國企業為減低成本開設血汗工廠 (D)大部分利潤落至低技術的勞工身上。

31. () 永森在段考前整理公民課的筆記，如附圖。請判斷筆記中有哪個地方寫錯了？

3-1 全球化及其影響
(甲)全球化的過程使世界成為一個地球村
(乙)全球化是工業化後出現的概念
(丙)全球化的影響包括經濟、政治、文化等面向
(丁)全球化的面向是交互影響

(A)甲 (B)乙 (C)丙 (D)丁。

32. () 小建與爸媽到國外遊玩，回國時被海關攔下，因爸媽違規從非洲豬瘟疫區夾帶豬肉產品入境，可能造成危害。上述政府限制國人不得非法將豬肉產品帶入國內的原因為何？

(A)避免國內豬肉滯銷 (B)未能繳納足額稅金 (C)杜絕他國商業競爭 (D)防止疾病跨國傳播。

33. () 附圖中兩人的對話內容，可用來說明下列何種現象？

我剛剛打電話向速食店訂漢堡時，感覺店員的口音不像是臺灣人。
那是因為店家把業務外包給香港公司，所以是由在香港的客服人員為你服務的。

(A)全球化 (B)都市化 (C)區域化 (D)普及化。

34. () 附圖中的新聞提醒世人應關注下列何種議題？

快訊
警方日前破獲最大宗的跨國兒童販運案，每名兒童被以 3,000 到 7,000 美金售出。

(A)跨國犯罪議題 (B)文化議題 (C)跨國疾病議題 (D)貧富不均議題。

35. () 課後學習單的主題為「從生活中觀察全球化帶來的影響」，下列哪位同學的回答有誤？

(A)材學：學校的制服是中國製造 (B)宗秀：學校聘請外籍教師授課 (C)東鎰：因應 WTO 要求，我國推動「產地標章」制度 (D)翊純：使用閩南語和長輩溝通。

36. () 以下報導中，乳品感染事件的影響範圍，可用來說明下列何種現象？

【快訊】全球第四大乳品生產商的原料感染肉毒桿菌，該公司在 7 國回收千噸產品。

(A)都市發展 (B)產業轉型 (C)國際分工 (D)全球關連。

37. () 國際貿易的結果可以增進全人類的福祉，但是下列何者的作為卻讓國際間的貧富差距更加擴大？

(A)國際組織 (B)跨國企業 (C)開發中國家 (D)極權國家。

38. () 小丁：「我發現愈來愈多人習慣在跨國連鎖速食店用餐，所以傳統餐飲業的生意大受影響。」阿望：「對呀！我也發現行銷全球的某品牌牛仔褲，在世界各地熱賣，並改變流行的風潮。」根據上述二人的對話，他們最可能是在討論全球化所造成的何種衝擊？〔99.第一次基測修訂〕

(A)行銷費用的降低 (B)區域統合的趨勢 (C)國際貿易的衰退 (D)全球文化單一化。

39. () 外電消息：「一艘從利比亞托布魯克出發欲前往義大利的船隻，船上超載了來自埃及、敘利亞和巴基斯坦的偷渡客，14 日凌晨在希臘外海翻覆沉沒，已尋獲至少 78 具遺體，但僅救起 104 人，還有數百人恐怕凶多吉少，成為歐洲近年來最致命的船難之一。」上述國際新聞的事件，應屬於全球化哪一議題的類型？

(A)貧富差距議題 (B)難民議題 (C)移民議題 (D)文化議題。

二、題組題：三大題，每小題 2 分，共計 12 分。

- 隨著資訊科技的發展，網路社群平臺成為個人分享心情或創作的管道之一，即使非公眾人物也擁有數千至數萬的追蹤者透過平臺與其互動。許多人嗅出商機，利用經營網路社群獲取收益，但在追逐獲利的同時，不應輕忽智慧財產權的法律問題，以免侵害他人權益。例如：國外某知名社群平臺被數家音樂公司控告未提供授權付費機制，讓平臺使用者在影片中擅自播放有版權的音樂，除了使用者可能因此吃上官司之外，音樂創作者亦蒙受巨大損失。而在臺灣，一般民眾經營網路社群，應在「合理使用」範圍內使用他人創作，但若從事商業行為，同樣必須遵守相關法律規定，以免觸法。請問：
() (40)關於上文提及的國外案例，應是何種權利受到侵害的爭議？ (A)專利權 (B)商標權 (C)隱私權 (D)著作權。
() (41)上文提及的「合理使用」，下列何者屬之？ (A)剪輯電影的精華片段，對劇情內容進行解說批評 (B)分享插畫作品的官網連結，鼓勵愛好者前往購買 (C)上傳整張流行音樂 CD，提供粉絲拷貝私下欣賞 (D)將新出版的小說製成文字檔案，讓大家自由閱讀。
- 外電報導：「一群開發中國家的中產階級透過網路，展開國際大串連，要求政府杜絕貪腐，給予他們適當的生活品質、發展機會和言論自由。許多人在網路上看到其他國家所發起的抗議行動，也紛紛起而效之。」請問：
() (42)世界各地的人民透過社群網站串聯起來，紛紛展開對本國政府的抗議活動。這股風潮的延燒應與下列何者有關？ (A)都市化 (B)社會化 (C)政治化 (D)全球化。
() (43)原本只是某個國家中產階級的抗議行為，卻跨越國界引起其他國家的迴響，這正可說明下列何種現象？ (A)族群衝突 (B)國際分工 (C)全球關連 (D)企業合作。
- 瑋樺在網路上瀏覽資訊時，看到一篇公民記者撰寫的文章：「新型冠狀病毒疫情擴散全球，為避免群聚感染，遠距上班成為一種常態式的工作型態。但位於開發中國家的跨國企業工廠，卻無法透過這樣的方式進行生產，即使在疫苗和防護裝備皆不足的狀況下，以勞力謀生的人們迫於生計必須上工，在賺取微薄薪資的同時，承擔著高風險。如果不幸染疫，必須獨自面對龐大的醫療照護費用，甚至失去現有的工作，而像這類從事生產的產業，很快就能找到新的員工讓生產鏈繼續運作下去，跨國的總公司持續在賺錢，但因疫情倒下的勞工可就沒那麼幸運了。」請問：
() (44)上述的生產鏈應該具有下列何種特色？ (A)勞動力較不易被取代 (B)薪資比總公司員工高 (C)適用於遠距工作型態 (D)多從事低技術的生產流程。
() (45)根據上文，可以觀察到跨國經濟活動對於開發中國家帶來何種影響？ (A)國家透過國際分工賺取豐厚利潤 (B)農村地區設置工廠獲得開發機會 (C)工人因疫情承受更多壓力和衝擊 (D)生態環境因公民參與而受到重視。

三、配合題：三大題，每小題 1 分，共計 10 分。

- 請依據下列敘述，將正確的答案代號填入空格內：

(A)《著作權法》 (B)《專利法》 (C)《商標法》

- () (46)保障著作人的著作權益，調和社會公共利益，促進國家文化發展。
() (47)保障商標權及消費者利益，維護市場公平競爭。
() (48)鼓勵、保護、利用發明與創作，以促進產業發展。
- 資訊科技發展雖然帶來便利，卻也存在隱憂，為降低資訊科技發展帶來的風險，需要多方努力。請判斷以下情境分別屬於哪一方面的努力，將正確代號填入空格中。

(A)政府 (B)企業 (C)使用者

- () (49)電信業者強化資訊安全服務，研發偵測系統防禦不肖分子的攻擊，以提供安全的網路環境。
() (50)民眾瀏覽網路訊息時，應多方查證思考，不隨意分享，以防成為不實訊息的傳遞者。
() (51)立法院修訂《刑法》相關規定，避免有心人士侵害他人隱私及名譽。

- 全球化對現代生活帶來深切影響，卻也引發不少挑戰。請判斷以下情境分別屬於何種議題，將正確代號填入空格中。

(A)貧富不均議題 (B)難民和移民議題 (C)文化議題

- () (52)法國發放政治庇護身分給因政治立場遭迫害而被迫離開阿富汗的人民。
() (53)對於印度、印尼、緬甸等國家習慣用手進食，其他慣於使用餐具的人較難適應。
() (54)比利時通過「禁止在公共場所戴面紗」的法案，引發伊斯蘭教徒的抗議。
() (55)全球富裕人口僅占總人口 10%，卻掌握 76% 的財富；全球貧窮人口占總人口 50%，卻僅擁有 2% 的財富。



~人逢順境不逞強，身處逆境不示弱。~