

基隆市中山高中 109 學年度 第一學期 第二次段考 國中部七年級

地理試題

範圍：第一冊 第 3~4 課

班級：

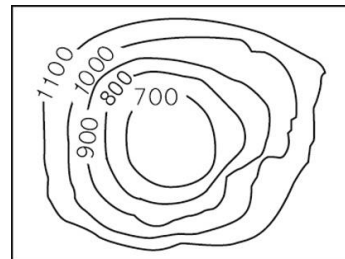
座號：

姓名：

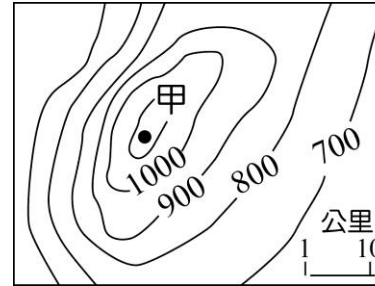
#全部試題都有一個最適合的答案，請將正確答案劃在答案卡上。

一、單一選擇題：每題 2 分，共 84 分

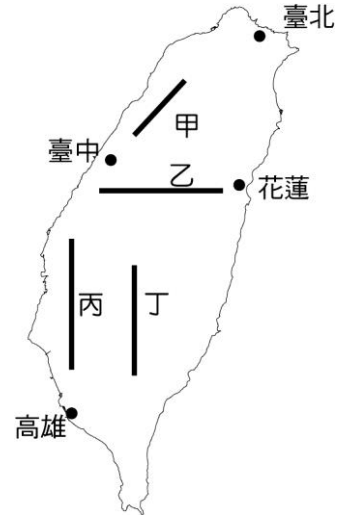
- () 臺灣因為位於哪兩個板塊交界處，因此地震活動頻繁？
(A)歐亞板塊、太平洋板塊 (B)菲律賓海板塊、太平洋板塊
(C)歐亞板塊、菲律賓海板塊 (D)印澳板塊、歐亞板塊。
- () 改變地表形貌的力量，主要可以分為外營力與內營力兩種。所謂內營力是指地球內部的熱力作用，下列何者即屬於內營力的作用？
(A)冰河侵蝕 (B)風力侵蝕 (C)河流堆積 (D)板塊擠壓。
- () 臺灣的五大地形中，以哪種地形所占的面積最大？
(A)平原 (B)盆地 (C)山地 (D)丘陵。
- () 褐色叢樹鶯為臺灣特有種生物，因其鳴聲「滴-答答——滴-答答」似打電報聲，也被稱作「電報鳥」。牠以食蟲為主，隱密而不易目睹。附圖為褐色叢樹鶯的棲地分布圖，由圖可知，下列哪種地形為其主要棲息環境？
(A)盆地 (B)山地 (C)平原 (D)高原。
- () 在等高線的判讀上，哪種狀況代表的是河谷？
(A)呈「X」字型，尖端向高處 (B)呈「X」字型，尖端向低處
(C)呈「V」字型，尖端向高處 (D)呈「V」字型，尖端向低處。
- () 彥欽在評量卷裡看到一張等高線地形圖(如附圖)，這可能是下列哪種地形？
(A)山地 (B)丘陵 (C)臺地 (D)盆地。
- () 暑假時宗緯和家人到宜蘭參加國際童玩節的活動，車子奔馳在蘭陽平原上，此時兩側所看到的山脈最可能為何？
(甲)玉山山脈 (乙)雪山山脈 (丙)海岸山脈 (丁)中央山脈 (戊)阿里山山脈
(A)甲乙 (B)甲丙 (C)乙丁 (D)丁戊。
- () 蘭陽平原、嘉南平原都是臺灣的農業帶。請問：這些平原的成因是下列何種作用造成？
(A)風力堆積 (B)河川堆積 (C)海水侵蝕 (D)冰河侵蝕。



- () 附圖是某地的等高線地形圖。圖中「甲」地的高度最有可能是多少公尺？
(A)956 (B)1,042 (C)1,157 (D)1,520。

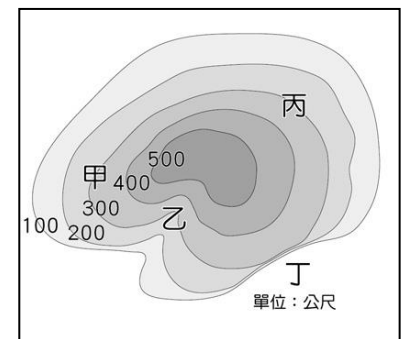


- () 臺灣位於板塊交界帶，在內、外營力相互作用下，地形豐富多樣。近年來，自行車運動盛行，政府以及民間單位規畫了許多自行車步道以及高難度挑戰路線。附圖中，哪段自行車路線的相對高度最大，最具挑戰性？
(A)甲 (B)乙 (C)丙 (D)丁。

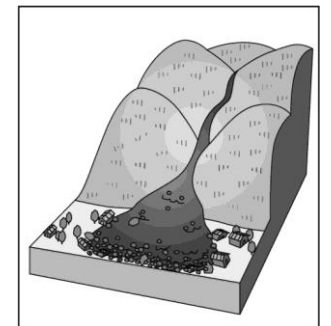


- () 在分層設色地形圖上，綠色通常代表哪種地形？
(A)平原 (B)海洋 (C)山地 (D)盆地。

- () 附圖為一等高線的地形圖。請問：圖中哪點的所在位置最可能為「河谷」？
(A)甲 (B)乙 (C)丙 (D)丁。



- () 大雄想繪製一張日本富士山的地形剖面圖，他需要哪種資料的輔助，才能正確繪製出富士山的地形起伏情形？
(A)航空照片 (B)立體地形圖 (C)等高線地形圖 (D)衛星雲圖。
- () 造成附圖這種災害的主要原因不包括下列何項條件？
(A)過多的降水 (B)過陡的坡面 (C)鬆散的地質構造 (D)平地種植過多的檳榔。



15. () 考試將近，同學們熱烈討論有關地形的上課重點。請問：誰的發言不正確，可能須要再調整觀念？

平原為地勢低且開闊平坦的地形。



(A)

臺地的高度比丘陵高，起伏也較大。



(B)

山地相對高度高，坡度也較陡峭。



(C)

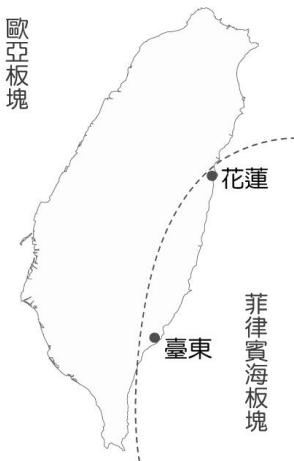
盆地是指四周高中間低的地形。



(D)

16. () 右圖為臺灣島所在的兩大板塊分布示意圖，請問：由臺灣山脈走向與圖中板塊的分布位置，可推論菲律賓海板塊移動的方向可能為何？

- (A)→
(B)↓
(C)↘
(D)↙



17. () 哪些地形圖已經可以利用高科技技術呈現真實地表的影像？

(甲)分層設色圖 (乙)地形剖面圖 (丙)航空照片 (丁)衛星影像

(A)甲乙 (B)甲丁 (C)乙丁 (D)丙丁。

18. () 臺灣山坡地幅員較廣，水土保持局為了防止土地違法開發，提高衛星監測通報頻率，由兩個月一次提增至每月一次，藉此增加水土保持管理效率。請問：上述政策的轉變主要和衛星影像的哪種特性最為相關？

(A)偵測位置高，涵蓋範圍廣 (B)信息資料數位化，方便處理
(C)資訊的獲得不受天氣變化影響 (D)更新快速且可比對不同時期資料。

19. () 近年來，自然景觀休閒遊憩「遊客總量管制」的觀念漸受重視，亦即在不破壞自然環境的前提下，評估該景觀可以承受的限度來安排遊客人數，如福山植物園便是採行事先申請、限額入園的做法。請問：上述內容最能顯示下列何種意涵？

(A)土地過度使用超過負荷 (B)珍惜資源以求永續經營
(C)國土使用規畫日漸完備 (D)週休二日休閒模式改變。

20. () 臺灣東半部的主要河川大多是由西向東流，西半部的河川則多由東向西流，造成此現象的主要原因，與臺灣何種地形特徵最為相關？

(A)山脈南北走向 (B)地勢高聳陡峭 (C)山地多平原少 (D)山地偏向東部

21. () 珊瑚礁島為珊瑚礁所構成的島嶼，由於珊瑚生長緩慢，珊瑚礁島大多有下列何種特徵？

(A)海水較深 (B)起伏較大 (C)地勢低平 (D)位於溫帶

22. () 臺灣島的脊梁，對東西交通產生極大的阻隔，也是東、西部河川的分水嶺是何者？

(A)中央山脈 (B)雪山山脈
(C)玉山山脈 (D)阿里山山脈。

23. () 右圖是十七世紀西班牙人繪製的地圖，由圖中海岸線的型態可知，該地最可能具有下列何種地理特性？

(A)海岸線平直
(B)多沙洲瀉湖
(C)海水深度大
(D)港灣易淤積



24. () 某地理實察解說如下：「該地區早期為河川沖積形成，而後受到內營力作用而使地層抬升，最後兩側出現河川侵蝕作用，而形成現在的地形。」請問：上述考察地點應該為下列哪一地形區？

(A)雪山山脈 (B)埔里盆地 (C)林口台地 (D)嘉南平原。

25. () 「在臺灣，人口主要都集中在□□和□□兩種地形區，因為這裡地勢較低平，早期適合發展農業。」請問：上述的兩種地形應該是何者？

(A)平原、盆地 (B)平原、丘陵
(C)丘陵、台地 (D)盆地、丘陵。

26. () 船長阿智駕駛著鯨豚號漁船在南太平洋海域捕魚，此時船上水手適時提醒船長說：「前面就是智利的經濟海域範圍，如果再繼續向前的話，可能會被海上巡防隊扣押或驅逐。」請問：通常界定的經濟海域範圍是距離海岸線多少浬之處？

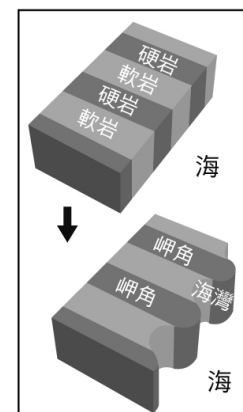
(A)12 (B)20 (C)60 (D)200。

27. () 海岸主要可劃分為「岩岸」與「沙岸」兩種類型。請問：海岸分類的主要依據是下列何者？

(A)沿岸土地利用 (B)海洋水溫高低
(C)海岸構成物質 (D)海岸曲直形態。

28. () 附圖最能解釋臺灣哪個地區海岸的成因及特色？

(A)東部海岸
(B)西部海岸
(C)南部海岸
(D)北部海岸。



29. () 品棋進行澎湖群島的地理實察，發現島上覆蓋著大片的黑色玄武岩石塊，此地質環境的形成與下列哪種營力有關？

- (A)山脈入海 (B)火山活動 (C)珊瑚鈣化 (D)海水堆積。

30. () 附圖是珊瑚蟲生育條件示意圖。依圖判斷，臺灣哪個地區內最可能有廣大的珊瑚礁地形分布？

- (A)西南沿海 (B)恆春半島 (C)花東沿海 (D)東北角沿海。

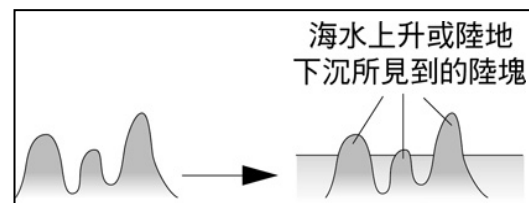


31. () 人類會因所在地區環境的差異，發展出最適合當地居民生活的生產方式。請問：臺灣離島上的居民，較有利於從事下列哪些經濟活動？

- (A)漁業、觀光 (B)林業、畜牧
(C)礦業、農業 (D)商業、工業。

32. () 臺灣周圍離島的成因不同，下列哪個島嶼的成因最能以附圖來說明？

- (A)蘭嶼
(B)金門列嶼
(C)太平島
(D)澎湖群島。

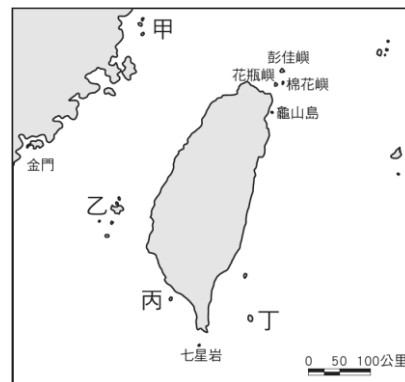


33. () 綠島的朝日溫泉，泉水自海岸邊的礁石湧出，形成位於海裡的露天溫泉浴場，在義大利西西里島也有這種類似的溫泉。請問：海底溫泉的成因最可能是下列何者？

- (A)大陸棚廣大 (B)珊瑚礁廣布
(C)黑潮暖流經過 (D)位於板塊接觸帶上。

34. () 附圖中「丁」島嶼形成原因屬於下列哪種類型？

- (A)火山島
(B)大陸島
(C)沙洲島
(D)珊瑚礁島。



35. () 妙麗最近接到旅行社的傳單：「屏東鮪魚季開跑，六月後地點將延伸到琉球嶼。琉球嶼現正推出『HAPPY GO』旅遊方式，行程包括自行車環島生態體驗，導覽服務。含船票及風景區門票，每人只要 410 元。」琉球嶼主要有何種海岸景觀吸引大批遊客前往？

- (A)岬灣 (B)潟湖 (C)斷層 (D)珊瑚礁。

36. () 附圖中哪座島嶼目前的主權劃分仍有極大的糾紛與爭執，常造成臺、中、日三方間的緊張形勢？(A)甲 (B)乙 (C)丙 (D)丁。



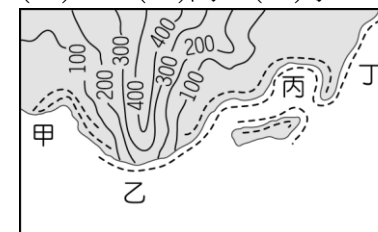
37. () 附表為沙岸及岩岸的比較表。依據所學判斷，表中哪項資料錯誤？

- (A)甲 (B)乙 (C)丙 (D)丁。

海岸分類	(甲)海岸線	(乙)沿岸地形	(丙)沿海平原	(丁)港灣島嶼
沙岸	平直	海底平淺	狹窄	缺乏港灣島嶼
岩岸	曲折	灣闊水深	寬廣	多港灣島嶼

38. () 海邊的燈塔由於地勢高且視野廣，除了用來指引船隻方向外，還是著名的觀光景點。請問：附圖中何處為興建燈塔的理想位置？

- (A)甲 (B)乙 (C)丙 (D)丁。



39. () 臺南的古戰場海域為鄭成功登陸之地，當地立有石碑，如附圖所示，主要用來表示當敵方船隻入港時，在防衛上的重要性。請問：當地海岸易守難攻最主要的因素可能為何？

- (A)海底水淺
(B)海岸彎曲
(C)岬角分布
(D)珊瑚礁岩。

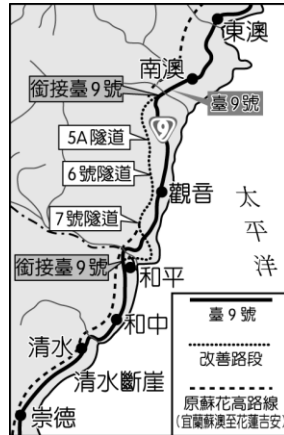


40. ()臺灣的養殖漁業相當發達，由於技術進步且不斷更新，素有「鰻魚王國」、「吳郭魚王國」、「虱目魚王國」及最近的「石斑魚王國」之稱。請問：下列何種海岸最適合上述產業的發展？

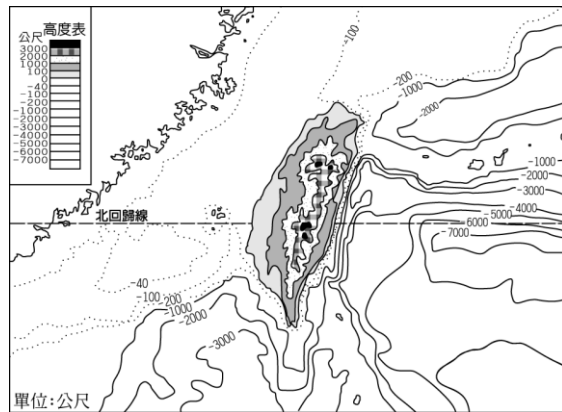
- (A)岬灣海岸
- (B)沙質海岸
- (C)斷層海岸
- (D)珊瑚礁海岸。

41. ()近年來政府希望藉由改善交通運輸，以促進臺灣東部的發展，附圖為蘇花公路改善路段示意圖，由圖中地理位置判斷，該路段經過的海岸具有哪一特色？

- A)多沙洲與潟湖
- (B)海岸線曲折
- (C)常見懸崖峭壁
- (D)珊瑚礁石滿布。



42. ()附圖是臺灣附近海域的等深線圖，由圖中可以發現，臺灣哪一側的海水深度相對較淺？



- (A)東側
- (B)西側
- (C)南側
- (D)北側。

二、題組：每題兩分，共 16 分

(一)、位於埔里盆地的健康國中的九年級畢業旅行，預計要環臺一周；由於擔心同學在過程中走馬看花，同時也想寓教於樂，因此老師們規畫了學習單，要求學生在出發前先完成。附圖是畢業旅行的行程簡介，說明了過程中要參觀的地點。

各位親愛的同學及家長們好～
 本校預計於 10/1～10/5 展開為期五天的國三畢業旅行。以下為您簡單說明此次的參觀路線：

10/1：學校－臺中(太陽餅、科博館)－新竹(新竹米粉和新竹貢丸)

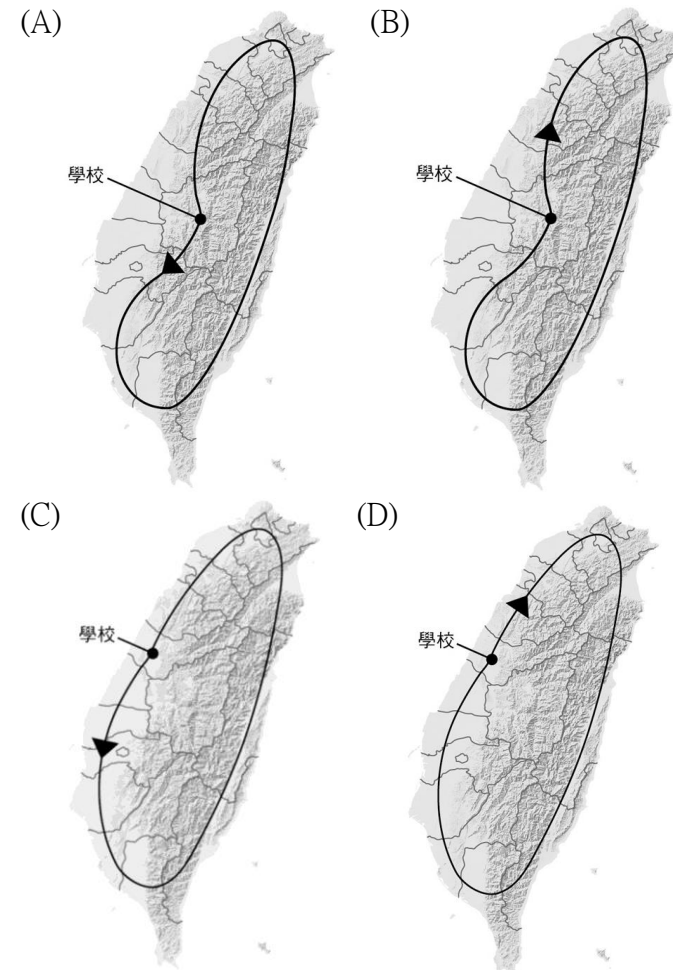
10/2：新竹－臺北(101 大樓、故宮博物院)

10/3：臺北－宜蘭(冷泉、蘭陽夜市)

10/4：宜蘭－花蓮(麻糬、太魯閣)－臺東(泡溫泉)

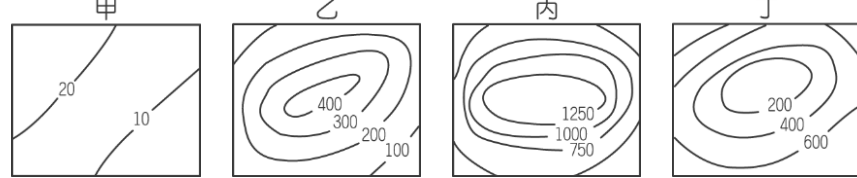
10/5：臺東－高雄(85 大樓、愛河)－南投(學校)

43. ()根據行程介紹，本次畢業旅行的路線應為圖中何者？



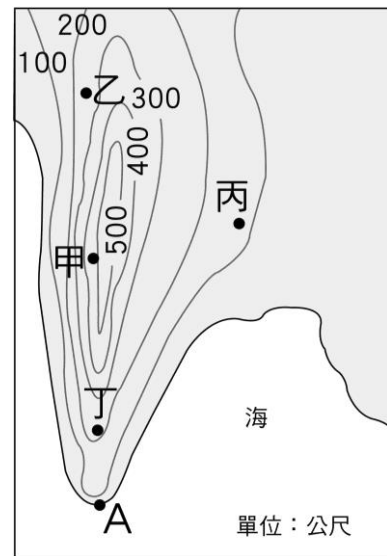
44. ()10/4 的行程中，經過某地形區時。只見兩側都是高聳的山脈，車子行經其間，像是經過一個狹長的通道。請問：此時應是位於哪個地形區？
 (A)花東縱谷平原 (B)蘭陽平原
 (C)泰源盆地 (D)屏東平原。

(二)、附圖中有四幅等高線地形圖，依據圖中資料，回答下列問題：



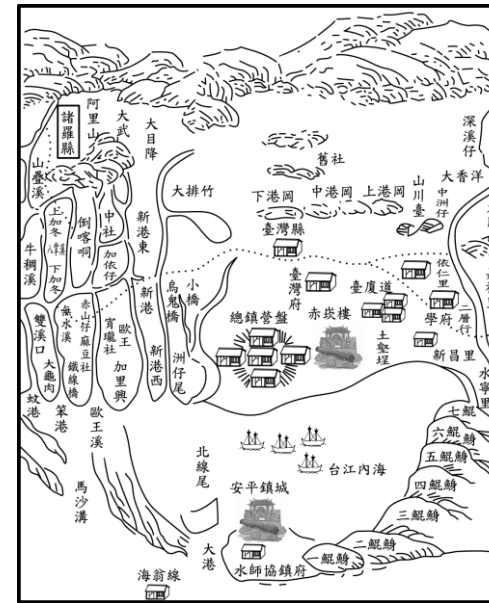
45. () 臺灣本島缺乏哪一類地形？ (A)甲 (B)乙 (C)丙 (D)丁。
 46. () 哪一類地形附近的居民最可能在當地開闢茶園、果園？
 (A)甲 (B)乙 (C)丙 (D)丁。

(三)、請根據附圖回答下列問題：



47. () 圖中 A 地海岸地形最可能為何？
 (A)岬角 (B)瀉湖 (C)三角洲 (D)沙洲。
 48. () 圖中甲乙丙丁四地何者坡度最平緩？ (A)甲 (B)乙 (C)丙 (D)丁。

(四)、附圖為清康熙時期的臺灣府古地圖，請根據該圖回答下列問題：



49. () 圖中的「台江內海」一帶是指下列哪一種海岸景觀？
 (A)海蝕門 (B)岬角 (C)瀉湖 (D)沙洲。
 50. () 圖中沿海一帶的「鯤鯓」是指下列哪一種海岸景觀？
 (A)沙洲 (B)海蝕崖 (C)岬角 (D)防波堤。